


|

DDA

Junior Secretariat Assistant

Previous Year Paper
10 Nov 2020 Shift 2
(Hindi)



Test Prime

**ALL EXAMS,
ONE SUBSCRIPTION**



70,000+
Mock Tests



**Personalised
Report Card**



**Unlimited
Re-Attempt**



600+
Exam Covered



**Previous Year
Papers**



**500%
Refund**



ATTEMPT FREE MOCK NOW

Q.4 IIT बॉम्बे के इंजीनियरिंग छात्रों की टीम ने _____ नामक निम्न लागत वाला मैकेनिकल वेंटिलेटर विकसित किया है।

- Ans
- ☒ 1. रामोर (Ramor)
 - ☒ 2. रत्ना (Ratanaa)
 - ☒ 3. रूहदार (Ruhdaar)
 - ☒ 4. राहत (Rahat)

Question ID : 59445925978
Status : Answered
Chosen Option : 4

Q.5 निम्न में से कौन-सा राष्ट्रीय डिजिटल संचार नीति, 2018 के अंतर्गत भारतनेट नवाचार का लक्ष्य है?

- Ans
- ☒ 1. शहरी क्षेत्रों में 10 लाख सार्वजनिक वाई-फाई हॉटस्पॉट स्थापित करना।
 - ☒ 2. 2022 तक प्रत्येक नागरिक को 50Mbps पर यूनिवर्सल ब्रॉडबैंड कनेक्टिविटी प्रदान करना।
 - ☒ 3. ग्रामीण क्षेत्रों में 20 लाख वाई-फाई हॉटस्पॉट स्थापित करना।
 - ☒ 4. सभी ग्राम पंचायतों में 1 Gbps ब्रॉडबैंड कनेक्टिविटी प्रदान करना जिसे बाद में 10 Gbps तक उन्नत किया जा सके।

Question ID : 59445925979
Status : Answered
Chosen Option : 3

Q.6 सितंबर 2020 में सीएसआईआर-सीएमईआरआई (CSIR-CMERI) ने _____ में विश्व का सबसे बड़ा सौर वृक्ष स्थापित किया था।

- Ans
- ☒ 1. हिमाचल प्रदेश
 - ☒ 2. पश्चिम बंगाल
 - ☒ 3. कर्नाटक
 - ☒ 4. उत्तराखंड

Question ID : 59445925976
Status : Answered
Chosen Option : 3

Q.7 निम्नलिखित में से किस राज्य में चित्रकला शैली, जिसे थांका चित्रकला शैली के नाम से जाना जाता है, लोकप्रिय है?

- Ans
- ☒ 1. झारखंड
 - ☒ 2. सिक्किम
 - ☒ 3. बिहार
 - ☒ 4. पश्चिम बंगाल

Question ID : 59445925960
Status : Not Answered
Chosen Option : --

Q.8 स्वदेश बन्धु समिति को अश्विनी कुमार दत्त द्वारा कहाँ स्थापित किया गया था?

- Ans
- ☒ 1. बरीशाल
 - ☐ 2. भोपाल
 - ☐ 3. भागलपुर
 - ☐ 4. भरतपुर

Question ID : 59445925973
Status : Not Answered
Chosen Option : --

Q.9 भारतीय जलवायु विज्ञान के संदर्भ में, ITCZ शब्द का पूर्ण रूप क्या है?

- Ans
- ☐ 1. इनर टॉप कन्वर्टेबल ज़ोन (Inner Top Convertible Zone)
 - ☐ 2. इनर टॉप कन्वर्जेंस ज़ोन (Inner Top Convergence Zone)
 - ☒ 3. इंटर ट्रॉपिकल कन्वर्जेंस ज़ोन (Inter Tropical Convergence Zone)
 - ☐ 4. इंटर ट्रॉपिकल कन्वर्टेबल ज़ोन (Inter tropical Convertible Zone)

Question ID : 59445925967
Status : Answered
Chosen Option : 3

Q.10 निम्न में से कौन-सा तंतुस्वरी प्रकार वाद्ययंत्र है?

- Ans
- ☐ 1. दाहरा
 - ☒ 2. एकतारा
 - ☐ 3. घाटम
 - ☐ 4. एक्कलम

Question ID : 59445925961
Status : Not Attempted and Marked For Review
Chosen Option : --

Q.11 निम्न में से किस नदी का जलग्रहण क्षेत्र अन्य तीन नदियों की तुलना में सबसे अधिक है?

- Ans
- ☐ 1. शरावती
 - ☒ 2. माही
 - ☐ 3. भारतापुज्हा
 - ☐ 4. पेरियार

Question ID : 59445925969
Status : Answered
Chosen Option : 4

Q.12 1897 में, रामकृष्ण परमहंस के शिष्य, स्वामी विवेकानंद ने _____ में रामकृष्ण मिशन को स्थापित किया था

- Ans
- ☒ 1. सोलापुर
 - ☒ 2. बेलूर
 - ☒ 3. लातूर
 - ☒ 4. विजयपुर

Question ID : 59445925971

Status : **Not Attempted and Marked For Review**

Chosen Option : --

Q.13 1398 ई. में तैमूर या तमेरलेन ने किस राजवंश के शासनकाल में भारत पर आक्रमण किया था?

- Ans
- ☒ 1. सैय्यद वंश
 - ☒ 2. तुगलक वंश
 - ☒ 3. खिलजी वंश
 - ☒ 4. लोदी वंश

Question ID : 59445925972

Status : **Answered**

Chosen Option : 2

Q.14 भारतीय जनगणना 2011 के अनुसार, भारतीय जनगणना 2001 के बाद राष्ट्रीय स्तर पर लिंगानुपात में _____ अंक की वृद्धि हुई।

- Ans
- ☒ 1. 5
 - ☒ 2. 11
 - ☒ 3. 9
 - ☒ 4. 7

Question ID : 59445925964

Status : **Not Answered**

Chosen Option : --

Q.15 निम्न में से कौन-सा वाद्ययंत्र कालबेलिया नृत्य शैली में प्रयुक्त विशिष्ट संगीत वाद्ययंत्र है?

- Ans
- ☒ 1. एसराज
 - ☒ 2. डफ
 - ☒ 3. पुंगी
 - ☒ 4. जंतर

Question ID : 59445925959

Status : **Not Answered**

Chosen Option : --

Q.16 निम्न में से कौन-सा कथन सिंधु घाटी सभ्यता के संबंध में सही नहीं है?

- Ans
- ☒ 1. इसे हड़प्पा सभ्यता के नाम से भी जाना जाता है।
 - ☒ 2. इसमें चौड़ी सड़कें और एक अच्छी तरह से विकसित जल निकासी प्रणाली थी।
 - ☒ 3. यह मूल रूप से एक ग्रामीण सभ्यता है।
 - ☒ 4. यह 2500 ईसा पूर्व के आसपास विकसित हुई थी।

Question ID : 59445925975
Status : Answered
Chosen Option : 3

Q.17 निम्न में से किस महीने में बीकानेर (राजस्थान) में प्रसिद्ध ऊंट महोत्सव का आयोजन होता है?

- Ans
- ☒ 1. फरवरी
 - ☒ 2. मार्च
 - ☒ 3. जनवरी
 - ☒ 4. अप्रैल

Question ID : 59445925962
Status : Answered
Chosen Option : 1

Q.18 निम्न में से कौन-सा बाघ अभयारण्य भारत के उत्तर पूर्वी भाग में स्थित नहीं है?

- Ans
- ☒ 1. मेलघाट बाघ अभयारण्य
 - ☒ 2. मानस बाघ अभयारण्य
 - ☒ 3. पक्के बाघ अभयारण्य
 - ☒ 4. नमदाफा बाघ अभयारण्य

Question ID : 59445925966
Status : Answered
Chosen Option : 3

Q.19 इनमें से किस दुर्ग में ग्रेट वॉल ऑफ़ चाइना के बाद, विश्व की दूसरी सबसे बड़ी दीवार स्थित है?

- Ans
- ☒ 1. कालिंजर दुर्ग
 - ☒ 2. आमेर दुर्ग
 - ☒ 3. कुम्भलगढ़ दुर्ग
 - ☒ 4. मेहरानगढ़ दुर्ग

Question ID : 59445925956
Status : Not Answered
Chosen Option : --

Q.20 प्रायद्वीपीय नदियां नर्मदा और तापी, _____ बहती हैं।

- Ans
- ☒ 1. उत्तर से दक्षिण की ओर
 - ☒ 2. दक्षिण से उत्तर की ओर
 - ☒ 3. पश्चिम से पूर्व की ओर
 - ☒ 4. पूर्व से पश्चिम की ओर

Question ID : 59445925970
Status : Answered
Chosen Option : 4

Q.21 दक्खन में बहमनी वंश की स्थापना किस वर्ष हुई थी?

- Ans
- ☒ 1. 1347 ई.
 - ☒ 2. 1340 ई.
 - ☒ 3. 1352 ई.
 - ☒ 4. 1356 ई.

Question ID : 59445925974
Status : Not Attempted and Marked For Review
Chosen Option : --

Q.22 निम्न में से कौन-सा गुप्त शासक समुद्रगुप्त का पुत्र था?

- Ans
- ☒ 1. स्कंदगुप्त
 - ☒ 2. चंद्रगुप्त II
 - ☒ 3. चंद्रगुप्त I
 - ☒ 4. कुमारगुप्त I

Question ID : 59445925985
Status : Answered
Chosen Option : 2

Q.23 जून 2020 में किस संस्था ने जियो में 1.16 प्रतिशत हिस्सेदारी खरीदी है?

- Ans
- ☒ 1. फेसबुक
 - ☒ 2. अबू धाबी इन्वेस्टमेंट ऑथोरिटी
 - ☒ 3. इंटेल कैपिटल
 - ☒ 4. सिल्वर लेक पार्टनर्स

Question ID : 59445925981
Status : Not Attempted and Marked For Review
Chosen Option : --

Q.24 निम्न में से किसे संयुक्त राज्य अमेरिका में छूट दर के रूप में संदर्भित किया गया है?

- Ans
- ☒ 1. रेपो दर
 - ☐ 2. बैंक दर
 - ☒ 3. सीमांत स्थायी सुविधा
 - ☒ 4. रिवर्स रेपो दर

Question ID : 59445925984
Status : Answered
Chosen Option : 3

Q.25 इनमें से किस फसल के लिए भारतीय कृषि अनुसंधान परिषद (ICAR) ने HD 3226 नामक किस्म जारी की है?

- Ans
- ☒ 1. चाय
 - ☒ 2. मक्का
 - ☒ 3. चावल
 - ☐ 4. गेहूँ

Question ID : 59445925968
Status : Answered
Chosen Option : 4

Q.26 निम्न में से कौन-सा ऐसी आपातकालीन परिस्थिति में बैंकों के लिए भारतीय रिज़र्व बैंक से उधार लेने का साधन है, जब इंटर-बैंक लिक्विडिटी पूरी तरह से समाप्त हो जाती है?

- Ans
- ☒ 1. रेपो दर (Repo Rate)
 - ☒ 2. रिवर्स रेपो दर (Reverse Repo Rate)
 - ☒ 3. बैंक दर (Bank Rate)
 - ☐ 4. सीमांत स्थायी सुविधा (Marginal Standing Facility)

Question ID : 59445925983
Status : Answered
Chosen Option : 4

Q.27 भारतीय राष्ट्रीय भुगतान निगम (NPCI) ने कौन सी कृत्रिम बुद्धिमत्ता (आर्टिफिशियल इंटेलिजेंस) आधारित चैटबोट लॉन्च की है, जो वास्तविक समय के आधार पर NPCI के उत्पादों के बारे में जागरूकता उत्पन्न करेगी?

- Ans
- ☒ 1. NAI
 - ☒ 2. Tai
 - ☒ 3. RAI
 - ☐ 4. PAI

Question ID : 59445925980
Status : Not Answered
Chosen Option : --

Q.28 निम्न में से त्रिपुरा का कौन-सा पर्व बंगाली बैसाख मास के सातवें दिन से प्रारंभ होकर सात दिन तक मनाया जाता है?

- Ans
- ☒ 1. अशोक अष्टमी महोत्सव
 - ☒ 2. खार्ची महोत्सव
 - ☒ 3. नीरमहल महोत्सव
 - ☒ 4. गेरिया पूजा

Question ID : 59445925957
Status : Answered
Chosen Option : 4

Q.29 किस संस्था ने जुलाई 2020 में सामाजिक दूरी सुनिश्चित करने के लिए 'वेली बैंड' नामक गैजेट विकसित किया था?

- Ans
- ☒ 1. आई.आई.एम. (IIM) कोझिकोड
 - ☒ 2. आई.आई.एम. (IIM) अहमदाबाद
 - ☒ 3. आई.आई.टी. (IIT) दिल्ली
 - ☒ 4. आई.आई.टी. (IIT) बॉम्बे

Question ID : 59445925977
Status : Answered
Chosen Option : 2

Q.30 'कायल' किसकी विशिष्ट विशेषताएं हैं?

- Ans
- ☒ 1. मालाबार तट
 - ☒ 2. भारतीय रेगीस्तान
 - ☒ 3. उत्तरी मैदान
 - ☒ 4. हिमाचल हिमालय

Question ID : 59445925965
Status : Not Answered
Chosen Option : --

Section : General Intelligence & Reasoning Ability

Q.1 विश्वविद्यालय के शिक्षा विभाग में संकाय सदस्य के रूप में व्यक्तियों की भर्ती के लिए शर्तें निम्न हैं। अभ्यर्थी:

- 1 नवंबर 2013 तक 30 से 38 वर्ष की आयु सीमा में होना चाहिए।
- कार्य अनुभव - कम से कम दो वर्ष का शिक्षण अनुभव।
- कम से कम 70 प्रतिशत अंकों के साथ शिक्षा में स्नातकोत्तर।
- साक्षात्कार के 50 अंकों में से कम से कम 35 अंक प्राप्त करने चाहिए।

ऐसे अभ्यर्थी के मामले में जो

- उपरोक्त मानदंडों को पूरा करता/करती हो, उसे विभाग में प्रोफेसर के रूप में नियुक्त किया जाएगा।
- 70 प्रतिशत से कम अंकों के साथ शिक्षा में स्नातकोत्तर है, लेकिन 60 प्रतिशत से अधिक अंक नहीं है, उसे असिस्टेंट प्रोफेसर के रूप में नियुक्त किया जाएगा।
- यदि आयु 38 वर्ष से अधिक है लेकिन 1 नवंबर 2013 को 42 वर्ष से कम है, तो मामला विभाग के डीन को भेजा जा सकता है।

उपरोक्त शर्तों और प्रश्न में प्रत्येक अभ्यर्थी के बारे में दी गई जानकारी के आधार पर आपको निर्धारित करना होगा कि प्रत्येक अभ्यर्थी के लिए निम्न में से कौन सी कार्यवाही होनी चाहिए। निर्णय प्रदान की गई जानकारी के आधार पर होना चाहिए:

कृति ने 71 प्रतिशत अंकों के साथ स्नातकोत्तर(शिक्षा) किया है, उसकी जन्म तिथि 14 अगस्त 1980 है। उसने 3 वर्ष तक असिस्टेंट प्रोफेसर के रूप में कार्य किया है। उसने साक्षात्कार में 70 प्रतिशत अंक प्राप्त किया है।

Ans

- ☒ 1. अभ्यर्थी को प्रोफेसर के रूप में चुना जाएगा।
- ☐ 2. अभ्यर्थी को असिस्टेंट प्रोफेसर के रूप में चुना जाएगा।
- ☐ 3. उसका मामला विभाग के डीन को भेजा जाएगा।
- ☐ 4. अभ्यर्थी का चयन नहीं किया जाएगा।

Question ID : 59445925994

Status : Answered

Chosen Option : 1

Q.2 उस विकल्प का चयन करें जो तीसरे शब्द से उसी तरह संबंधित है, जिस प्रकार दूसरा शब्द पहले से संबंधित है।

प्रश्न: उत्तर:: घोड़ा : ?

Ans

- ☐ 1. ब्लेड
- ☒ 2. गाड़ी
- ☐ 3. वर्गीकृत
- ☐ 4. रूकना

Question ID : 59445925986

Status : Answered

Chosen Option : 2

Q.3 विश्वविद्यालय, कोई निबंध प्रतियोगिता आयोजित करना चाहता है। विषय ऐसा होना चाहिए, जो देश में चल रहे वर्तमान मुद्दों से मेल खाए। साथ ही वे पर्यावरण से जुड़ी समस्याओं को उजागर करना चाहते हैं। निम्न में से कौन-सा विषय प्रतियोगिता के लिए उपयुक्त है?

Ans

- ☒ 1. वन नीति अधिनियम
- ☐ 2. सूखा और इसकी रोकथाम
- ☐ 3. किसानों का मुद्दा
- ☐ 4. चुनाव और उसके अपेक्षित परिणाम

Question ID : 59445925990

Status : Answered

Chosen Option : 1

Q.4 किसी अधिकारी को महत्वपूर्ण गमनागमन के मार्ग पर तैनात किया गया था और उसे गमनागमन समाप्त होने तक किसी भी वाहन को सड़क पार करने की अनुमति नहीं देने का आदेश दिया गया था। कोई एंबुलेंस सड़क को पार करने का तब प्रयास करती है, जब गमनागमन समीप था। अधिकारी को क्या करना चाहिए?

- Ans ☒ 1. गमनागमन को रोकना चाहिए और एंबुलेंस को सड़क पार करने की अनुमति देनी चाहिए।
☒ 2. ड्राइवर को दूसरे मार्ग से जाने के लिए कहना चाहिए।
☒ 3. जब तक गमनागमन खत्म नहीं हो जाता, तब तक एंबुलेंस को रोक देना चाहिए।
☒ 4. ऐसी परिस्थिति के लिए अधिकारी को अपने वरिष्ठ से बात करनी चाहिए।

Question ID : 59445925992

Status : Answered

Chosen Option : 4

Q.5 नीचे प्रत्येक प्रश्न में दो कथन (A) और (B) दिए गए हैं। दोनों कथनों को पढ़ें और निर्धारित करें कि निम्न में से कौन सा उत्तर विकल्प दोनों कथनों के बीच संबंध को सही ढंग से प्रदर्शित करता है:

A) राज्य में पुलिस ने कई अपराधियों का एनकाउंटर किया है।
 B) राज्य में कई अन्य लोगों को पुलिस ने जांच के लिए पकड़ा है।

- Ans ☒ 1. कथन (A) कारण है और कथन (B) इसका प्रभाव है।
☒ 2. कथन (A) और (B) दोनों कुछ सामान्य कारणों को प्रकट करते हैं।
☒ 3. कथन (B) कारण है और कथन (A) इसका प्रभाव है।
☒ 4. कथन (A) और (B) दोनों स्वतंत्र कारणों को प्रकट करते हैं।

Question ID : 59445925995

Status : Answered

Chosen Option : 4

Q.6 तस्वीर में किसी महिला की ओर इशारा करते हुए कोई आदमी कहता है, "वह मेरे साले के पिता की इकलौती बेटी की इकलौती बेटी है" महिला, उस आदमी से किस प्रकार संबंधित है?

- Ans ☒ 1. बेटी
☒ 2. मां
☒ 3. भतीजी / भांजी
☒ 4. पत्नी

Question ID : 59445926008

Status : Answered

Chosen Option : 1

Q.7 दिए गए विकल्पों में से विषम संख्या त्रय (number triad) का चयन करें।

- Ans ☒ 1. (23, 46, 529)
☒ 2. (13, 26, 169)
☒ 3. (27, 54, 719)
☒ 4. (16, 32, 256)

Question ID : 59445926013

Status : Answered

Chosen Option : 3

Q.8 जब किसी घड़ी की मिनट वाली सुई 1 घंटा 45 मिनट की दूरी तय करती है, तो इसके द्वारा तय की गई कोणीय दूरी ज्ञात करें।

- Ans
- ☒ 1. 360 डिग्री
 - ☒ 2. 630 डिग्री
 - ☒ 3. 480 डिग्री
 - ☒ 4. 210 डिग्री

Question ID : 59445926015

Status : Answered

Chosen Option : 2

Q.9 संजीव, शेफ है, जो अपने मुगलई व्यंजनों के लिए प्रसिद्ध है, उसने एक रेस्तरां खोला है लेकिन वह धीमा चल रहा है। उसने विपणन प्रबंधक (marketing manager) को कार्य पर रखा और विश्लेषण के बाद विपणन प्रबंधक को नहीं लगता कि उसके रेस्तरां में विशेष अवसर या सप्ताहांत (weekend) पर आया जा सकता है। संजीव को व्यवसाय बढ़ाने के लिए निम्न में से कौन-सी रणनीति अपनानी चाहिए?

- Ans
- ☒ 1. शादी, जन्मदिन, सालगिरह पार्टियों के लिए ऑर्डर लेना शुरू करना चाहिए
 - ☒ 2. कूपन उपलब्ध कराना चाहिए, जिससे धारक कार्यदिवसों (weekdays) में 25% तक छूट प्राप्त करने का हकदार हो।
 - ☒ 3. रेस्तरां को दूसरे शहर में स्थानांतरित करना चाहिए
 - ☒ 4. मेनू-प्रकार के प्रचार हेतु स्थानीय समाचार पत्रों में निरंतर विज्ञापन देना चाहिए

Question ID : 59445925989

Status : Answered

Chosen Option : 2

Q.10 श्रेणी में 11वां पद ज्ञात करें।

6, 12, 24, _____?

- Ans
- ☒ 1. 6812
 - ☒ 2. 6720
 - ☒ 3. 6144
 - ☒ 4. 6446

Question ID : 59445926002

Status : Answered

Chosen Option : 3

Q.11 नीचे प्रत्येक प्रश्न में दो घटनाएं (A) और (B) दी गई हैं। ये कथन या तो स्वतंत्र कारण हो सकते हैं या तो स्वतंत्र कारण का प्रभाव हो सकते हैं। इनमें से एक कथन दूसरे कथन का प्रभाव हो सकता है। दोनों कथनों को पढ़ें और निर्धारित करें कि निम्न में से कौन सा उत्तर विकल्प दोनों कथनों के बीच संबंध को सही ढंग से प्रदर्शित करता है:

- A) पिछले कुछ दिनों के दौरान सोने की कीमतों में काफी गिरावट आई है।
B) पिछले कुछ दिनों के दौरान चांदी की कीमतों में काफी वृद्धि हुई है।

- Ans
- ☒ 1. घटना (A) कारण है और घटना (B) इसका प्रभाव है।
 - ☒ 2. घटना (B) कारण है और घटना (A) इसका प्रभाव है।
 - ☒ 3. घटना (A) और (B) दोनों स्वतंत्र कारण हैं।
 - ☒ 4. घटना (A) और (B) दोनों कुछ स्वतंत्र कारणों के प्रभाव हैं।

Question ID : 59445925996

Status : Answered

Chosen Option : 4

Q.12 विषम की पहचान करें।

- Ans
- ☒ 1. जंभाई
 - ☐ 2. झपकी
 - ☐ 3. सूँघना
 - ☐ 4. कल्पना

Question ID : 59445925987
Status : Answered
Chosen Option : 3

Q.13 अजय और राजवीर की वर्तमान आयु का अनुपात क्रमशः 7 : 4 है। तीन वर्ष बाद उनकी आयु का अनुपात क्रमशः 5 : 3 हो जाएगा। अजय की वर्तमान आयु ज्ञात करें।

- Ans
- ☐ 1. 47 वर्ष
 - ☐ 2. 49 वर्ष
 - ☐ 3. 45 वर्ष
 - ☒ 4. 42 वर्ष

Question ID : 59445926000
Status : Answered
Chosen Option : 4

Q.14 दिए गए विकल्पों में से विषम शब्द का चयन करें।

- Ans
- ☐ 1. मां
 - ☒ 2. भाई
 - ☐ 3. बेटी
 - ☐ 4. बहन

Question ID : 59445926009
Status : Answered
Chosen Option : 2

Q.15 किसी परीक्षा में किसी विद्यार्थी को प्रत्येक सही उत्तर के लिए 3 अंक मिलता है और प्रत्येक गलत उत्तर के लिए 1 अंक काटा जाता है। यदि वह सभी 60 प्रश्न हल करता है और उसे 100 अंक मिलता है। उसके द्वारा हल किए गए सही प्रश्नों की संख्या ज्ञात करें।

- Ans
- ☐ 1. 35
 - ☒ 2. 40
 - ☐ 3. 42
 - ☐ 4. 38

Question ID : 59445925999
Status : Answered
Chosen Option : 2

Q.16 दिए गए कथनों और निष्कर्षों को पढ़ें और ये पता लगाए की कौनसा / कौनसे निष्कर्ष दिए गए कथनों का अनुसरण करता है / करते हैं।

कथन:

- a) कुछ झुमके, कंगन हैं।
- b) सभी कंगन, आभूषण हैं।
- c) कुछ आभूषण, गहने हैं।
- d) कोई भी गहना, तस्वीर नहीं है।
- e) सभी रंग, तस्वीर हैं।
- f) कुछ तस्वीर, झुमके हैं।

निष्कर्ष:

- I) कुछ रंग, झुमके हैं।
- II) कुछ आभूषण, झुमके हैं।

- Ans
- ☒ 1. या तो निष्कर्ष I या तो II अनुसरण करता है।
 - ☒ 2. न तो निष्कर्ष I न ही II अनुसरण करता है।
 - ☒ 3. केवल निष्कर्ष II अनुसरण करता है।
 - ☒ 4. निष्कर्ष I और II दोनों अनुसरण करते हैं।

Question ID : 59445926006

Status : Answered

Chosen Option : 3

Q.17 निम्नलिखित में से तीन किसी निश्चित तरीके से समान हैं और इसलिए एक समूह का निर्माण करते हैं। इनमें से कौन सा एक, समूह से संबंधित नहीं है?

- Ans
- ☒ 1. हरा
 - ☒ 2. पीला
 - ☒ 3. नीला
 - ☒ 4. काला

Question ID : 59445925993

Status : Answered

Chosen Option : 4

Q.18 दिए गए विकल्पों में से विषम संख्या का चयन करें।

- Ans
- ☒ 1. 73
 - ☒ 2. 67
 - ☒ 3. 57
 - ☒ 4. 59

Question ID : 59445925997

Status : Answered

Chosen Option : 3

Q.19 कौन सी संख्या, दी गई श्रेणी में प्रश्नवाचक चिह्न के स्थान पर होगी?

5, 15, 60, 300, ?

- Ans
- ☒ 1. 900
 - ☒ 2. 1800
 - ☒ 3. 1200
 - ☒ 4. 600

Question ID : 59445926010

Status : Answered

Chosen Option : 2

Q.20 M, N, O, P, Q, और R छह व्यक्ति, वृत्ताकार मेज के चारों ओर केंद्रा-भिमुख होकर बैठे हैं। N, P के बाईं ओर दूसरे स्थान पर बैठा है। O, M और Q के बीच बैठा है।

N के ठीक दाईं ओर कौन बैठा है?

- Ans
- ☒ 1. Q
 - ☒ 2. M
 - ☒ 3. R
 - ☒ 4. O

Question ID : 59445926014

Status : Answered

Chosen Option : 3

Q.21 दिए गए विकल्पों से संबंधित शब्द-युग्म का चयन करें।

पेन : निब :: वृत्त (सर्कल) : ?

- Ans
- ☒ 1. चक्र (सायकल)
 - ☒ 2. चाप (आर्क)
 - ☒ 3. पहिया (व्हील)
 - ☒ 4. स्टीयरिंग

Question ID : 59445926007

Status : Answered

Chosen Option : 2

Q.22 रेडियो चैनल, एक ऐसे शो में कार्य करने के लिए आर.जे. (R.J.) खोज रहा है, जो बसों में यात्रा करने वाली महिलाओं द्वारा सामना किए जाने वाले मुद्दों पर केंद्रित है। चैनल उपयुक्त उम्मीदवार खोज रहा है, जिसके लिए कई आवेदन आए हैं, लेकिन शो रात 11 बजे से 12 बजे तक प्रसारित किया जाएगा। कौन-सा उम्मीदवार उपयुक्त होगा।

- Ans
- ☒ 1. राजीव की आयु 21 वर्ष है और उसने अपनी स्नातक की पढ़ाई पूरी कर ली है तथा परीक्षाओं की तैयारी कर रहा है और नाइट शिफ्ट में आर.जे. (R.J.) के रूप में भी कार्य किया है।
 - ☒ 2. मनीष किसी कॉलेज का विद्यार्थी है, जिसके पास रात पारी (night shifts) का कार्य अनुभव है क्योंकि उसने किसी कॉल सेंटर में कार्य किया है और वह वृद्धाश्रम से भी जुड़ा हुआ है।
 - ☒ 3. सुनीता 37 वर्षीय महिला है, जो कार्यालय के लिए बस से यात्रा करती है और उसने इन समस्याओं का बहुत सामना किया है और जानती है कि इनसे कैसे निपटना है।
 - ☒ 4. अहमद 38 वर्षीय काउंसलर हैं, जो एक एनजीओ (NGO) भी चलाता है और जो महिलाओं द्वारा सामना किए जाने वाले समस्या से निपटना जानता है तथा वह रात में उपलब्ध होगा।

Question ID : 59445925991

Status : Answered

Chosen Option : 4

Q.23 दिए गए कथन और निष्कर्षों को पढ़ें और ये पता लगाएं की कौनसा / कौनसे निष्कर्ष दिए गए कथनों का अनुसरण करता है / करते हैं।

कथन:

सड़क मार्ग से, कोलकाता और उड़ीसा के बीच 800 km की दूरी को समुद्र मार्ग से 350 km तक कम किया जा सकता है। इससे ईंधन पर प्रति वर्ष रुपये 9.72 करोड़ की बचत होगी।

निष्कर्ष:

(I) समुद्र मार्ग से परिवहन सड़क की तुलना में सस्ता है।

(II) ईंधन को जितना हो सके, उतनी सीमा तक बचाना चाहिए।

- Ans
- ☒ 1. केवल निष्कर्ष II अनुसरण करता है
 - ☒ 2. या तो I या तो II अनुसरण करता है
 - ☒ 3. केवल निष्कर्ष I अनुसरण करता है
 - ☒ 4. I और II दोनों अनुसरण करते हैं

Question ID : 59445926004

Status : Answered

Chosen Option : 1

Q.24 निम्न प्रश्न में, पहली और दूसरी संख्या किसी प्रकार संबंधित हैं, उस विकल्प का चयन करें जो उसी प्रकार तीसरी संख्या से संबंधित है।

11 : 128 :: 14 : ?

- Ans
- ☒ 1. 203
 - ☒ 2. 186
 - ☒ 3. 305
 - ☒ 4. 276

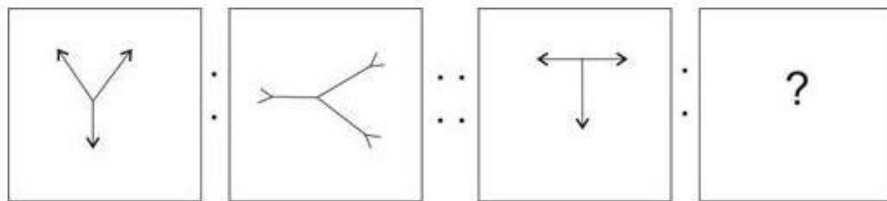
Question ID : 59445926011

Status : Answered

Chosen Option : 1

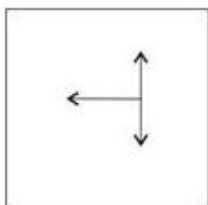
Q.25 निम्न प्रश्न में, पहली और दूसरी आकृति किसी प्रकार संबंधित हैं, उस उत्तर आकृति का चयन करें, जो उसी प्रकार तीसरी आकृति से संबंधित है।

प्रश्न आकृतियां

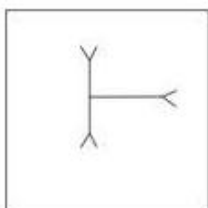


Ans

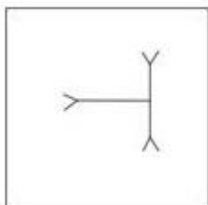
✗ 1.



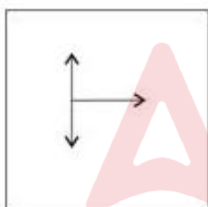
✗ 2.



✓ 3.



✗ 4.



Question ID : 59445925988

Status : Answered

Chosen Option : 3

Q.26 कुछ पुस्तकें कागज हैं, और सभी कागज फोन हैं, यदि ये दोनों कथन सही हैं, तो निम्न में से कौन-सा निष्कर्ष निश्चित रूप से सही है?

Ans

✓ 1. कुछ फोन, पुस्तकें हैं।

✗ 2. सभी फोन, कागज हैं।

✗ 3. कुछ कागज, पुस्तक नहीं हैं।

✗ 4. कोई भी कागज, पुस्तक नहीं है।

Question ID : 59445926005

Status : Answered

Chosen Option : 1

Q.27 A, B और C तीन मित्रों की वर्तमान आयु का अनुपात 3 : 4 : 5 है। पांच वर्ष पहले उनकी आयु का योगफल 45 वर्ष था। B की वर्तमान आयु वर्ष में ज्ञात करें।

- Ans
- ☒ 1. 15
 - ☒ 2. 25
 - ☒ 3. 30
 - ☒ 4. 20

Question ID : 59445926012
Status : Answered
Chosen Option : 4

Q.28 Out of total sportsmen in the stadium 10 can play all three sports- Cricket, Football & badminton. It so happened that the no. of sportsmen who can play any two and only two of the above sports is 15. The no. of sportsmen who can play Cricket is 25. What is the total no. of those who can play Football & Badminton?

- Ans
- ☒ 1. 14
 - ☒ 2. 16
 - ☒ 3. 18
 - ☒ 4. 12

Question ID : 59445925998
Status : Answered
Chosen Option : 1

Q.29 अनुपस्थित संख्या ज्ञात करें और दी गई श्रेणी को पूरा करें।

1000, 1100, 990, 1089, 980.1, ?

- Ans
- ☒ 1. 1088.11
 - ☒ 2. 1078.11
 - ☒ 3. 1078.01
 - ☒ 4. 1088.01

Question ID : 59445926001
Status : Answered
Chosen Option : 2

Q.30 निम्न प्रत्येक प्रश्न में दी गई संख्याओं के अंकों को नीचे दिए गए कोड और शर्तों के आधार पर लिखना है।

अंक	9	8	7	6	5	4	3	2	1	0
कोड	M	V	W	K	F	R	T	P	B	D

शर्तें :-

निम्न शर्तों का अनुसरण करना है।

- यदि किसी संख्या का पहला अंक और अंतिम अंक दोनों विषम हैं, तो उन्हें 'A' लिखा जाएगा।
- यदि किसी संख्या का पहला अंक और अंतिम अंक दोनों सम हैं, तो उन्हें 'Z' लिखा जाएगा।

उपरोक्त जानकारी के आधार पर पता करें कि कौनसा संयोजन दी गई संख्या का कोडित रूप है?

873529 ?

- Ans
- ☒ 1. VWT FPM
 - ☐ 2. VWPMFT
 - ☐ 3. WVPMTF
 - ☐ 4. VWT FPM

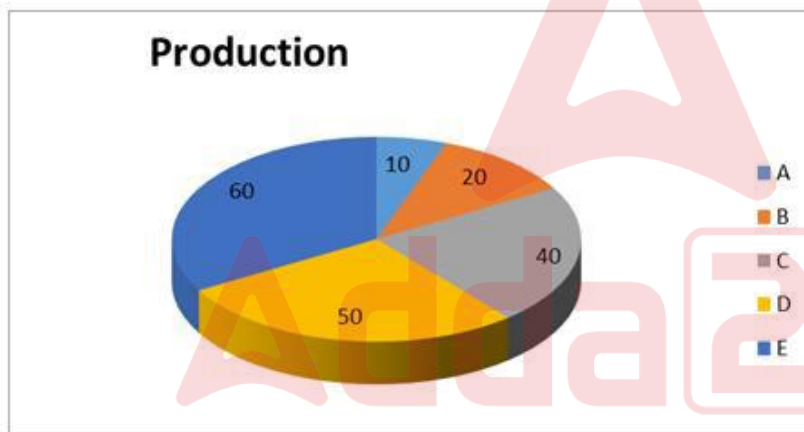
Question ID : 59445926003

Status : Answered

Chosen Option : 1

Section : Arithmetical & Numerical Ability

Q.1



कोई कंपनी, A, B, C, D और E, 5 प्रकार के उत्पाद का निर्माण करती है, जैसा कि उपरोक्त पाई आरेख में प्रदर्शित किया गया है। यदि कंपनी कुल 1440 वस्तुओं का निर्माण करती है, तो कंपनी द्वारा उत्पाद B की कितनी वस्तुओं का उत्पादन होता है?

- Ans
- ☐ 1. 180
 - ☒ 2. 160
 - ☐ 3. 140
 - ☐ 4. 150

Question ID : 59445926042

Status : Answered

Chosen Option : 2

Q.2 किसी साझेदारी फर्म (partnership firm) में, P का निवेश Q और R के कुल निवेश के बराबर है और Q का योगदान पूरी पूंजी के छठे हिस्से के बराबर है। यदि वर्ष के अंत में प्राप्त लाभ रुपये 46.8 लाख था। तो R को प्राप्त धनराशि ज्ञात करें।

- Ans
- ☒ 1. रुपये 14.8 लाख
 - ☒ 2. रुपये 7.8 लाख
 - ☒ 3. रुपये 7.4 लाख
 - ☒ 4. रुपये 15.6 लाख

Question ID : 59445926044

Status : Answered

Chosen Option : 4

Q.3



उपरोक्त हिस्टोग्राम किसी विद्यालय में आयोजित परीक्षा में अंकों और विद्यार्थियों की संख्या निरूपित करता है। 20-30 के बीच अंकों वाले विद्यार्थियों का प्रतिशत ज्ञात करें।

- Ans
- ☒ 1. 11
 - ☒ 2. 15
 - ☒ 3. 14
 - ☒ 4. 12

Question ID : 59445926037

Status : Answered

Chosen Option : 2

Q.4 तांबा और निकल वाली मिश्र धातु में 60 प्रतिशत तांबा है। दूसरी मिश्र धातु में तांबा और निकल का अनुपात 17 : 4 है। दोनों मिश्र धातुओं को किस अनुपात में मिलाना चाहिए, ताकि नए मिश्रण में निकल की तुलना में चार गुना अधिक तांबा हो?

- Ans
- ☒ 1. 1 : 21
 - ☐ 2. 21 : 1
 - ☐ 3. 16 : 17
 - ☐ 4. 1 : 16

Question ID : 59445926028

Status : Not Attempted and Marked For Review

Chosen Option : --

Q.5 120 के 75% + $\sqrt{5.8081}$ का मान ज्ञात करें।

- Ans
- ☐ 1. 93.21
 - ☐ 2. 90.81
 - ☒ 3. 92.41
 - ☐ 4. 91.21

Question ID : 59445926020

Status : Answered

Chosen Option : 3

Q.6 50350 को 106 से विभाजित करने पर क्या प्राप्त होगा?

- Ans
- ☒ 1. 475
 - ☐ 2. 375
 - ☐ 3. 445
 - ☐ 4. 465

Question ID : 59445926017

Status : Answered

Chosen Option : 1

Q.7 संख्या 76544567 के घन के इकाई स्थान वाला अंक:

- Ans
- ☒ 1. 9867 के घन के इकाई स्थान वाले अंक के बराबर है।
 - ☐ 2. 293 के घन के इकाई स्थान वाले अंक के बराबर है।
 - ☐ 3. 67 के वर्ग के इकाई स्थान वाले अंक के बराबर है।
 - ☐ 4. 33 के वर्ग के इकाई स्थान वाले अंक के बराबर है।

Question ID : 59445926043

Status : Answered

Chosen Option : 1

Q.8 उपरोक्त हिस्टोग्राम किसी विद्यालय में आयोजित परीक्षा में अंकों और विद्यार्थियों की संख्या निरूपित करता है। 20-40 के बीच अंकों वाले विद्यार्थियों की संख्या और विद्यार्थियों की कुल संख्या का अनुपात ज्ञात करें।



- Ans
- ☒ 1. 81 : 200
 - ☒ 2. 83 : 200
 - ☒ 3. 82 : 200
 - ☒ 4. 87 : 200

Question ID : 59445926038

Status : Answered

Chosen Option : 2

Q.9 A, B और C के वेतन का अनुपात 3 : 4 : 5 है। यदि उनके वेतन में क्रमशः 10 प्रतिशत, 15 प्रतिशत और 20 प्रतिशत की वेतन-वृद्धि होती है, तो उनके वेतन का नया अनुपात ज्ञात करें।

- Ans
- ☒ 1. 32 : 47 : 61
 - ☒ 2. 33 : 46 : 60
 - ☒ 3. 46 : 33 : 61
 - ☒ 4. 31 : 32 : 33

Question ID : 59445926019

Status : Answered

Chosen Option : 2

Q.10 A, किसी डिवाइडर का निर्माण 20 दिन में कर सकता है, जबकि B इसका निर्माण 50 दिन में कर सकता है। यदि वे एक साथ कार्य करते हैं और रुपये 3500 प्राप्त करते हैं, तो राशि में B का हिस्सा ज्ञात करें।

- Ans
- ☒ 1. रुपये 1500
 - ☒ 2. रुपये 1800
 - ☒ 3. रुपये 1000
 - ☒ 4. रुपये 1400

Question ID : 59445926030

Status : Answered

Chosen Option : 3

Q.11 यदि $1.2 : 3.9 :: 2 : a$ है, तो a का मान ज्ञात करें।

- Ans
- ☒ 1. 6.5
 - ☐ 2. 6.9
 - ☐ 3. 6.3
 - ☐ 4. 6.1

Question ID : 59445926018
Status : Answered
Chosen Option : 1

Q.12 $O(X,37)$, $O(Y,r)$ दो वृत्त हैं, जो एक दूसरे को A और B पर प्रतिच्छेदित करते हैं। यदि $AB = 24$ cm है तथा X और Y के केन्द्रों के बीच की दूरी 51 cm है, तो r का मान ज्ञात करें।

- Ans
- ☒ 1. 20 cm
 - ☐ 2. 42 cm
 - ☐ 3. 34 cm
 - ☐ 4. 32 cm

Question ID : 59445926034
Status : Not Answered
Chosen Option : --

Q.13 त्रिभुज ABC में, D, E और F क्रमशः AB, BC और AC भुजाओं के मध्य बिंदु हैं। यदि $\triangle ABC$ का क्षेत्रफल = 32 unit^2 है, तो $\triangle DEF$ का क्षेत्रफल ज्ञात करें।

- Ans
- ☐ 1. 19 unit^2
 - ☐ 2. 10 unit^2
 - ☐ 3. 15 unit^2
 - ☒ 4. 8 unit^2

Question ID : 59445926035
Status : Answered
Chosen Option : 4

Q.14 रुपये 9/kg कीमत वाली चीनी की कितनी मात्रा, रुपये 7/kg कीमत वाली 27 kg चीनी के साथ मिश्रित करनी चाहिए ताकि दुकानदार मिश्रण को रुपये 9.24/kg की दर पर बेचकर 10 प्रतिशत लाभ प्राप्त कर सके।

- Ans
- ☒ 1. 63 kg
 - ☐ 2. 78 kg
 - ☐ 3. 69 kg
 - ☐ 4. 73 kg

Question ID : 59445926029
Status : Answered
Chosen Option : 1

Q.15 3 : 4 : 5 के अनुपात में प्रारंभिक निवेश के साथ; A, B और C कोई व्यवसाय शुरू करते हैं। 6 महीने के अंत में A, कोई अतिरिक्त धनराशि इस प्रकार निवेशित करता है कि उसके द्वारा किया गया कुल निवेश B के निवेश के बराबर हो जाता है। यदि लाभ में B का हिस्सा रुपये 4000 है, तो वर्ष के अंत में कुल लाभ ज्ञात करें।

- Ans
- ☒ 1. रुपये 13500
 - ☒ 2. रुपये 14000
 - ☒ 3. रुपये 12500
 - ☒ 4. रुपये 13000

Question ID : 59445926027
Status : Answered
Chosen Option : 3

Q.16 6 cm लंबी जीवा वृत्त के केंद्र पर 60° का कोण निर्मित करती है। यदि उसी वृत्त की दूसरी जीवा की लंबाई $6\sqrt{3}$ cm है, तो वृत्त के केंद्र पर जीवा द्वारा निर्मित कोण का माप ज्ञात करें।

- Ans
- ☒ 1. 120 डिग्री
 - ☒ 2. 135 डिग्री
 - ☒ 3. 75 डिग्री
 - ☒ 4. 90 डिग्री

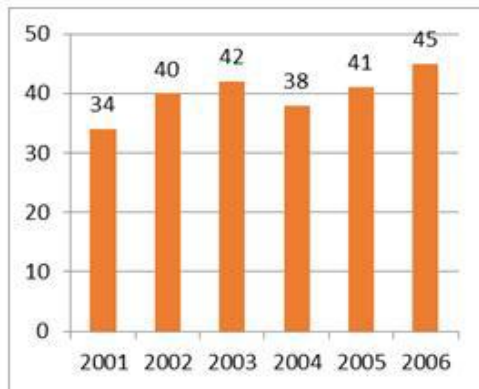
Question ID : 59445926033
Status : Answered
Chosen Option : 1

Q.17 समुद्र में दो जहाज लाइट हाउस के दोनों तरफ चल रहे हैं। जहाजों से देखने पर लाइटहाउस के शीर्ष का उन्नयन कोण क्रमशः 30 डिग्री और 45 डिग्री हैं। यदि लाइट हाउस की ऊंचाई 200 m है, तो दोनों जहाजों के बीच की दूरी ज्ञात करें (निकटतम मीटर तक)।

- Ans
- ☒ 1. 450 m
 - ☒ 2. 375 m
 - ☒ 3. 546 m
 - ☒ 4. 425 m

Question ID : 59445926036
Status : Answered
Chosen Option : 3

Q.18 दिया गया बार डायग्राम Y- अक्ष पर बीमा लेने वाले व्यक्तियों की संख्या और X- अक्ष पर बीमा पॉलिसी खरीदने का वर्ष निरूपित करता है। वर्ष 2006 में पॉलिसी लेने वाले व्यक्तियों की संख्या और वर्ष 2001 में पॉलिसी लेने वाले व्यक्तियों की संख्या में अनुमानित प्रतिशत परिवर्तन ज्ञात करें।



Ans ☒ 1. 32.4

☒ 2. 35

☒ 3. 31.4

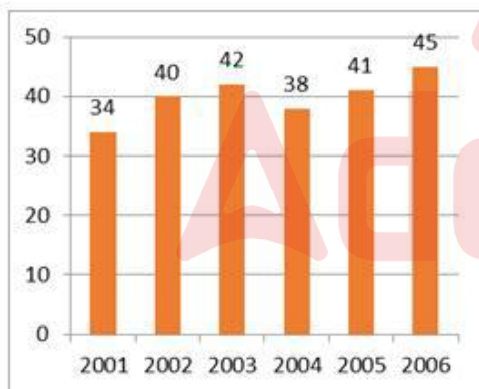
☒ 4. 30

Question ID : 59445926040

Status : Answered

Chosen Option : 2

Q.19 दिया गया बार डायग्राम Y- अक्ष पर बीमा लेने वाले व्यक्तियों की संख्या और X- अक्ष पर बीमा पॉलिसी खरीदने का वर्ष निरूपित करता है। वर्ष 2002 को छोड़कर पॉलिसी लेने वाले व्यक्तियों की औसत संख्या ज्ञात करें।



Ans ☒ 1. 40

☒ 2. 41

☒ 3. 45

☒ 4. 42

Question ID : 59445926039

Status : Answered

Chosen Option : 1

Q.20 किसी परीक्षा में, विद्यार्थी A और C के कुल अंकों का अनुपात 21:11 तथा B और A के कुल अंकों का अनुपात 22:27 है। यदि C को B से 110 अंक कम मिले, तो A को कितने मिले?

- Ans
- ☒ 1. 165
 - ☒ 2. 378
 - ☒ 3. 289
 - ☒ 4. 442

Question ID : 59445926045
Status : Answered
Chosen Option : 2

Q.21 किसी विशिष्ट दुकान में लाभ, लागत का 380 प्रतिशत है। यदि लागत में 20 प्रतिशत की वृद्धि होती है और विक्रय मूल्य स्थिर रहता है, तो लाभ, विक्रय मूल्य का कितना प्रतिशत है?

- Ans
- ☒ 1. 65 प्रतिशत
 - ☒ 2. 75 प्रतिशत
 - ☒ 3. 69 प्रतिशत
 - ☒ 4. 71 प्रतिशत

Question ID : 59445926024
Status : Answered
Chosen Option : 2

Q.22 A, B और C, प्रत्येक ने रुपये 10000 निवेशित करके को व्यवसाय शुरू किया। 4 महीने बाद A, रुपये 3000 और B रुपये 4000 निकालता है तथा C अतिरिक्त रुपये 3000 निवेशित करता है। वर्ष के अंत में कुल रुपये 32800 का लाभ होता है। लाभ में C का हिस्सा ज्ञात करें।

- Ans
- ☒ 1. रुपये 14400
 - ☒ 2. रुपये 16000
 - ☒ 3. रुपये 15000
 - ☒ 4. रुपये 15500

Question ID : 59445926026
Status : Answered
Chosen Option : 1

Q.23 एक आदमी रुपये 1200 में पंखा खरीदता है और इसे 18 प्रतिशत की हानि पर बेचता है। पंखे का विक्रय मूल्य ज्ञात करें।

- Ans
- ☒ 1. रुपये 894
 - ☒ 2. रुपये 984
 - ☒ 3. रुपये 934
 - ☒ 4. रुपये 874

Question ID : 59445926023
Status : Answered
Chosen Option : 2

Q.24 $\triangle ABC$ में, बिंदु D और E क्रमशः भुजा AB और AC पर इस प्रकार हैं कि $DE \parallel BC$ है। यदि $AD = 4$ cm, $AE = 8$ cm, $DB = (x - 4)$ cm और $EC = (3x - 19)$ cm है, तो x का मान ज्ञात करें।

- Ans
- ☒ 1. 11 cm
 - ☐ 2. 17 cm
 - ☐ 3. 15 cm
 - ☐ 4. 19 cm

Question ID : 59445926032
Status : Answered
Chosen Option : 1

Q.25 361 sq ft क्षेत्रफल वाले किसी वर्गाकार प्लॉट के चारों ओर बाड़ निर्माण की लागत ज्ञात करें, यदि बाड़ निर्माण की लागत रुपये 68 प्रति फुट है?

- Ans
- ☐ 1. रुपये 6168
 - ☐ 2. रुपये 5568
 - ☐ 3. रुपये 5868
 - ☒ 4. रुपये 5168

Question ID : 59445926022
Status : Answered
Chosen Option : 4

Q.26 कोई दुकानदार अपनी वस्तुओं पर, क्रय मूल्य से 10 प्रतिशत अधिक मूल्य अंकित करता है। यदि वह प्रत्येक वस्तु पर 20 प्रतिशत की छूट देता है, तो उसका लाभ या हानि प्रतिशत ज्ञात करें।

- Ans
- ☒ 1. 12 प्रतिशत हानि
 - ☐ 2. 18 प्रतिशत लाभ
 - ☐ 3. 12 प्रतिशत लाभ
 - ☐ 4. 18 प्रतिशत हानि

Question ID : 59445926025
Status : Answered
Chosen Option : 1

Q.27 $97.95 - 38.006 + 1 = ?$

- Ans
- ☐ 1. 61.944
 - ☐ 2. 59.944
 - ☒ 3. 60.944
 - ☐ 4. 62.944

Question ID : 59445926016
Status : Answered
Chosen Option : 3

Q.28 तीन लड़कियों की औसत आयु 15 वर्ष है और उनकी आयु का अनुपात 3 : 5 : 7 है। सबसे बड़ी लड़की की आयु वर्ष में ज्ञात करें।

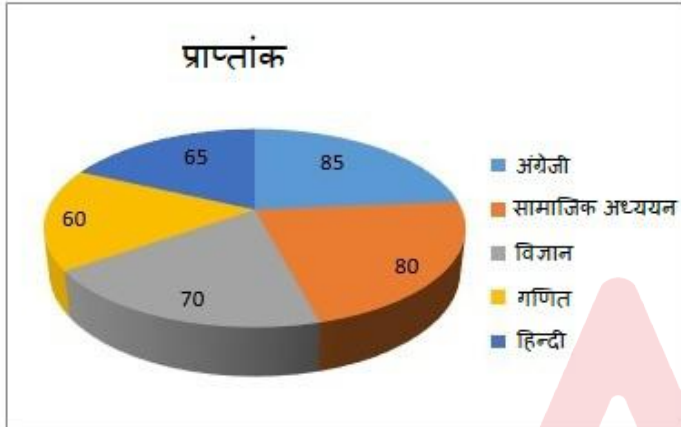
- Ans
- ☒ 1. 24 वर्ष
 - ☒ 2. 16 वर्ष
 - ☒ 3. 18 वर्ष
 - ☒ 4. 21 वर्ष

Question ID : 59445926021

Status : Answered

Chosen Option : 4

Q.29



उपरोक्त पाई डायग्राम में किसी विद्यार्थी द्वारा विभिन्न विषयों में प्राप्त अंक प्रस्तुत किए गए हैं। एक साथ विज्ञान और गणित से संबंधित क्षेत्रों द्वारा केंद्र पर निर्मित कोण डिग्री में कितना है?

- Ans
- ☒ 1. 125
 - ☒ 2. 120
 - ☒ 3. 140
 - ☒ 4. 130

Question ID : 59445926041

Status : Answered

Chosen Option : 4

Q.30 यदि प्राकृतिक संख्याएं x और y इस प्रकार हैं कि $x + y = 20287$ है, तो $(-1)^x + (-1)^y$ का मान ज्ञात करें।

- Ans
- ☒ 1. -1
 - ☒ 2. 0
 - ☒ 3. 1
 - ☒ 4. 2

Question ID : 59445926031

Status : Answered

Chosen Option : 2

Q.1 Find the word which is nearest to the meaning of the given word.

Provoke

- Ans ☒ 1. Irritate
☒ 2. Please
☒ 3. Agitate
☒ 4. Provide

Question ID : 59445926054
 Status : Answered
 Chosen Option : 3

Q.2 Following sentence has an error in one of its parts. Find the part which has the error and mark it accordingly.

If a meal (A)/ has been good (B)/ tried to compliment (C)/ the kitchen staff (D).

- Ans ☒ 1. C
☒ 2. B
☒ 3. D
☒ 4. A

Question ID : 59445926048
 Status : Answered
 Chosen Option : 2

Q.3 Rearrange the following sentence into coherent meaningful sentences.

to have your company/ it would be nice/ in the evening/ I thought
 A B C D

- Ans ☒ 1. DCAB
☒ 2. DBAC
☒ 3. ABCD
☒ 4. BCAD

Question ID : 59445926052
 Status : Answered
 Chosen Option : 2

Q.4 Find the missing word from the alternatives to fill in the blank.

Raavish wanted to _____ an organisation for the welfare of animals and birds. But he could not succeed.

- Ans ☒ 1. set up
☒ 2. founded
☒ 3. began
☒ 4. launched

Question ID : 59445926059
 Status : Answered
 Chosen Option : 1

Q.5 Find the word which is the opposite of the given word.

Attractive

- Ans ☒ 1. Repulsive
☒ 2. Affectionate
☒ 3. Disassociated
☒ 4. Empowered

Question ID : 59445926063
 Status : Answered
 Chosen Option : 1

Q.6 Find the meaning of the given Term.

Blue collar job

- Ans ☒ 1. Administrative job
☒ 2. Being a cricketer
☒ 3. Manual labour job
☒ 4. Entrepreneurship

Question ID : 59445926068
 Status : Answered
 Chosen Option : 1

Q.7 Find the word which is nearest to the meaning of the given word.

Contentious

- Ans ☒ 1. Controversial
☒ 2. Agreeable
☒ 3. Conventional
☒ 4. Committed

Question ID : 59445926055
 Status : Answered
 Chosen Option : 1

Q.8 Find the word which is nearest to the meaning of the given word.

Assemble

- Ans ☒ 1. Give
☒ 2. Separate
☒ 3. Ask for
☒ 4. Gather

Question ID : 59445926056
 Status : Answered
 Chosen Option : 4

Q.9 Find the missing word from the alternatives to fill in the blank.

Many of our freedom fighters _____ a life of 'simple living and high thinking.'

- Ans
- ☒ 1. has lived
 - ☒ 2. live
 - ☒ 3. lived
 - ☒ 4. asked for

Question ID : 59445926061
Status : Answered
Chosen Option : 2

Q.10 Following sentence has an error in one of its parts. Find the part which has the error and mark it accordingly.

He has been striving / his level best/ to achieve the goal/ with her hard work.
A B C D

- Ans
- ☒ 1. B
 - ☒ 2. C
 - ☒ 3. A
 - ☒ 4. D

Question ID : 59445926046
Status : Answered
Chosen Option : 4

Q.11 Find the missing punctuation mark.

Hurrah _____ He has come back alive.

- Ans
- ☒ 1. ,
 - ☒ 2. .
 - ☒ 3. ?
 - ☒ 4. !

Question ID : 59445926069
Status : Answered
Chosen Option : 4

Q.12 Find the word which is nearest to the meaning of the given word.

Derision

- Ans
- ☒ 1. Praise
 - ☒ 2. Ridicule
 - ☒ 3. Grace
 - ☒ 4. Turbulence

Question ID : 59445926057
Status : Answered
Chosen Option : 4

Q.13 Find the word which is the opposite of the given word.

Wax

- Ans
- ☒ 1. spread
 - ☒ 2. Shortening
 - ☒ 3. Increase
 - ☒ 4. Wane

Question ID : 59445926064

Status : Answered

Chosen Option : 3

Q.14 Find the missing punctuation mark.

The items include _____ Pen, pencil, paper, eraser, note book and a sharpener.

- Ans
- ☒ 1. ,
 - ☒ 2. :
 - ☒ 3. .
 - ☒ 4. ;

Question ID : 59445926070

Status : Answered

Chosen Option : 4

Q.15 Following sentence has an error in one of its parts. Find the part which has the error and mark it accordingly.

It is always advisable/ to say positive things/ about things around your/ in a foreign environment.

A B C D

- Ans
- ☒ 1. B
 - ☒ 2. A
 - ☒ 3. D
 - ☒ 4. C

Question ID : 59445926049

Status : Answered

Chosen Option : 4

Q.16 Find the meaning of the given Term.

Silver Screen

- Ans
- ☒ 1. Film industry
 - ☒ 2. Giving opportunity
 - ☒ 3. Thinking bright
 - ☒ 4. Silver industry

Question ID : 59445926067

Status : Answered

Chosen Option : 1

Q.17 Rearrange the following sentence into coherent meaningful sentences.

not to assemble in front / of the administrative officer as / students have been told/ it disturbs the administrative functions

A B C D

- Ans
- ☒ 1. BCDA
 - ☒ 2. DBCA
 - ☒ 3. CABD
 - ☒ 4. CBDA

Question ID : 59445926053

Status : Answered

Chosen Option : 3

Q.18 Following sentences are from a paragraph. First and last sentences are given and the three sentences in between are jumbled. Rearrange them to make a coherent paragraph.

S1: All young people are concerned about their future.

R: Much of their worry is centered on job and career.

S: The most obvious thing about future is that it is uncertain.

T: However with proper preparations, we can minimize risks and create a better future for us.

S5: This is something every one of us should do.

- Ans
- ☒ 1. SRT
 - ☒ 2. RST
 - ☒ 3. TSR
 - ☒ 4. TRS

Question ID : 59445926066

Status : Answered

Chosen Option : 1

Q.19 Following sentence has an error in one of its parts. Find the part which has the error and mark it accordingly.

Once the tree/ had has/ its branches spread/ across the village.

A B C D

- Ans
- ☒ 1. C
 - ☒ 2. B
 - ☒ 3. D
 - ☒ 4. A

Question ID : 59445926047

Status : Answered

Chosen Option : 2

Q.20 Find the word which is the opposite of the given word.

Fabricate

- Ans
- ☒ 1. Construct
 - ☒ 2. Reject
 - ☒ 3. Accept
 - ☒ 4. Destroy

Question ID : 59445926062

Status : Answered

Chosen Option : 3

Q.21 Rearrange the following sentence into coherent meaningful sentence.

Education is/ Vivekanand said that/ the manifestation of/ perfection already in man.
A B C D

- Ans
- ☒ 1. CDBA
 - ☒ 2. DBDA
 - ☒ 3. ABDC
 - ☒ 4. BACD

Question ID : 59445926050

Status : Answered

Chosen Option : 4

Q.22 Find the missing word from the alternatives to fill in the blank.

It is not necessary to _____ the knowledge of grammatical rules to learn a language.

- Ans
- ☒ 1. have
 - ☒ 2. have had
 - ☒ 3. accept
 - ☒ 4. had

Question ID : 59445926060

Status : Answered

Chosen Option : 1

Q.23 Find the missing word from the alternatives to fill in the blank.

Have you ever _____ to speak about an embarrassing moment of your life?

- Ans
- ☒ 1. been asked
 - ☒ 2. Been asking
 - ☒ 3. had
 - ☒ 4. asked

Question ID : 59445926058

Status : Answered

Chosen Option : 1

Q.24 Following sentences are from a paragraph. First and last sentences are given and the three sentences in between are jumbled. Rearrange them to make a coherent paragraph.

S1: Human thinking knows no boundaries.

R: In that case one may look at the closest option.

S: There may not be courses of study or careers related to everyone's interests.

T: Human interests can also be varied and pervading.

S6: One will also be required to relate one's interest with their aptitude and mindset.

Ans  1. SRT

 2. TSR

 3. RST

 4. TRS

Question ID : 59445926065

Status : Answered

Chosen Option : 1

Q.25 Rearrange the following sentence into coherent meaningful sentences.

is so fast that/ once in five years / the knowledge multiplies / advancement of science

A B C D

Ans  1. DACB

 2. ADCB

 3. DCAB

 4. DBAC

Question ID : 59445926051

Status : Answered

Chosen Option : 1

Comprehension:

Read the following passage about mother tongue and answer the questions that follow.

Formal education through the medium of a language that is not a child's mother tongue, leading to children not learning their own language fully (not learning the language that the parent generation knows). This is a subtractive language learning situation, where the dominant language is learned at the cost of the mother tongue. Instead, knowledge in dominant languages can be added to the children's linguistic repertoire, at no cost to the mother tongues. In this kind of additive language learning situation the result is additive bilingualism or multilingualism, and the maintenance of the mother tongue. Subtractive language learning also means that these children will tend not to speak their mother tongue to their own children.

Homogenizing mass media, entertainment and other cultural products in dominant languages takes place through which these products send the message that the languages in which films, TV and pop music come have a higher status than others. Urbanization, migration and employment mobility of people often lead to the disintegration of language communities, with fewer chances for children to hear and use their parents' language(s) on a daily basis.

A labor market which requires knowledge of dominant languages and does not offer economic or psychological incentives for maintaining the smaller languages. Insufficient protection of linguistic human rights and ideologies see not multilingualism but monolinguals in dominant languages as normal, sufficient and desirable, both for states (one nation - one language) and for individuals. This leads to parents often thinking that their children have to choose between either learning their mother tongue (and losing out on the labor market) or learning the dominant language (and sacrificing their own language).

SubQuestion No : 26

Q.26 What are the reasons for monolingualism in dominant languages as normal?

Ans

- ☒ 1. Labour market, insufficient protection of linguistic right and ideologies
- ☐ 2. People's desire to learn more language and job market
- ☐ 3. General thinking in people and job market enable people to learn only one language
- ☐ 4. Migration, political assertion and ideologies

Question ID : 59445926075

Status : Answered

Chosen Option : 1

Comprehension:

Read the following passage about mother tongue and answer the questions that follow.

Formal education through the medium of a language that is not a child's mother tongue, leading to children not learning their own language fully (not learning the language that the parent generation knows). This is a subtractive language learning situation, where the dominant language is learned at the cost of the mother tongue. Instead, knowledge in dominant languages can be added to the children's linguistic repertoire, at no cost to the mother tongues. In this kind of additive language learning situation the result is additive bilingualism or multilingualism, and the maintenance of the mother tongue. Subtractive language learning also means that these children will tend not to speak their mother tongue to their own children.

Homogenizing mass media, entertainment and other cultural products in dominant languages takes place through which these products send the message that the languages in which films, TV and pop music come have a higher status than others. Urbanization, migration and employment mobility of people often lead to the disintegration of language communities, with fewer chances for children to hear and use their parents' language(s) on a daily basis.

A labor market which requires knowledge of dominant languages and does not offer economic or psychological incentives for maintaining the smaller languages. Insufficient protection of linguistic human rights and ideologies see not multilingualism but monolinguals in dominant languages as normal, sufficient and desirable, both for states (one nation - one language) and for individuals. This leads to parents often thinking that their children have to choose between either learning their mother tongue (and losing out on the labor market) or learning the dominant language (and sacrificing their own language).

SubQuestion No : 27

Q.27 What is known as the 'additive language learning situation'?

- Ans**
- ☐ 1. Learning through English medium.
 - ☐ 2. Learning another language without harming the mother tongue.
 - ☐ 3. Learning through mother tongue
 - ☒ 4. Learning mother tongue with the support of another language.

Question ID : 59445926073

Status : Answered

Chosen Option : 2

Comprehension:

Read the following passage about mother tongue and answer the questions that follow.

Formal education through the medium of a language that is not a child's mother tongue, leading to children not learning their own language fully (not learning the language that the parent generation knows). This is a subtractive language learning situation, where the dominant language is learned at the cost of the mother tongue. Instead, knowledge in dominant languages can be added to the children's linguistic repertoire, at no cost to the mother tongues. In this kind of additive language learning situation the result is additive bilingualism or multilingualism, and the maintenance of the mother tongue. Subtractive language learning also means that these children will tend not to speak their mother tongue to their own children.





Homogenizing mass media, entertainment and other cultural products in dominant languages takes place through which these products send the message that the languages in which films, TV and pop music come have a higher status than others. Urbanization, migration and employment mobility of people often lead to the disintegration of language communities, with fewer chances for children to hear and use their parents' language(s) on a daily basis.

A labor market which requires knowledge of dominant languages and does not offer economic or psychological incentives for maintaining the smaller languages. Insufficient protection of linguistic human rights and ideologies see not multilingualism but monolinguals in dominant languages as normal, sufficient and desirable, both for states (one nation - one language) and for individuals. This leads to parents often thinking that their children have to choose between either learning their mother tongue (and losing out on the labor market) or learning the dominant language (and sacrificing their own language).

SubQuestion No : 28

Q.28 Choose the correct statement.

In the current scenario of language learning:

- Ans**  1. Parents have no choice but to choose between mother tongue or dominant language.
-  2. Parents have no choice but do not choose mother tongue.
-  3. Parents have choice, but choose the dominant language to the mother tongue
-  4. Government has no choice, but to impose a dominant language among its people.

Question ID : 59445926076

Status : Not Answered

Chosen Option : --

Comprehension:

Read the following passage about mother tongue and answer the questions that follow.

Formal education through the medium of a language that is not a child's mother tongue, leading to children not learning their own language fully (not learning the language that the parent generation knows). This is a subtractive language learning situation, where the dominant language is learned at the cost of the mother tongue. Instead, knowledge in dominant languages can be added to the children's linguistic repertoire, at no cost to the mother tongues. In this kind of additive language learning situation the result is additive bilingualism or multilingualism, and the maintenance of the mother tongue. Subtractive language learning also means that these children will tend not to speak their mother tongue to their own children.

Homogenizing mass media, entertainment and other cultural products in dominant languages takes place through which these products send the message that the languages in which films, TV and pop music come have a higher status than others. Urbanization, migration and employment mobility of people often lead to the disintegration of language communities, with fewer chances for children to hear and use their parents' language(s) on a daily basis.

A labor market which requires knowledge of dominant languages and does not offer economic or psychological incentives for maintaining the smaller languages. Insufficient protection of linguistic human rights and ideologies see not multilingualism but monolinguals in dominant languages as normal, sufficient and desirable, both for states (one nation - one language) and for individuals. This leads to parents often thinking that their children have to choose between either learning their mother tongue (and losing out on the labor market) or learning the dominant language (and sacrificing their own language).

SubQuestion No : 29

Q.29 Which of the following statements, according to the author, is TRUE?

Ans

- ☒ 1. Homogenisation of certain instruments of society leads to language hierarchies.
- ☐ 2. Mother tongue is always the dominant language in society.
- ☐ 3. Some language are superior and some are inferior,
- ☐ 4. Language domination takes place through political interference.

Question ID : 59445926074

Status : Not Answered

Chosen Option : --

Comprehension:

Read the following passage about mother tongue and answer the questions that follow.

Formal education through the medium of a language that is not a child's mother tongue, leading to children not learning their own language fully (not learning the language that the parent generation knows). This is a subtractive language learning situation, where the dominant language is learned at the cost of the mother tongue. Instead, knowledge in dominant languages can be added to the children's linguistic repertoire, at no cost to the mother tongues. In this kind of additive language learning situation the result is additive bilingualism or multilingualism, and the maintenance of the mother tongue. Subtractive language learning also means that these children will tend not to speak their mother tongue to their own children.

Homogenizing mass media, entertainment and other cultural products in dominant languages takes place through which these products send the message that the languages in which films, TV and pop music come have a higher status than others. Urbanization, migration and employment mobility of people often lead to the disintegration of language communities, with fewer chances for children to hear and use their parents' language(s) on a daily basis.

A labor market which requires knowledge of dominant languages and does not offer economic or psychological incentives for maintaining the smaller languages. Insufficient protection of linguistic human rights and ideologies see not multilingualism but monolinguals in dominant languages as normal, sufficient and desirable, both for states (one nation - one language) and for individuals. This leads to parents often thinking that their children have to choose between either learning their mother tongue (and losing out on the labor market) or learning the dominant language (and sacrificing their own language).

SubQuestion No : 30

Q.30 What is 'subtractive language learning'?

Ans

- ☐ 1. Learning to subtract in languages
- ☒ 2. Learning the dominant language which undermines the mother tongue
- ☐ 3. Learning English at the cost of mother tongue
- ☐ 4. Simultaneously learning two languages which support each other.

Question ID : 59445926072

Status : Answered

Chosen Option : 2