

Question Paper Preview

Notations :

- 1.Options shown in green color and with ✓ icon are correct.
- 2.Options shown in red color and with ✗ icon are incorrect.

Subject Name :	Junior Stenographer (English)
Creation Date :	2021-04-19 12:00:36
Duration :	120
Total Marks :	200
Display Marks:	Yes
Share Answer Key With Delivery Engine :	No
Actual Answer Key :	Yes
Calculator :	None
Magnifying Glass Required? :	No
Ruler Required? :	No
Eraser Required? :	No
Scratch Pad Required? :	No
Rough Sketch/Notepad Required? :	No
Protractor Required? :	No
Show Watermark on Console? :	Yes
Highlighter :	No
Auto Save on Console? (SA type of questions will be always auto saved) :	No

Mental Ability1

Group Number :	1
Group Id :	594459416
Group Maximum Duration :	0
Group Minimum Duration :	0

Show Attended Group? : No
Edit Attended Group? : No
Break time : 0
Group Marks : 20
Is this Group for Examiner? : No

General intelligence and reasoning Ability1

Section Id : 5944591138
Section Number : 1
Section type : Online
Mandatory or Optional : Mandatory
Number of Questions : 20
Number of Questions to be attempted : 20
Section Marks : 20
Enable Mark as Answered Mark for Review and Clear Response : Yes
Sub-Section Number : 1
Sub-Section Id : 5944591305
Question Shuffling Allowed : Yes

Question Number : 1 Question Id : 59445932417 Question Type : MCQ Option Shuffling : Yes Is Question Mandatory : No Option Orientation : Vertical

Correct Marks : 1 Wrong Marks : 0.25

Select the term that will come next in the following series.

A - 10, E - 15, I - 20, M - 25, _____

Options :

1. ✘ Q - 5
2. ✔ Q - 30
3. ✘ P - 30
4. ✘ R - 30

Question Number : 1 Question Id : 59445932417 Question Type : MCQ Option Shuffling : Yes Is Question Mandatory : No Option

Orientation : Vertical

Correct Marks : 1 Wrong Marks : 0.25

उस पद का चयन करें, जो निम्नलिखित श्रृंखला में अगला आएगा।

A - 10, E - 15, I - 20, M - 25, _____

Options :

1. ✘ Q - 5
2. ✔ Q - 30
3. ✘ P - 30
4. ✘ R - 30

Question Number : 2 Question Id : 59445932418 Question Type : MCQ Option Shuffling : Yes Is Question Mandatory : No Option

Orientation : Vertical

Correct Marks : 1 Wrong Marks : 0.25

Select the term that will come next in the following series.

FIN, NQV, VYD, ?, LOT

Options :

1. ✘ HLS
2. ✔ DGL
3. ✘ HGP
4. ✘ GLH

Question Number : 2 Question Id : 59445932418 Question Type : MCQ Option Shuffling : Yes Is Question Mandatory : No Option

Orientation : Vertical

Correct Marks : 1 Wrong Marks : 0.25

उस पद का चयन करें, जो निम्नलिखित श्रृंखला में अगला आएगा।

FIN, NQV, VYD, ?, LOT

Options :

1. ✘ HLS
2. ✔ DGL
3. ✘ HGP

4. ✘ GLH

Question Number : 3 Question Id : 59445932419 Question Type : MCQ Option Shuffling : Yes Is Question Mandatory : No Option Orientation : Vertical

Correct Marks : 1 Wrong Marks : 0.25

Find the wrong term in the following series.

CWHK, FULL, ISPM, LQTN, OOYO

Options :

1. ✘ ISPM
2. ✘ LQTN
3. ✘ FULL
4. ✔ OOYO

Question Number : 3 Question Id : 59445932419 Question Type : MCQ Option Shuffling : Yes Is Question Mandatory : No Option Orientation : Vertical

Correct Marks : 1 Wrong Marks : 0.25

निम्नलिखित श्रृंखला में गलत पद ज्ञात कीजिये-

CWHK, FULL, ISPM, LQTN, OOYO

Options :

1. ✘ ISPM
2. ✘ LQTN
3. ✘ FULL
4. ✔ OOYO

Question Number : 4 Question Id : 59445932420 Question Type : MCQ Option Shuffling : Yes Is Question Mandatory : No Option Orientation : Vertical

Correct Marks : 1 Wrong Marks : 0.25

Select the term that will come next in the following series.

A, G, L, P, S, ?

Options :

1. ✘ V
2. ✘ Y
3. ✘ W
4. ✔ U

Question Number : 4 Question Id : 59445932420 Question Type : MCQ Option Shuffling : Yes Is Question Mandatory : No Option Orientation : Vertical

Correct Marks : 1 Wrong Marks : 0.25

उस पद का चयन करें, जो निम्नलिखित श्रृंखला में अगला आएगा।

A, G, L, P, S, ?

Options :

1. ✘ V
2. ✘ Y
3. ✘ W
4. ✔ U

Question Number : 5 Question Id : 59445932421 Question Type : MCQ Option Shuffling : Yes Is Question Mandatory : No Option Orientation : Vertical

Correct Marks : 1 Wrong Marks : 0.25

Select the option that is related to the third term in the same way as the second term is related to the first term.

Google : Sundar Pichai : : Microsoft : ?

Options :

1. ✘ Tim Cook
2. ✘ Mark Zuckerberg
3. ✔ Satya Narayana Nadella
4. ✘ Shantanu Narayen

Question Number : 5 Question Id : 59445932421 Question Type : MCQ Option Shuffling : Yes Is Question Mandatory : No Option Orientation : Vertical

Correct Marks : 1 Wrong Marks : 0.25

उस विकल्प का चयन करें जो तीसरे पद से उसी तरह से संबंधित है, जिस प्रकार दूसरा पद पहले पद से संबंधित है।

गूगल : सुन्दर पिचई : : माइक्रोसॉफ्ट : ?

Options :

1. ✘ टिम कुक
2. ✘ मार्क जुकरबर्ग
3. ✔ सत्या नारायणा नडेला
4. ✘ शांतनु नारायण

Question Number : 6 Question Id : 59445932422 Question Type : MCQ Option Shuffling : Yes Is Question Mandatory : No Option Orientation : Vertical

Correct Marks : 1 Wrong Marks : 0.25

‘Marie Curie’ is related to ‘Science’ in the same way as ‘Leonardo Da Vinci’ is related to ‘_____’.

Options :

1. ✔ Painting
2. ✘ Philosophy
3. ✘ Sculpting
4. ✘ Polity

Question Number : 6 Question Id : 59445932422 Question Type : MCQ Option Shuffling : Yes Is Question Mandatory : No Option Orientation : Vertical

Correct Marks : 1 Wrong Marks : 0.25

‘मैरी क्यूरी’ ‘विज्ञान’ से उसी प्रकार संबंधित है जिस प्रकार ‘लीओनार्डो द विंसी’ _____ से संबंधित है?

Options :

1. ✔ चित्रकारी
2. ✘ दर्शनशास्त्र
3. ✘ नक्काशी
4. ✘ पॉलिटी

Question Number : 7 Question Id : 59445932423 Question Type : MCQ Option Shuffling : Yes Is Question Mandatory : No Option Orientation : Vertical

Correct Marks : 1 Wrong Marks : 0.25

In the following question, select the related letters from the given alternatives.

KIM : PRN :: TOR : ?

Options :

1. ✓ GLI
2. ✗ GLF
3. ✗ GOM
4. ✗ GHF

Question Number : 7 Question Id : 59445932423 Question Type : MCQ Option Shuffling : Yes Is Question Mandatory : No Option Orientation : Vertical

Correct Marks : 1 Wrong Marks : 0.25

निम्नलिखित प्रश्न में, दिए गए विकल्पों में से संबंधित अक्षरों का चयन करें।

KIM : PRN :: TOR : ?

Options :

1. ✓ GLI
2. ✗ GLF
3. ✗ GOM
4. ✗ GHF

Question Number : 8 Question Id : 59445932424 Question Type : MCQ Option Shuffling : Yes Is Question Mandatory : No Option Orientation : Vertical

Correct Marks : 1 Wrong Marks : 0.25

In the following question, select the related letters from the given alternatives.

FL : BH :: GM : ?

Options :

1. ✗ DJ
2. ✓ CI
3. ✗ LP
4. ✗ QS

Question Number : 8 Question Id : 59445932424 Question Type : MCQ Option Shuffling : Yes Is Question Mandatory : No Option Orientation : Vertical

Correct Marks : 1 Wrong Marks : 0.25

निम्नलिखित प्रश्न में, दिए गए विकल्पों में से संबंधित अक्षरों का चयन करें।

FL : BH :: GM : ?

Options :

1. ✘ DJ
2. ✔ CI
3. ✘ LP
4. ✘ QS

Question Number : 9 Question Id : 59445932425 Question Type : MCQ Option Shuffling : Yes Is Question Mandatory : No Option Orientation : Vertical

Correct Marks : 1 Wrong Marks : 0.25

In a certain code language, NOIDA is coded as STNIF. What will be the code for MEERUT?

Options :

1. ✔ RJJWZY
2. ✘ SJJWZZ
3. ✘ WZYRJJ
4. ✘ SJJVZY

Question Number : 9 Question Id : 59445932425 Question Type : MCQ Option Shuffling : Yes Is Question Mandatory : No Option Orientation : Vertical

Correct Marks : 1 Wrong Marks : 0.25

एक निश्चित कूटित भाषा में, NOIDA को STNIF के रूप में कूटित किया जाता है। MEERUT के लिए कूट क्या होगा?

Options :

1. ✔ RJJWZY
2. ✘ SJJWZZ
3. ✘ WZYRJJ
4. ✘ SJJVZY

Question Number : 10 Question Id : 59445932426 Question Type : MCQ Option Shuffling : Yes Is Question Mandatory : No Option Orientation : Vertical

Correct Marks : 1 Wrong Marks : 0.25

In a certain code language, "FRAK" is written as "35" and "MALT" is written as "45". How is "TRIM" written in that code language?

Options :

1. ✘ 60
2. ✔ 59
3. ✘ 61
4. ✘ 58

Question Number : 10 Question Id : 59445932426 Question Type : MCQ Option Shuffling : Yes Is Question Mandatory : No Option Orientation : Vertical

Correct Marks : 1 Wrong Marks : 0.25

एक निश्चित कूटित भाषा में, "FRAK" को "35" और "MALT" को "45" लिखा जाता है। उसी कूटित भाषा में "TRIM" कैसे लिखा जाता है?

Options :

1. ✘ 60
2. ✔ 59
3. ✘ 61
4. ✘ 58

Question Number : 11 Question Id : 59445932427 Question Type : MCQ Option Shuffling : Yes Is Question Mandatory : No Option Orientation : Vertical

Correct Marks : 1 Wrong Marks : 0.25

In a certain code language, 1875 means 'wound the round watch', 6143 means 'a cake is round' and 7321 means 'watch a round wheel'. Find the code for 'watch' ?

Options :

1. ✘ 1
2. ✘ 8
3. ✘ 5
4. ✔ 7

Question Number : 11 Question Id : 59445932427 Question Type : MCQ Option Shuffling : Yes Is Question Mandatory : No Option

Orientation : Vertical

Correct Marks : 1 Wrong Marks : 0.25

एक निश्चित कूट भाषा में, 1875 का अर्थ है 'wound the round watch', 6143 का अर्थ है 'a cake is round' है और 7321 का अर्थ है 'watch a round wheel' !
watch ' के लिए कूट ज्ञात कीजिये ?

Options :

1. ✘ 1
2. ✘ 8
3. ✘ 5
4. ✔ 7

Question Number : 12 Question Id : 59445932428 Question Type : MCQ Option Shuffling : Yes Is Question Mandatory : No Option

Orientation : Vertical

Correct Marks : 1 Wrong Marks : 0.25

If TEACHER is coded as CAHEETR and STUDENT is coded as DUETNST, then what is the code for SUCCESS?

Options :

1. ✘ CECSUSS
2. ✔ CCEUSSS
3. ✘ SCUSCES
4. ✘ UCSECSS

Question Number : 12 Question Id : 59445932428 Question Type : MCQ Option Shuffling : Yes Is Question Mandatory : No Option

Orientation : Vertical

Correct Marks : 1 Wrong Marks : 0.25

यदि TEACHER को CAHEETR के रूप में कूट किया गया है और STUDENT को DUETNST के रूप में कूटित किया गया है, तो SUCCESS के लिए कूट क्या है?

Options :

1. ✘ CECSUSS
2. ✔ CCEUSSS
3. ✘ SCUSCES
4. ✘ UCSECSS

Question Number : 13 Question Id : 59445932429 Question Type : MCQ Option Shuffling : Yes Is Question Mandatory : No Option

Orientation : Vertical

Correct Marks : 1 Wrong Marks : 0.25

There is a group of 6 people: A, B, C, D, E and F (not necessarily in the same order). D is taller than A and E. F is taller than B and C. E is taller than F. A is taller than F. Which of the following can be the shortest person?

Options :

1. ✓ B, or C
2. ✗ B, or E
3. ✗ C, or F
4. ✗ A, or C

Question Number : 13 Question Id : 59445932429 Question Type : MCQ Option Shuffling : Yes Is Question Mandatory : No Option

Orientation : Vertical

Correct Marks : 1 Wrong Marks : 0.25

A, B, C, D, E, और F 6 लोगों का एक समूह है (समान क्रम में हो, ये जरूरी नहीं) D, A और E से लंबा है। F, B और C से लंबा है। E, F से लंबा है। A, F से लंबा है। निम्नलिखित में से सबसे छोटा व्यक्ति कौन हो सकता है?

Options :

1. ✓ B, या C
2. ✗ B, या E
3. ✗ C, या F
4. ✗ A, या C

Question Number : 14 Question Id : 59445932430 Question Type : MCQ Option Shuffling : Yes Is Question Mandatory : No Option

Orientation : Vertical

Correct Marks : 1 Wrong Marks : 0.25

Six people P, Q, R, S, T and U sit in a row, not necessarily in the same order. If two persons sit in between P and Q, and two persons sit in between T and U, then how many persons sit in between R and S?

Options :

1. ✗ One
2. ✓ Two
3. ✗ Three
4. ✗ Four

Question Number : 14 Question Id : 59445932430 Question Type : MCQ Option Shuffling : Yes Is Question Mandatory : No Option Orientation : Vertical

Correct Marks : 1 Wrong Marks : 0.25

छह व्यक्ति P, Q, R, S, T और U एक पंक्ति में बैठते हैं, जरूरी नहीं कि इसी क्रम में हो। यदि दो व्यक्ति P और Q के बीच में बैठते हैं और दो व्यक्ति T और U के बीच में बैठते हैं, तो R और S के बीच में कितने व्यक्ति बैठते हैं?

Options :

1. ✘ एक
2. ✔ दो
3. ✘ तीन
4. ✘ चार

Question Number : 15 Question Id : 59445932431 Question Type : MCQ Option Shuffling : Yes Is Question Mandatory : No Option Orientation : Vertical

Correct Marks : 1 Wrong Marks : 0.25

Seven persons – A through G sit around a circular table such that B sits to the right of E, who sits two places away from A. D sits adjacent to B and G. A sits to the right of C. Who sits to the left of F?

Options :

1. ✔ A
2. ✘ E
3. ✘ G
4. ✘ C

Question Number : 15 Question Id : 59445932431 Question Type : MCQ Option Shuffling : Yes Is Question Mandatory : No Option Orientation : Vertical

Correct Marks : 1 Wrong Marks : 0.25

सात व्यक्ति – A से G एक वृत्ताकार मेज के चारों ओर इसप्रकार बैठते हैं, कि B, E के दाईं ओर बैठा है, जो A से दो स्थान दूर है। D, B और G के निकटवर्ती बैठा है। A, C के दाईं ओर बैठा है। F के बाईं ओर कौन बैठा है?

Options :

1. ✔ A
2. ✘ E
3. ✘ G
4. ✘ C

Question Number : 16 Question Id : 59445932432 Question Type : MCQ Option Shuffling : Yes Is Question Mandatory : No Option Orientation : Vertical

Correct Marks : 1 Wrong Marks : 0.25

In a row of 28 students Jamuna was 12th from the left end and Ganga was 19th from the right end. If Sarasvati was seated exactly in between them then what was Sarasvati's position from the right end? Assume students were seated facing the North.

Options :

1. ✘ 17th
2. ✔ 18th
3. ✘ 16th
4. ✘ 20th

Question Number : 16 Question Id : 59445932432 Question Type : MCQ Option Shuffling : Yes Is Question Mandatory : No Option Orientation : Vertical

Correct Marks : 1 Wrong Marks : 0.25

28 विद्यार्थियों की एक पंक्ति में जमुना बाएं छोर से 12 वें और गंगा दाहिने छोर से 19 वें स्थान पर थीं। यदि सरस्वती उनके ठीक बीच बैठी थी तो दाएं छोर से सरस्वती की किस स्थान पर थी? मान लें कि विद्यार्थी उत्तर की ओर मुख करके बैठे थे।

Options :

1. ✘ 17 वें
2. ✔ 18 वें
3. ✘ 16 वें
4. ✘ 20 वें

Question Number : 17 Question Id : 59445932433 Question Type : MCQ Option Shuffling : Yes Is Question Mandatory : No Option Orientation : Vertical

Correct Marks : 1 Wrong Marks : 0.25

If C is daughter of A but A is not the father of C, E is Niece of C.E is daughter of F where F is husband of D and F has no siblings. How is C related to D?

Options :

1. ✘ Father
2. ✘ Aunty
3. ✔ Sister

4. ✖ Brother

Question Number : 17 Question Id : 59445932433 Question Type : MCQ Option Shuffling : Yes Is Question Mandatory : No Option Orientation : Vertical

Correct Marks : 1 Wrong Marks : 0.25

यदि C, A की बेटी है लेकिन A, C का पिता नहीं है। E, C की भतीजी है। E, F की बेटी है जहां F, D का पति है और F का कोई भाई/बहन नहीं है। C, D से कैसे संबंधित है?

Options :

1. ✖ पिता
2. ✖ चाची
3. ✔ बहन
4. ✖ भाई

Question Number : 18 Question Id : 59445932434 Question Type : MCQ Option Shuffling : Yes Is Question Mandatory : No Option Orientation : Vertical

Correct Marks : 1 Wrong Marks : 0.25

The statements given below are followed by two conclusions labeled I and II. Assuming that the information in the statement is true, even if it appears to be at variance with generally established facts, decide which conclusion(s) logically and definitely follow(s) from the information given in the statements.

Statements:

No Boat is Ship.

All Ship are Stream.

Conclusions:

I. No Stream is Boat.

II. Some Stream are Boat.

Options :

1. ✖ None of the conclusions follow.
2. ✖ Only conclusion I follows.
3. ✖ Only conclusion II follows.
4. ✔ Either conclusion I or II follow.

Question Number : 18 Question Id : 59445932434 Question Type : MCQ Option Shuffling : Yes Is Question Mandatory : No Option Orientation : Vertical

Correct Marks : 1 Wrong Marks : 0.25

निम्न प्रश्न में दो कथन और उसके बाद I और II से अंकित दो निष्कर्ष दिए गये हैं। आपको दिए गये कथन को सत्य मानना है, भले ही वे ज्ञात तथ्यों से अलग प्रतीत होते हैं। सभी निष्कर्ष को पढ़िए और फिर निर्णय कीजिए कि दिया गया कौन सा निष्कर्ष ज्ञात तथ्यों को नजरंदाज करने पर कथन का तार्किक रूप से अनुसरण करता है।

कथन:

कोई नाव जहाज नहीं है।

सभी जहाज धारा हैं।

निष्कर्ष:

I. कोई धारा नाव नहीं है।

II. कुछ धारा नाव हैं।

Options :

1. ✘ कोई भी निष्कर्ष अनुसरण नहीं करता है।
2. ✘ केवल निष्कर्ष I अनुसरण करता है।
3. ✘ केवल निष्कर्ष II अनुसरण करता है।
4. ✔ या निष्कर्ष I या फिर II अनुसरण करता है।

Question Number : 19 Question Id : 59445932435 Question Type : MCQ Option Shuffling : Yes Is Question Mandatory : No Option Orientation : Vertical

Correct Marks : 1 Wrong Marks : 0.25

In each question below are given three statements followed by two conclusions numbered I and II. You have to take the two/three given statements to be true even if they seem to be at variance from commonly known facts and then decide which of the given conclusions logically follows from the given statements disregarding commonly known facts.

Statement:

Some mobiles are laptops.

No laptop is computer.

All phones are computer.

Conclusion:

I. At least some mobiles are computer.

II. At least some phone are laptops.

Options :

1. ✘ If only conclusion I follows.
2. ✘ If either conclusion I or II follows.
3. ✘ If both conclusion I and II follow.

4. ✓ If neither conclusion I nor II follows.

Question Number : 19 Question Id : 59445932435 Question Type : MCQ Option Shuffling : Yes Is Question Mandatory : No Option Orientation : Vertical

Correct Marks : 1 Wrong Marks : 0.25

नीचे दिए गए प्रत्येक प्रश्न में तीन कथन और उसके बाद दो निष्कर्ष I तथा II दिए गए हैं। आपको दिए गए दो/तीन कथनों को सत्य मानना है भले ही वे सर्वज्ञात तथ्यों से अलग हों। निष्कर्षों को पढ़िए और फिर निर्णय लीजिए कि दिए गए सभी निष्कर्षों में से कौन-सा निष्कर्ष तर्कसंगत रूप से इन कथनों का अनुसरण करता है।

कथन:

कुछ मोबाइल, लैपटॉप हैं।

कोई लैपटॉप, कंप्यूटर नहीं है।

सभी फोन, कंप्यूटर हैं।

निष्कर्ष:

I. कम-से-कम कुछ मोबाइल, कंप्यूटर हैं।

II. कम-से-कम कुछ फोन, लैपटॉप हैं।

Options :

1. ✘ यदि केवल निष्कर्ष I अनुसरण करता है।

2. ✘ यदि या तो निष्कर्ष I या निष्कर्ष II अनुसरण करता है।

3. ✘ यदि निष्कर्ष I तथा निष्कर्ष II दोनों अनुसरण करते हैं।

4. ✓ यदि न तो निष्कर्ष I न निष्कर्ष II अनुसरण करता है।

Question Number : 20 Question Id : 59445932436 Question Type : MCQ Option Shuffling : Yes Is Question Mandatory : No Option Orientation : Vertical

Correct Marks : 1 Wrong Marks : 0.25

In the question, below are three statements followed by two conclusions numbered I and II. You have to consider the statements to be true even if it seems to be at variance from commonly known facts. You have to decide which of the given conclusions, if any, follows from the given statements.

Statements:

Some cups are not bolts.

All dusters are balls.

All cups are balls.

Conclusions:

- I. All bolts are cups.
- II. Some dusters are cups is a possibility.

Options :

1. ✘ If only conclusion I follows.
2. ✔ If only conclusions II follows.
3. ✘ If either conclusion I or II follows.
4. ✘ If both conclusion I and II follow.

Question Number : 20 Question Id : 59445932436 Question Type : MCQ Option Shuffling : Yes Is Question Mandatory : No Option Orientation : Vertical

Correct Marks : 1 Wrong Marks : 0.25

प्रश्न में तीन कथन दिये गये हैं जिसके आगे दो निष्कर्ष I और II निकाले गये हैं। आपको मानना है कि दोनों कथन सत्य है चाहे वह सामान्यतः ज्ञात तथ्यों से भिन्न प्रतीत होते हों। आपको निर्णय करना है कि दिए गए निष्कर्षों में से कौन-सा/कौन-से निश्चित रूप से कथन द्वारा सही निकाला जा सकता है/सकते हैं, यदि कोई हो।

कथन:

- कुछ कप बोल्ट नहीं हैं।
सभी डस्टर बॉल हैं।
सभी कप बॉल हैं।

निष्कर्ष:

- I. सभी बोल्ट कप हैं।
- II. कुछ डस्टर कप हैं एक संभावना है।

Options :

1. ✘ यदि केवल निष्कर्ष I अनुसरण करता है।
2. ✔ यदि केवल निष्कर्ष II अनुसरण करता है
3. ✘ यदि या तो निष्कर्ष I या II अनुसरण करता है।
4. ✘ यदि निष्कर्ष I और II दोनों अनुसरण करते हैं।

Mental Ability2

Group Number :

2

Group Id :

594459417

Group Maximum Duration :	0
Group Minimum Duration :	0
Show Attended Group? :	No
Edit Attended Group? :	No
Break time :	0
Group Marks :	20
Is this Group for Examiner? :	No

General intelligence and reasoning Ability2

Section Id :	5944591139
Section Number :	1
Section type :	Online
Mandatory or Optional :	Mandatory
Number of Questions :	20
Number of Questions to be attempted :	20
Section Marks :	20
Enable Mark as Answered Mark for Review and Clear Response :	Yes
Sub-Section Number :	1
Sub-Section Id :	5944591306
Question Shuffling Allowed :	Yes

Question Number : 21 Question Id : 59445932437 Question Type : MCQ Option Shuffling : Yes Is Question Mandatory : No Option Orientation : Vertical

Correct Marks : 1 Wrong Marks : 0.25

A statement is followed by two Conclusions I and II. You have to consider the statement to be true, even if it seems to be at variance from commonly known facts. You are to decide which of the given conclusions can definitely be drawn from the given statements and indicate your answer accordingly.

Statements:

India is a country of multiple languages.

Conclusions:

I. All Indians should learn multiple languages.

II. Every country has multiple languages.

Options :

1. ✖ Only conclusion II follows.
2. ✔ Neither conclusion I nor conclusion II follows.
3. ✖ Both the conclusions follow.
4. ✖ Only conclusion I follows.

Question Number : 21 Question Id : 59445932437 Question Type : MCQ Option Shuffling : Yes Is Question Mandatory : No Option Orientation : Vertical

Correct Marks : 1 Wrong Marks : 0.25

एक कथन और उसके बाद I और II से अंकित दो निष्कर्ष दिए गये हैं। आपको दिए गये कथनों को सत्य मानना है, भले ही वे ज्ञात तथ्यों से अलग प्रतीत होते हैं। निर्णय कीजिए की दिये गये निष्कर्षों में से कौन-सा निष्कर्ष कथन का तार्किक रूप से अनुसरण करता है और तदानुसार अपना उत्तर अंकित कीजिए।

कथन:

भारत विभिन्न भाषाओं का देश है।

निष्कर्ष:

- I. सभी भारतीय को विभिन्न भाषाएँ सीखनी चाहिए।
- II. हर देश में विभिन्न भाषाएँ होती हैं।

Options :

1. ✖ केवल निष्कर्ष II अनुसरण करता है।
2. ✔ न तो निष्कर्ष I और न ही निष्कर्ष II अनुसरण करता है।
3. ✖ दोनों निष्कर्ष अनुसरण करते हैं।
4. ✖ केवल निष्कर्ष I अनुसरण करता है।

Question Number : 22 Question Id : 59445932438 Question Type : MCQ Option Shuffling : Yes Is Question Mandatory : No Option Orientation : Vertical

Correct Marks : 1 Wrong Marks : 0.25

In the question below, a statement is followed by two assumptions numbered I and II. An assumption is something supposed or taken for granted. You have to consider the statement and the following assumptions and decide which of the assumptions is implicit in the statement.

Statement: The patient's condition would improve after operation.

Assumption I: The patient can be operated upon in this condition.

Assumption II: The patient cannot be operated upon in this condition.

Options :

1. ✓ If only assumption I is implicit.
2. ✗ If only assumption II is implicit.
3. ✗ If neither I nor II assumption is implicit.
4. ✗ If both I and II assumptions are implicit.

Question Number : 22 Question Id : 59445932438 Question Type : MCQ Option Shuffling : Yes Is Question Mandatory : No Option Orientation : Vertical

Correct Marks : 1 Wrong Marks : 0.25

दिए गए प्रश्न में, एक कथन के बाद I और II की दो अवधारणाएँ दी गई हैं। कोई अवधारणा वह बात है जिसे या तो मान लिया जाता है या गृहीत हो। आपको दिए गए कथनो और निम्नलिखित अवधारणाओं पर विचार कर यह तय करना होगा कि कथन में कौन-सी अवधारणा कथन में अन्तः निर्हित हैं।

कथन: ऑपरेशन के बाद रोगी की स्थिति में सुधार होगा।
अवधारणा I: इस स्थिति में रोगी का ऑपरेशन किया जा सकता है।
अवधारणा II: इस स्थिति में रोगी का ऑपरेशन नहीं किया जा सकता है।

Options :

1. ✓ यदि केवल अवधारणा I अन्तः निर्हित है।
2. ✗ यदि केवल अवधारणा II अन्तः निर्हित है।
3. ✗ यदि न तो I और न ही II अवधारणा अन्तः निर्हित है।
4. ✗ यदि I और II दोनों अवधारणाएँ अन्तः निर्हित है।

Question Number : 23 Question Id : 59445932439 Question Type : MCQ Option Shuffling : Yes Is Question Mandatory : No Option Orientation : Vertical

Correct Marks : 1 Wrong Marks : 0.25

Select the missing number from the given responses.

14, 44, 135, 409, 1232, ?

Options :

1. ✗ 2962
2. ✗ 3340
3. ✓ 3702
4. ✗ 3406

Question Number : 23 Question Id : 59445932439 Question Type : MCQ Option Shuffling : Yes Is Question Mandatory : No Option Orientation : Vertical

Correct Marks : 1 Wrong Marks : 0.25

दिए गए विकल्पों में से लुप्त संख्या का चयन करें।

14, 44, 135, 409, 1232, ?

Options :

1. ✘ 2962
2. ✘ 3340
3. ✔ 3702
4. ✘ 3406

Question Number : 24 Question Id : 59445932440 Question Type : MCQ Option Shuffling : Yes Is Question Mandatory : No Option Orientation : Vertical

Correct Marks : 1 Wrong Marks : 0.25

If '+' means '×', '-' means '÷', '×' means '-' and '÷' means '+', then what will be the value of $46 \div 12 + 8 \times 363 - 33$?

Options :

1. ✘ 130
2. ✘ 121
3. ✔ 131
4. ✘ 133

Question Number : 24 Question Id : 59445932440 Question Type : MCQ Option Shuffling : Yes Is Question Mandatory : No Option Orientation : Vertical

Correct Marks : 1 Wrong Marks : 0.25

यदि '+' का अर्थ '×', '-' का अर्थ '÷', '×' का अर्थ '-' तथा '÷' का अर्थ '+' है, तो $46 \div 12 + 8 \times 363 - 33$ का मान क्या होगा?

Options :

1. ✘ 130
2. ✘ 121
3. ✔ 131
4. ✘ 133

Question Number : 25 Question Id : 59445932441 Question Type : MCQ Option Shuffling : Yes Is Question Mandatory : No Option Orientation : Vertical

Correct Marks : 1 Wrong Marks : 0.25

If $17 \$ 22 = 4$ and $56 \$ 13 = 7$, then find the value of $71 \$ 25 = ?$

Options :

1. ✘ 56
2. ✘ 96
3. ✔ 1
4. ✘ 8

Question Number : 25 Question Id : 59445932441 Question Type : MCQ Option Shuffling : Yes Is Question Mandatory : No Option Orientation : Vertical

Correct Marks : 1 Wrong Marks : 0.25

यदि $17 \$ 22 = 4$ और $56 \$ 13 = 7$, तो $71 \$ 25 =$ का मान ज्ञात कीजिए?

Options :

1. ✘ 56
2. ✘ 96
3. ✔ 1
4. ✘ 8

Question Number : 26 Question Id : 59445932442 Question Type : MCQ Option Shuffling : Yes Is Question Mandatory : No Option Orientation : Vertical

Correct Marks : 1 Wrong Marks : 0.25

In the following question select the related number from the given alternatives.

$643 : 9 :: 441 : 7 :: 324 : ?$

Options :

1. ✘ 3
2. ✘ 9
3. ✔ 6
4. ✘ 2

Question Number : 26 Question Id : 59445932442 Question Type : MCQ Option Shuffling : Yes Is Question Mandatory : No Option Orientation : Vertical

Correct Marks : 1 Wrong Marks : 0.25

दिए गए विकल्पों में से संबंधित संख्या का चयन करें।

643 : 9 :: 441 : 7 :: 324 : ?

Options :

1. ✖ 3
2. ✖ 9
3. ✔ 6
4. ✖ 2

Question Number : 27 Question Id : 59445932443 Question Type : MCQ Option Shuffling : Yes Is Question Mandatory : No Option Orientation : Vertical

Correct Marks : 1 Wrong Marks : 0.25

In the following questions a relationship between different elements is shown in the statements. The statements are followed by 2 conclusions, give answer.

Statement:

$X_2 \geq X_6, X_4 \leq X_1 \leq X_5, X_3 = X_2, X_5 > X_3$

Conclusion:

1. $X_3 > X_6$
2. $X_3 = X_6$

Options :

1. ✖ If only conclusion 1 is false.
2. ✖ If only conclusion 2 is false.
3. ✔ If either conclusion 1 or conclusion 2 is false
4. ✖ If neither conclusion 1 nor conclusion 2 is false.

Question Number : 27 Question Id : 59445932443 Question Type : MCQ Option Shuffling : Yes Is Question Mandatory : No Option Orientation : Vertical

Correct Marks : 1 Wrong Marks : 0.25

निम्नलिखित प्रश्नों में दिए गए कथनों में विभिन्न तत्वों के बीच संबंध दर्शाया गया है। कथन के बाद 2 निष्कर्ष दिए गए हैं, उत्तर दें।

कथन:

$X_2 \geq X_6$, $X_4 \leq X_1 \leq X_5$, $X_3 = X_2$, $X_5 > X_3$

निष्कर्ष:

1. $X_3 > X_6$

2. $X_3 = X_6$

Options :

1. ✘ यदि केवल निष्कर्ष 1 असत्य है

2. ✘ यदि केवल निष्कर्ष 2 असत्य है

3. ✔ यदि या तो निष्कर्ष 1 या निष्कर्ष 2 असत्य है

4. ✘ यदि न तो निष्कर्ष 1 न निष्कर्ष 2 असत्य है


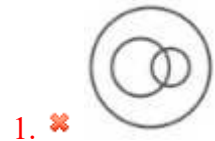
Question Number : 28 Question Id : 59445932444 Question Type : MCQ Option Shuffling : Yes Is Question Mandatory : No Option Orientation : Vertical

Correct Marks : 1 Wrong Marks : 0.25

Which of the following Venn diagrams correctly represents the following classes:

Men, Father, Doctor

Options :



4. ✘



Question Number : 28 Question Id : 59445932444 Question Type : MCQ Option Shuffling : Yes Is Question Mandatory : No Option Orientation : Vertical

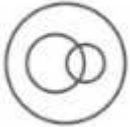
Correct Marks : 1 Wrong Marks : 0.25

निम्नलिखित में से कौन सा वेन आरेख निम्न वर्गों का सही प्रकार प्रतिनिधित्व करता है:

आदमी, पिता, डॉक्टर

Options :

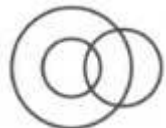
1. ✘



2. ✘



3. ✔



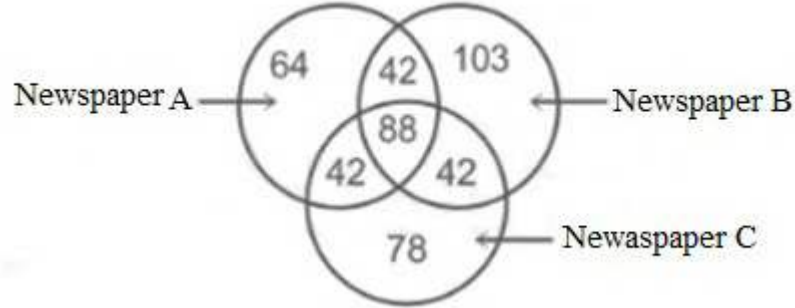
4. ✘



Question Number : 29 Question Id : 59445932445 Question Type : MCQ Option Shuffling : Yes Is Question Mandatory : No Option Orientation : Vertical

Correct Marks : 1 Wrong Marks : 0.25

In the figure, how many people read Newspaper A?



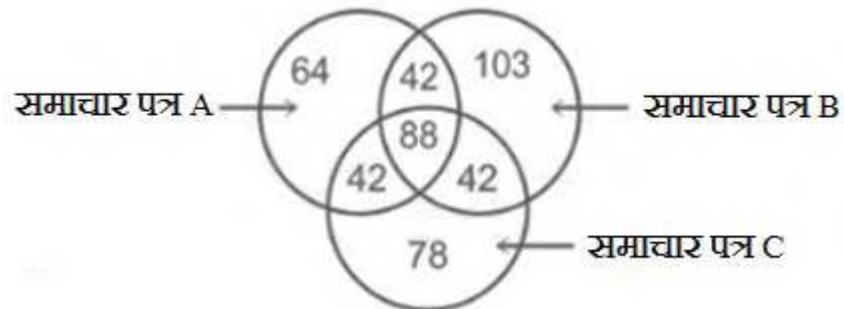
Options :

1. ✘ 64
2. ✘ 88
3. ✔ 236
4. ✘ 172

Question Number : 29 Question Id : 59445932445 Question Type : MCQ Option Shuffling : Yes Is Question Mandatory : No Option Orientation : Vertical

Correct Marks : 1 Wrong Marks : 0.25

चित्र में, कितने लोग समाचार पत्र A पढ़ते हैं?



Options :

1. ✘ 64
2. ✘ 88
3. ✔ 236

4. ✘ 172

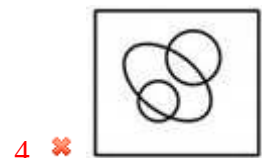
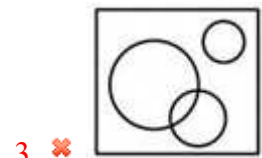

Question Number : 30 Question Id : 59445932446 Question Type : MCQ Option Shuffling : Yes Is Question Mandatory : No Option Orientation : Vertical

Correct Marks : 1 Wrong Marks : 0.25

Identify the diagram that best represents the relationship among the given classes.

India, New Delhi, Australia

Options :



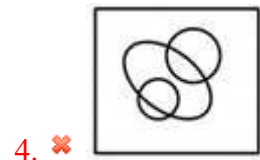

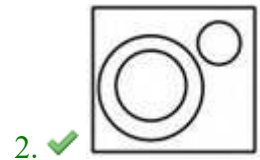

Question Number : 30 Question Id : 59445932446 Question Type : MCQ Option Shuffling : Yes Is Question Mandatory : No Option Orientation : Vertical

Correct Marks : 1 Wrong Marks : 0.25

उस आरेख का चयन करें जो दिए गये वर्गों में उचित संबंध दर्शाता है:

भारत, नई दिल्ली, ऑस्ट्रेलिया

Options :



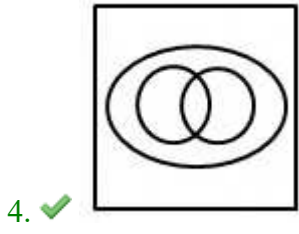
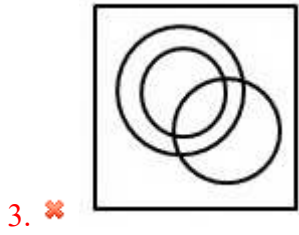
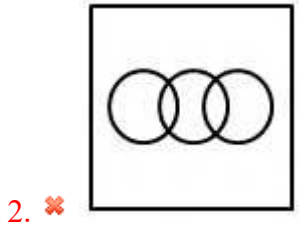
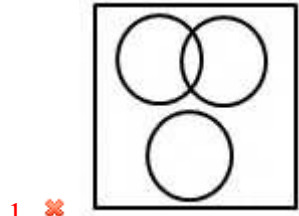
Question Number : 31 Question Id : 59445932447 Question Type : MCQ Option Shuffling : Yes Is Question Mandatory : No Option Orientation : Vertical

Correct Marks : 1 Wrong Marks : 0.25

Identify the diagram that best represents the relationship among the given classes.

Pets, Dogs, animals

Options :



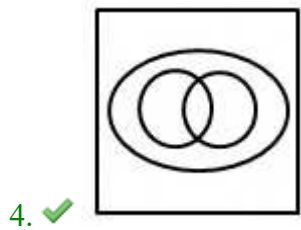
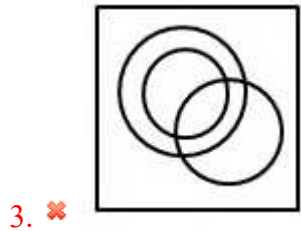
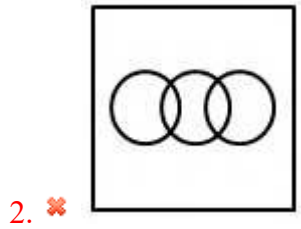
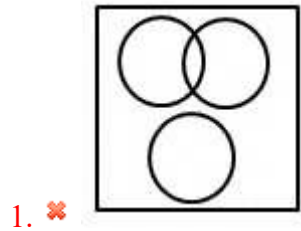
Question Number : 31 Question Id : 59445932447 Question Type : MCQ Option Shuffling : Yes Is Question Mandatory : No Option Orientation : Vertical

Correct Marks : 1 Wrong Marks : 0.25

निम्न में से उस आरेख का चयन करें जो दिए गए वर्गों में उचित संबंध को दर्शाता है?

पालतू जानवर, कुत्ते, जानवर

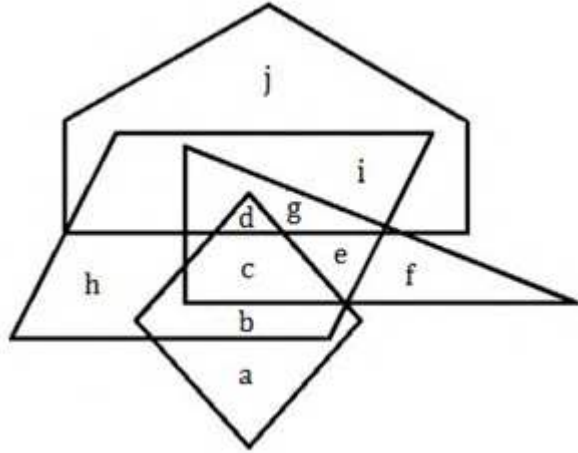
Options :



Question Number : 32 Question Id : 59445932448 Question Type : MCQ Option Shuffling : Yes Is Question Mandatory : No Option Orientation : Vertical

Correct Marks : 1 Wrong Marks : 0.25

In the Following figure, pentagon represents Reality shows, parallelogram represents Movie channels, triangle represents Fashion shows and rhombus represents News channels. This information is about the people who like different types of shows.



The people who like only News, Movie and Fashion shows are represented by the letter _____.

Options :

1. ✘ d
2. ✔ c
3. ✘ b
4. ✘ a

Question Number : 32 Question Id : 59445932448 Question Type : MCQ Option Shuffling : Yes Is Question Mandatory : No Option Orientation : Vertical

Correct Marks : 1 Wrong Marks : 0.25

निम्नलिखित आकृति में, पंचभुज रियलिटी शो का प्रतिनिधित्व करता है, समानांतर चतुर्भुज मूवी चैनलों का प्रतिनिधित्व करता है, त्रिकोण फैशन शो का प्रतिनिधित्व करता है और समचतुर्भुज समाचार चैनलों का प्रतिनिधित्व करता है। यह जानकारी उन लोगों के बारे में है जिन्हें विभिन्न प्रकार के शो पसंद हैं।

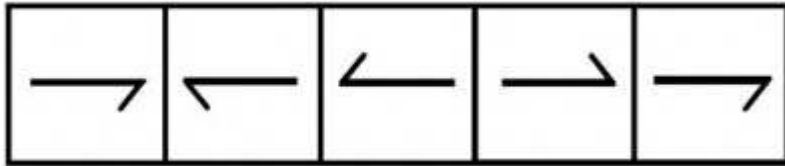
Options :

1. ✓ दक्षिण-पश्चिम
2. ✗ दक्षिण-पूर्व
3. ✗ दक्षिण
4. ✗ पश्चिम

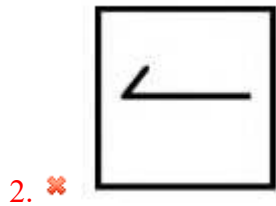
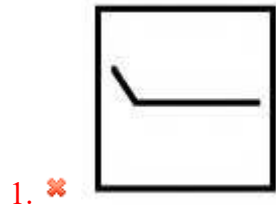
Question Number : 34 Question Id : 59445932450 Question Type : MCQ Option Shuffling : Yes Is Question Mandatory : No Option Orientation : Vertical

Correct Marks : 1 Wrong Marks : 0.25

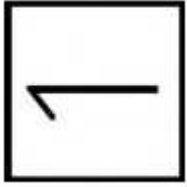
Select the figure that will come next in the following series.



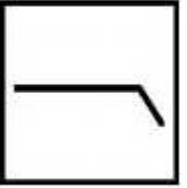
Options :



3. ✓



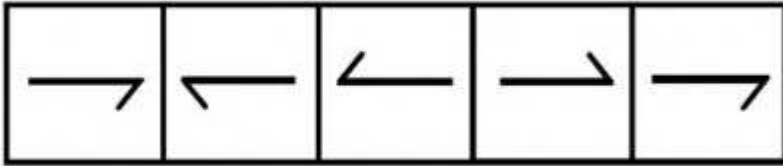
4. ✗



Question Number : 34 Question Id : 59445932450 Question Type : MCQ Option Shuffling : Yes Is Question Mandatory : No Option Orientation : Vertical

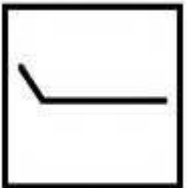
Correct Marks : 1 Wrong Marks : 0.25

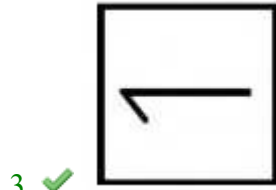
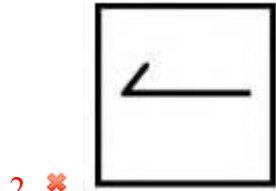
उस आकृति का चयन करें जो निम्नलिखित श्रृंखला में आगे आएगी।



Options :

1. ✗

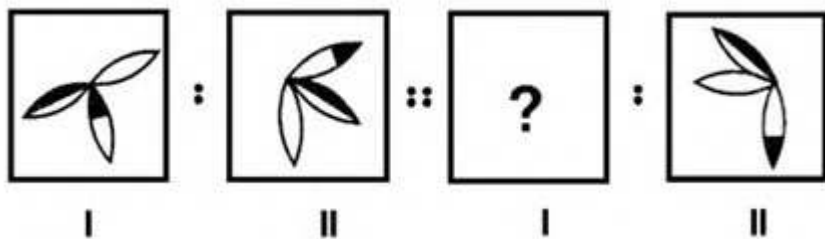





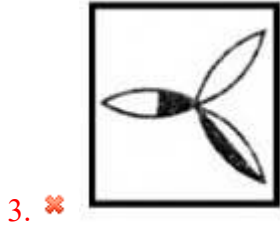
Question Number : 35 Question Id : 59445932451 Question Type : MCQ Option Shuffling : Yes Is Question Mandatory : No Option Orientation : Vertical

Correct Marks : 1 Wrong Marks : 0.25

Select the option that is related to the third figure in the same way as the second figure is related to the first figure.



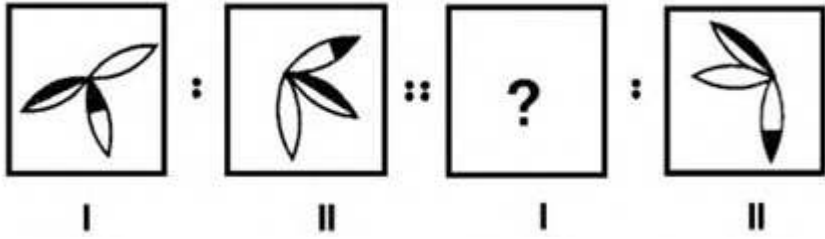
Options :




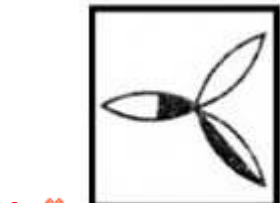
Question Number : 35 Question Id : 59445932451 Question Type : MCQ Option Shuffling : Yes Is Question Mandatory : No Option Orientation : Vertical

Correct Marks : 1 Wrong Marks : 0.25

उस विकल्प का चयन करें जो तीसरी आकृति से उसी तरह से सम्बंधित है जिस प्रकार दूसरी आकृति पहली आकृति से सम्बंधित है।



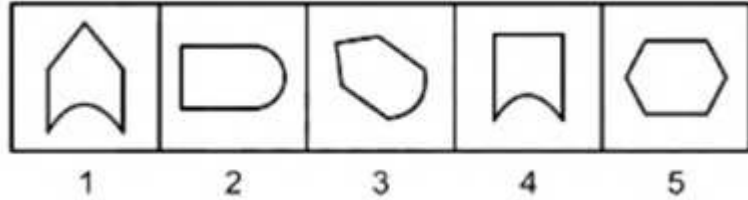
Options :



Question Number : 36 Question Id : 59445932452 Question Type : MCQ Option Shuffling : Yes Is Question Mandatory : No Option Orientation : Vertical

Correct Marks : 1 Wrong Marks : 0.25

Select the odd figure out of the given series.



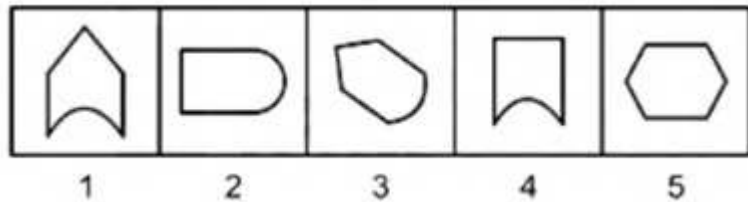
Options :

- 1. ✘ 4
- 2. ✔ 5
- 3. ✘ 3
- 4. ✘ 2

Question Number : 36 Question Id : 59445932452 Question Type : MCQ Option Shuffling : Yes Is Question Mandatory : No Option Orientation : Vertical

Correct Marks : 1 Wrong Marks : 0.25

दी गई श्रृंखला में से बेजोड़ आकृति को चुनें।



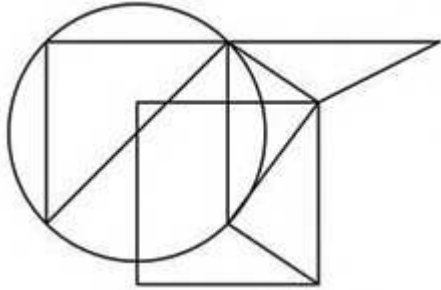
Options :

- 1. ✘ 4
- 2. ✔ 5
- 3. ✘ 3
- 4. ✘ 2

Question Number : 37 Question Id : 59445932453 Question Type : MCQ Option Shuffling : Yes Is Question Mandatory : No Option Orientation : Vertical

Correct Marks : 1 Wrong Marks : 0.25

How many triangles are present in the given figure?



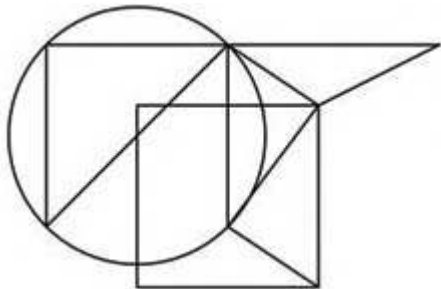
Options :

1. ✘ 7
2. ✘ 10
3. ✔ 9
4. ✘ 11

Question Number : 37 Question Id : 59445932453 Question Type : MCQ Option Shuffling : Yes Is Question Mandatory : No Option Orientation : Vertical

Correct Marks : 1 Wrong Marks : 0.25

दी गई आरेख में कितने त्रिभुज उपस्थित है?



Options :

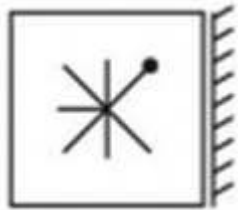
1. ✘ 7
2. ✘ 10
3. ✔ 9

4. ✖ 11

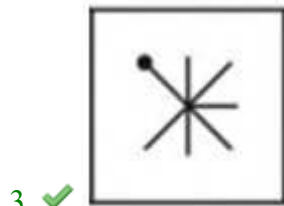
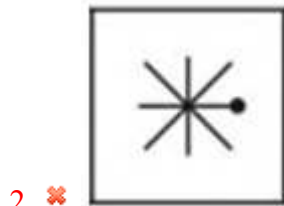
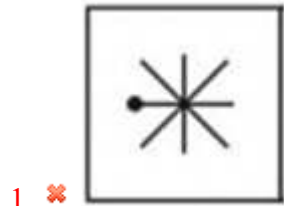
Question Number : 38 Question Id : 59445932454 Question Type : MCQ Option Shuffling : Yes Is Question Mandatory : No Option Orientation : Vertical

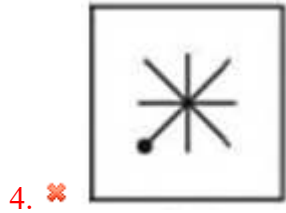
Correct Marks : 1 Wrong Marks : 0.25

In each of the following questions, choose the correct mirror image of the figure, from amongst the four alternatives.



Options :

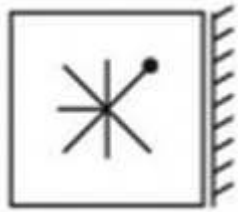




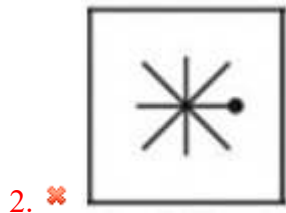
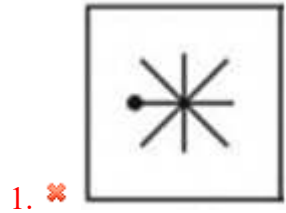
Question Number : 38 Question Id : 59445932454 Question Type : MCQ Option Shuffling : Yes Is Question Mandatory : No Option Orientation : Vertical

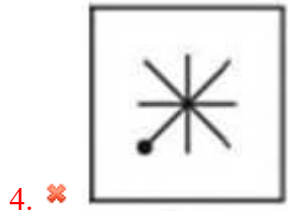
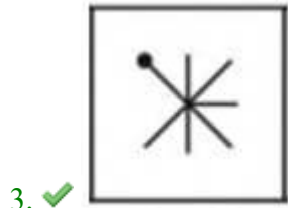
Correct Marks : 1 Wrong Marks : 0.25

निम्नलिखित में से प्रत्येक प्रश्न में, दिए गए चारों विकल्पों में से चित्र के सही दर्पण प्रतिबिंब का चयन करें।



Options :



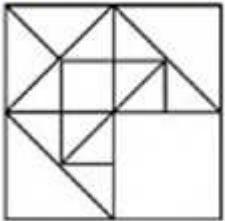


Question Number : 39 Question Id : 59445932455 Question Type : MCQ Option Shuffling : Yes Is Question Mandatory : No Option Orientation : Vertical

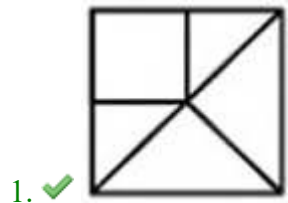
Correct Marks : 1 Wrong Marks : 0.25

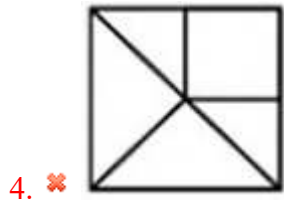
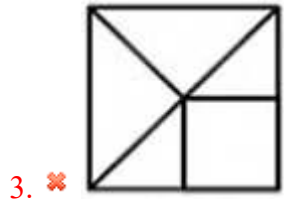
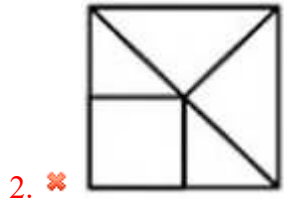
Select the correct option to complete the following pattern.

Question Figure:



Options :



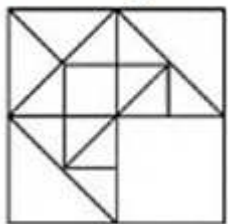


Question Number : 39 Question Id : 59445932455 Question Type : MCQ Option Shuffling : Yes Is Question Mandatory : No Option Orientation : Vertical

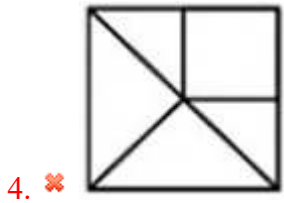
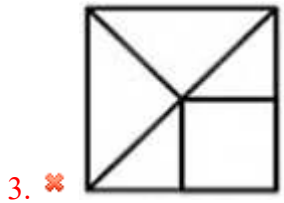
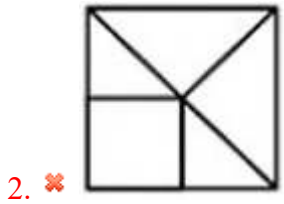
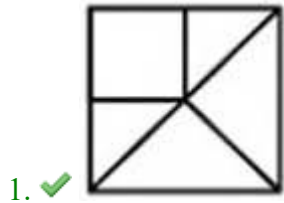
Correct Marks : 1 Wrong Marks : 0.25

निम्नलिखित पैटर्न को पूरा करने के लिए सही विकल्प का चयन करें।

प्रश्न आकृति:



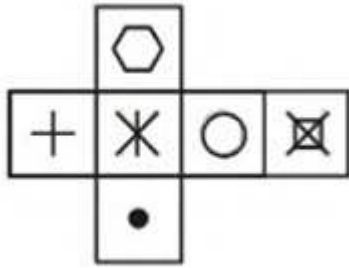
Options :



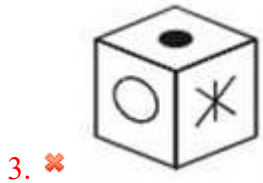
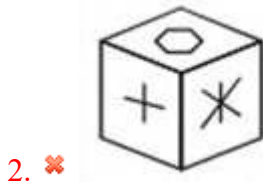
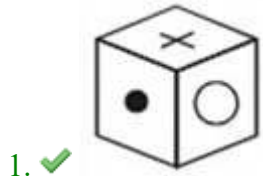
Question Number : 40 Question Id : 59445932456 Question Type : MCQ Option Shuffling : Yes Is Question Mandatory : No Option Orientation : Vertical

Correct Marks : 1 Wrong Marks : 0.25

Which of the following cube in the answer figure cannot be made based on the unfolded cube in the question figure.

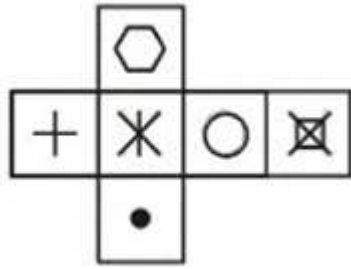


Options :

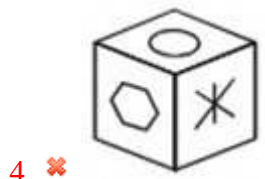
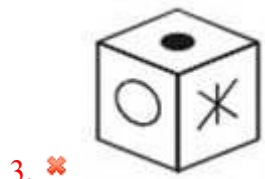
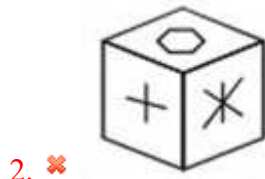
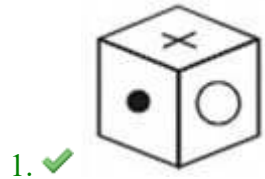


Question Number : 40 Question Id : 59445932456 Question Type : MCQ Option Shuffling : Yes Is Question Mandatory : No Option Orientation : Vertical Correct Marks : 1 Wrong Marks : 0.25

उत्तर आकृति में निम्नलिखित में से कौन-सा घन प्रश्न आकृति में सामने आए घन के आधार पर नहीं बनाया जा सकता है?



Options :



General Awareness1

Group Number :	3
Group Id :	594459418
Group Maximum Duration :	0
Group Minimum Duration :	0
Show Attended Group? :	No
Edit Attended Group? :	No
Break time :	0
Group Marks :	20
Is this Group for Examiner? :	No

General Awareness1

Section Id :	5944591140
Section Number :	1
Section type :	Online
Mandatory or Optional :	Mandatory
Number of Questions :	20
Number of Questions to be attempted :	20
Section Marks :	20
Enable Mark as Answered Mark for Review and Clear Response :	Yes
Sub-Section Number :	1
Sub-Section Id :	5944591307
Question Shuffling Allowed :	Yes

Question Number : 41 Question Id : 59445932457 Question Type : MCQ Option Shuffling : Yes Is Question Mandatory : No Option Orientation : Vertical

Correct Marks : 1 Wrong Marks : 0.25

In which of the following states is the Chandragad fort situated?

Options :

1. ✓ Maharashtra
2. ✗ Andhra Pradesh

3. ✖ Karnataka

4. ✖ Gujarat

Question Number : 41 Question Id : 59445932457 Question Type : MCQ Option Shuffling : Yes Is Question Mandatory : No Option Orientation : Vertical

Correct Marks : 1 Wrong Marks : 0.25

चंद्रगढ़ किला निम्नलिखित में से किस राज्य में स्थित है?

Options :

1. ✔ महाराष्ट्र

2. ✖ आंध्र प्रदेश

3. ✖ कर्नाटक

4. ✖ गुजरात

Question Number : 42 Question Id : 59445932458 Question Type : MCQ Option Shuffling : Yes Is Question Mandatory : No Option Orientation : Vertical

Correct Marks : 1 Wrong Marks : 0.25

For which of the following dance-forms is Shovana Narayana very renowned?

Options :

1. ✖ Bharatnatyam

2. ✔ Kathak

3. ✖ Odissi

4. ✖ Lavani

Question Number : 42 Question Id : 59445932458 Question Type : MCQ Option Shuffling : Yes Is Question Mandatory : No Option Orientation : Vertical

Correct Marks : 1 Wrong Marks : 0.25

शोवना नारायण निम्नलिखित में से कौनसे नृत्य-कला के लिए जनप्रिय हैं?

Options :

1. ✖ भरतनाट्यम

2. ✔ कथक

3. ✖ ओडिसी

4. ✖ लावणी

Question Number : 43 Question Id : 59445932459 Question Type : MCQ Option Shuffling : Yes Is Question Mandatory : No Option Orientation : Vertical

Correct Marks : 1 Wrong Marks : 0.25

In which year was the Mehrangarh Fort established?

Options :

1. ✖ 1456
2. ✖ 1457
3. ✖ 1458
4. ✔ 1459

Question Number : 43 Question Id : 59445932459 Question Type : MCQ Option Shuffling : Yes Is Question Mandatory : No Option Orientation : Vertical

Correct Marks : 1 Wrong Marks : 0.25

मेहरानगढ़ किले की स्थापना किस वर्ष की गई थी?

Options :

1. ✖ 1456
2. ✖ 1457
3. ✖ 1458
4. ✔ 1459

Question Number : 44 Question Id : 59445932460 Question Type : MCQ Option Shuffling : Yes Is Question Mandatory : No Option Orientation : Vertical

Correct Marks : 1 Wrong Marks : 0.25

Which of the following is Goan mud musical instrument?

Options :

1. ✖ Bandna
2. ✔ Ghumot
3. ✖ Kondo
4. ✖ Gwandab

Question Number : 44 Question Id : 59445932460 Question Type : MCQ Option Shuffling : Yes Is Question Mandatory : No Option Orientation : Vertical

Correct Marks : 1 Wrong Marks : 0.25

निम्नलिखित में से कौन सा गोयान मिट्टी का वाद्य यंत्र है?

Options :

1. ✘ बंदना
2. ✔ घुमोट
3. ✘ कोंडो
4. ✘ खान्दाब

Question Number : 45 Question Id : 59445932461 Question Type : MCQ Option Shuffling : Yes Is Question Mandatory : No Option Orientation : Vertical

Correct Marks : 1 Wrong Marks : 0.25

In which of the following states is the Bihula festival very popular?

Options :

1. ✘ Odisha
2. ✘ Madhya Pradesh
3. ✘ Gujarat
4. ✔ Bihar

Question Number : 45 Question Id : 59445932461 Question Type : MCQ Option Shuffling : Yes Is Question Mandatory : No Option Orientation : Vertical

Correct Marks : 1 Wrong Marks : 0.25

निम्नलिखित में से किस राज्य में बिहुला त्योहार बहुत लोकप्रिय है?

Options :

1. ✘ ओडिशा
2. ✘ मध्यप्रदेश
3. ✘ गुजरात
4. ✔ बिहार

Question Number : 46 Question Id : 59445932462 Question Type : MCQ Option Shuffling : Yes Is Question Mandatory : No Option

Orientation : Vertical

Correct Marks : 1 Wrong Marks : 0.25

Till which year was India in the first stage of demographic transition?

Options :

1. ✘ 1901
2. ✘ 1911
3. ✔ 1921
4. ✘ 1931

Question Number : 46 Question Id : 59445932462 Question Type : MCQ Option Shuffling : Yes Is Question Mandatory : No Option

Orientation : Vertical

Correct Marks : 1 Wrong Marks : 0.25

किस वर्ष के पूर्व तक भारत जनांकिकीय संक्रमण के प्रथम सोपान में था?

Options :

1. ✘ 1901
2. ✘ 1911
3. ✔ 1921
4. ✘ 1931

Question Number : 47 Question Id : 59445932463 Question Type : MCQ Option Shuffling : Yes Is Question Mandatory : No Option

Orientation : Vertical

Correct Marks : 1 Wrong Marks : 0.25

What was the duration of the Second Five Year Plan?

Options :

1. ✘ 1955-60
2. ✔ 1956-61
3. ✘ 1957-62
4. ✘ 1958-63

Question Number : 47 Question Id : 59445932463 Question Type : MCQ Option Shuffling : Yes Is Question Mandatory : No Option

Orientation : Vertical

Correct Marks : 1 Wrong Marks : 0.25

द्वितीय पंचवर्षीय योजना की अवधि क्या थी?

Options :

1. ✘ 1955-60
2. ✔ 1956-61
3. ✘ 1957-62
4. ✘ 1958-63

Question Number : 48 Question Id : 59445932464 Question Type : MCQ Option Shuffling : Yes Is Question Mandatory : No Option Orientation : Vertical

Correct Marks : 1 Wrong Marks : 0.25

Which of the following committee's recommendations led to the formation of NABARD?

Options :

1. ✔ Shri B. Sivaraman Committee
2. ✘ Shri Naresh Chandra Committee
3. ✘ Shri Dharma Vira Committee
4. ✘ Shri Homi Sethna Committee

Question Number : 48 Question Id : 59445932464 Question Type : MCQ Option Shuffling : Yes Is Question Mandatory : No Option Orientation : Vertical

Correct Marks : 1 Wrong Marks : 0.25

निम्नलिखित में से किस समिति की सिफारिशों के कारण नाबार्ड का गठन हुआ?

Options :

1. ✔ श्री बी शिवरामन समिति
2. ✘ श्री नरेश चंद्र समिति
3. ✘ श्री धर्म विरा समिति
4. ✘ श्री होमी सेठना समिति

Question Number : 49 Question Id : 59445932465 Question Type : MCQ Option Shuffling : Yes Is Question Mandatory : No Option Orientation : Vertical

Correct Marks : 1 Wrong Marks : 0.25

What amount of fund allocation has been announced in the Union Budget 2020-21 for education sector?

Options :

1. ✘ Rs. 90,200 crore
2. ✘ Rs. 95,600 crore
3. ✔ Rs. 99,300 crore
4. ✘ Rs. 110,800 crore

Question Number : 49 Question Id : 59445932465 Question Type : MCQ Option Shuffling : Yes Is Question Mandatory : No Option Orientation : Vertical

Correct Marks : 1 Wrong Marks : 0.25

शिक्षा क्षेत्र के लिए केंद्रीय बजट 2020-21 में कितने धन आवंटन की घोषणा की गई है?

Options :

1. ✘ 90,200 करोड़ रूपये
2. ✘ 95,600 करोड़ रूपये
3. ✔ 99,300 करोड़ रूपये
4. ✘ 110,800 करोड़ रूपये

Question Number : 50 Question Id : 59445932466 Question Type : MCQ Option Shuffling : Yes Is Question Mandatory : No Option Orientation : Vertical

Correct Marks : 1 Wrong Marks : 0.25

How many more airports will be developed by 2024 for the Udaan scheme as per the Union Budget 2020-21?

Options :

1. ✘ 50
2. ✘ 75
3. ✔ 100
4. ✘ 120

Question Number : 50 Question Id : 59445932466 Question Type : MCQ Option Shuffling : Yes Is Question Mandatory : No Option Orientation : Vertical

Correct Marks : 1 Wrong Marks : 0.25

2024 तक उड़ान योजना के अंतर्गत कितने और हवाई-अड्डे तैयार किये जायेंगे?

Options :

1. ✘ 50

2. ✘ 75
3. ✔ 100
4. ✘ 120

Question Number : 51 Question Id : 59445932467 Question Type : MCQ Option Shuffling : Yes Is Question Mandatory : No Option Orientation : Vertical

Correct Marks : 1 Wrong Marks : 0.25

Which of the following elements has zero valency?

Options :

1. ✘ Lithium
2. ✘ Beryllium
3. ✘ Fluorine
4. ✔ Helium

Question Number : 51 Question Id : 59445932467 Question Type : MCQ Option Shuffling : Yes Is Question Mandatory : No Option Orientation : Vertical

Correct Marks : 1 Wrong Marks : 0.25

निम्नलिखित में से कौन-से तत्व में संयोजकता 0 है?

Options :

1. ✘ लिथियम
2. ✘ बेरिलियम
3. ✘ फ्लोरीन
4. ✔ हीलियम

Question Number : 52 Question Id : 59445932468 Question Type : MCQ Option Shuffling : Yes Is Question Mandatory : No Option Orientation : Vertical

Correct Marks : 1 Wrong Marks : 0.25

Which of the following is present in chalk?

Options :

1. ✘ Sodium Chloride
2. ✔ Calcium Carbonate

3. ✘ Potassium Nitrate
4. ✘ Sodium Hydroxide

Question Number : 52 Question Id : 59445932468 Question Type : MCQ Option Shuffling : Yes Is Question Mandatory : No Option Orientation : Vertical

Correct Marks : 1 Wrong Marks : 0.25

निम्नलिखित में से चाक में क्या उपस्थित है?

Options :

1. ✘ सोडियम क्लोराइड
2. ✔ कैल्शियम कार्बोनेट
3. ✘ पोटैशियम नाइट्रेट
4. ✘ सोडियम हाइड्रोक्साइड

Question Number : 53 Question Id : 59445932469 Question Type : MCQ Option Shuffling : Yes Is Question Mandatory : No Option Orientation : Vertical

Correct Marks : 1 Wrong Marks : 0.25

Which of the following foods has the highest percentage of proteins per unit mass?

Options :

1. ✘ Cow-milk
2. ✘ Egg
3. ✔ Meat
4. ✘ Fish

Question Number : 53 Question Id : 59445932469 Question Type : MCQ Option Shuffling : Yes Is Question Mandatory : No Option Orientation : Vertical

Correct Marks : 1 Wrong Marks : 0.25

निम्नलिखित में से किस खाद्य पदार्थ में प्रति इकाई द्रव्यमान में प्रोटीन की सबसे अधिक प्रतिशतता है?

Options :

1. ✘ गाय का दूध
2. ✘ अंडे
3. ✔ मांस

4. ✖ मछली

Question Number : 54 Question Id : 59445932470 Question Type : MCQ Option Shuffling : Yes Is Question Mandatory : No Option Orientation : Vertical

Correct Marks : 1 Wrong Marks : 0.25

Which of the following organism-classification does Anabaena belong to?

Options :

1. ✔ Monera
2. ✖ Protista
3. ✖ Fungi
4. ✖ Plantae

Question Number : 54 Question Id : 59445932470 Question Type : MCQ Option Shuffling : Yes Is Question Mandatory : No Option Orientation : Vertical

Correct Marks : 1 Wrong Marks : 0.25

निम्नलिखित में से कौन सा जीव-वर्गीकरण एनाबीना से संबंधित है?

Options :

1. ✔ मोनेरा
2. ✖ प्रोटिस्टा
3. ✖ कवक
4. ✖ प्लांटी

Question Number : 55 Question Id : 59445932471 Question Type : MCQ Option Shuffling : Yes Is Question Mandatory : No Option Orientation : Vertical

Correct Marks : 1 Wrong Marks : 0.25

What is the absorption of water by plant roots an example of?

Options :

1. ✖ Photosynthesis
2. ✔ Osmosis
3. ✖ Transplantation
4. ✖ Endocytosis

Question Number : 55 Question Id : 59445932471 Question Type : MCQ Option Shuffling : Yes Is Question Mandatory : No Option Orientation : Vertical

Correct Marks : 1 Wrong Marks : 0.25

पौधों की जड़ों द्वारा जल का अवशोषण निम्नलिखित में से किसका उदाहरण है?

Options :

1. ✘ संश्लेषण
2. ✔ परासरण
3. ✘ प्रतिरोपण
4. ✘ एंडोसाईटोसीस

Question Number : 56 Question Id : 59445932472 Question Type : MCQ Option Shuffling : Yes Is Question Mandatory : No Option Orientation : Vertical

Correct Marks : 1 Wrong Marks : 0.25

What is the population density of India as per the Census 2011 (in per square km)?

Options :

1. ✔ 382
2. ✘ 395
3. ✘ 402
4. ✘ 415

Question Number : 56 Question Id : 59445932472 Question Type : MCQ Option Shuffling : Yes Is Question Mandatory : No Option Orientation : Vertical

Correct Marks : 1 Wrong Marks : 0.25

जनगणना 2011 (प्रति वर्ग किमी में) के अनुसार भारत का जनसंख्या घनत्व कितना है?

Options :

1. ✔ 382
2. ✘ 395
3. ✘ 402
4. ✘ 415

Question Number : 57 Question Id : 59445932473 Question Type : MCQ Option Shuffling : Yes Is Question Mandatory : No Option Orientation : Vertical

Correct Marks : 1 Wrong Marks : 0.25

Which of the following rivers has the longest length?

Options :

1. ✘ Krishna
2. ✘ Narmada
3. ✔ Godavari
4. ✘ Kaveri

Question Number : 57 Question Id : 59445932473 Question Type : MCQ Option Shuffling : Yes Is Question Mandatory : No Option Orientation : Vertical

Correct Marks : 1 Wrong Marks : 0.25

निम्नलिखित में से किस नदी की लंबाई सबसे अधिक है?

Options :

1. ✘ कृष्णा
2. ✘ नर्मदा
3. ✔ गोदावरी
4. ✘ कावेरी

Question Number : 58 Question Id : 59445932474 Question Type : MCQ Option Shuffling : Yes Is Question Mandatory : No Option Orientation : Vertical

Correct Marks : 1 Wrong Marks : 0.25

How many distinct floristic-regions can India be divided into?

Options :

1. ✘ 5
2. ✘ 6
3. ✘ 7
4. ✔ 8

Question Number : 58 Question Id : 59445932474 Question Type : MCQ Option Shuffling : Yes Is Question Mandatory : No Option Orientation : Vertical

Correct Marks : 1 Wrong Marks : 0.25

भारत को कितने वनस्पति क्षेत्रों में बांटा जा सकता है?

Options :

1. ✘ 5
2. ✘ 6
3. ✘ 7
4. ✔ 8

Question Number : 59 Question Id : 59445932475 Question Type : MCQ Option Shuffling : Yes Is Question Mandatory : No Option Orientation : Vertical

Correct Marks : 1 Wrong Marks : 0.25

Which of the following is also known as the winter-monsoon?

Options :

1. ✘ South-east monsoon
2. ✘ South-west monsoon
3. ✔ North-east monsoon
4. ✘ North-west monsoon

Question Number : 59 Question Id : 59445932475 Question Type : MCQ Option Shuffling : Yes Is Question Mandatory : No Option Orientation : Vertical

Correct Marks : 1 Wrong Marks : 0.25

निम्नलिखित में से किसे शीतकालीन-मानसून के रूप में भी जाना जाता है?

Options :

1. ✘ दक्षिण-पूर्व मानसून
2. ✘ दक्षिण-पश्चिम मानसून
3. ✔ पूर्वोत्तर मानसून
4. ✘ उत्तर-पश्चिम मानसून

Question Number : 60 Question Id : 59445932476 Question Type : MCQ Option Shuffling : Yes Is Question Mandatory : No Option Orientation : Vertical

Correct Marks : 1 Wrong Marks : 0.25

In which year's session of the Indian National Congress was Vande Mataram sang for the first time?

Options :

1. ✓ 1896
2. ✗ 1897
3. ✗ 1898
4. ✗ 1899

Question Number : 60 Question Id : 59445932476 Question Type : MCQ Option Shuffling : Yes Is Question Mandatory : No Option Orientation : Vertical

Correct Marks : 1 Wrong Marks : 0.25

भारतीय राष्ट्रीय कांग्रेस के किस वर्ष के सत्र में वंदे मातरम पहली बार गाया गया था?

Options :

1. ✓ 1896
2. ✗ 1897
3. ✗ 1898
4. ✗ 1899

General Awareness2

Group Number :	4
Group Id :	594459419
Group Maximum Duration :	0
Group Minimum Duration :	0
Show Attended Group? :	No
Edit Attended Group? :	No
Break time :	0
Group Marks :	20
Is this Group for Examiner? :	No

General Awareness2

Section Id : 5944591141

Section Number :	1
Section type :	Online
Mandatory or Optional :	Mandatory
Number of Questions :	20
Number of Questions to be attempted :	20
Section Marks :	20
Enable Mark as Answered Mark for Review and Clear Response :	Yes
Sub-Section Number :	1
Sub-Section Id :	5944591308
Question Shuffling Allowed :	Yes

Question Number : 61 Question Id : 59445932477 Question Type : MCQ Option Shuffling : Yes Is Question Mandatory : No Option Orientation : Vertical

Correct Marks : 1 Wrong Marks : 0.25

In which of the following cities was the Sangam assemblies held?

Options :

1. ✓ Madurai
2. ✗ Thiruvarur
3. ✗ Thiruvallur
4. ✗ Nagapattinam

Question Number : 61 Question Id : 59445932477 Question Type : MCQ Option Shuffling : Yes Is Question Mandatory : No Option Orientation : Vertical

Correct Marks : 1 Wrong Marks : 0.25

निम्नलिखित में से किस शहर में संगम की सभाएँ आयोजित की गई थीं?

Options :

1. ✓ मदुरै
2. ✗ तिरुवरुर
3. ✗ थिरुवल्लूर
4. ✗ नागापट्टिनम

Question Number : 62 Question Id : 59445932478 Question Type : MCQ Option Shuffling : Yes Is Question Mandatory : No Option

Orientation : Vertical

Correct Marks : 1 Wrong Marks : 0.25

In which of the following languages were the Mangalkavyas written?

Options :

1. ✘ Hindi
2. ✘ Braj
3. ✔ Bengali
4. ✘ Pali

Question Number : 62 Question Id : 59445932478 Question Type : MCQ Option Shuffling : Yes Is Question Mandatory : No Option

Orientation : Vertical

Correct Marks : 1 Wrong Marks : 0.25

मंगलवाक्य निम्नलिखित में से किस भाषा में लिखे गए थे?

Options :

1. ✘ हिंदी
2. ✘ ब्रज
3. ✔ बंगाली
4. ✘ पाली

Question Number : 63 Question Id : 59445932479 Question Type : MCQ Option Shuffling : Yes Is Question Mandatory : No Option

Orientation : Vertical

Correct Marks : 1 Wrong Marks : 0.25

In which year did Timur captured Delhi?

Options :

1. ✔ 1398
2. ✘ 1405
3. ✘ 1409
4. ✘ 1414

Question Number : 63 Question Id : 59445932479 Question Type : MCQ Option Shuffling : Yes Is Question Mandatory : No Option

Orientation : Vertical

Correct Marks : 1 Wrong Marks : 0.25

तैमूर ने दिल्ली पर किस वर्ष कब्जा किया था?

Options :

1. ✓ 1398
2. ✗ 1405
3. ✗ 1409
4. ✗ 1414

Question Number : 64 Question Id : 59445932480 Question Type : MCQ Option Shuffling : Yes Is Question Mandatory : No Option Orientation : Vertical

Correct Marks : 1 Wrong Marks : 0.25

On which of the following days is the Padma Awards announced?

Options :

1. ✓ On the eve of the Republic Day
2. ✗ On the eve of the Independence Day
3. ✗ On Shaheed Diwas
4. ✗ On the Independence Day

Question Number : 64 Question Id : 59445932480 Question Type : MCQ Option Shuffling : Yes Is Question Mandatory : No Option Orientation : Vertical

Correct Marks : 1 Wrong Marks : 0.25

पद्म पुरस्कारों की घोषणा निम्नलिखित में से किस दिन की जाती है?

Options :

1. ✓ गणतंत्र दिवस की पूर्व संध्या में
2. ✗ स्वतंत्रता दिवस की पूर्व संध्या में
3. ✗ शहीद दिवस पर
4. ✗ स्वतन्त्रता दिवस में

Question Number : 65 Question Id : 59445932481 Question Type : MCQ Option Shuffling : Yes Is Question Mandatory : No Option Orientation : Vertical

Correct Marks : 1 Wrong Marks : 0.25

Who out of the following had served as the first Indian Commander-in-Chief of the Indian Army?

Options :

1. ✘ General Maharaj Rajendra Sinhji
2. ✔ General K.M. Cariappa
3. ✘ General Sam Manekshaw
4. ✘ General Arjan Singh

Question Number : 65 Question Id : 59445932481 Question Type : MCQ Option Shuffling : Yes Is Question Mandatory : No Option Orientation : Vertical

Correct Marks : 1 Wrong Marks : 0.25

निम्नलिखित में से किसने भारतीय सेना के प्रथम भारतीय कमांडर-इन-चीफ के रूप में कार्य किया था?

Options :

1. ✘ जनरल महाराज राजेंद्र सिंहजी
2. ✔ जनरल के.एम. करियप्पा
3. ✘ जनरल सैम मानेकशॉ
4. ✘ जनरल अर्जन सिंह

Question Number : 66 Question Id : 59445932482 Question Type : MCQ Option Shuffling : Yes Is Question Mandatory : No Option Orientation : Vertical

Correct Marks : 1 Wrong Marks : 0.25

Who is the author of the book "The God of Small Things"?

Options :

1. ✔ Arundhati Roy
2. ✘ Jhumpa Lahiri
3. ✘ Karan Thapar
4. ✘ Arvind Adiga

Question Number : 66 Question Id : 59445932482 Question Type : MCQ Option Shuffling : Yes Is Question Mandatory : No Option Orientation : Vertical

Correct Marks : 1 Wrong Marks : 0.25

द गॉड ऑफ स्मॉल थिंग्स पुस्तक के लेखक कौन हैं?

Options :

1. ✓ अरुंधती राँय
2. ✗ झुम्पा लाहिरी
3. ✗ करण थापर
4. ✗ अरविन्द अडिगा

Question Number : 67 Question Id : 59445932483 Question Type : MCQ Option Shuffling : Yes Is Question Mandatory : No Option Orientation : Vertical

Correct Marks : 1 Wrong Marks : 0.25

Who is the CEO of Twitter?

Options :

1. ✗ Noah Glass
2. ✓ Jack Dorsey
3. ✗ Evan Williams
4. ✗ Paul Singer

Question Number : 67 Question Id : 59445932483 Question Type : MCQ Option Shuffling : Yes Is Question Mandatory : No Option Orientation : Vertical

Correct Marks : 1 Wrong Marks : 0.25

ट्विटर के सीईओ कौन हैं?

Options :

1. ✗ नोआ ग्लास
2. ✓ जैक डोरसी
3. ✗ इवान विलियम्स
4. ✗ पॉल सिंगर

Question Number : 68 Question Id : 59445932484 Question Type : MCQ Option Shuffling : Yes Is Question Mandatory : No Option Orientation : Vertical

Correct Marks : 1 Wrong Marks : 0.25

What is Mukesh Ambani's rank in the latest world billionaires list by Forbes?

Options :

1. ✗ 15

2. ✘ 16
3. ✔ 17
4. ✘ 18

Question Number : 68 Question Id : 59445932484 Question Type : MCQ Option Shuffling : Yes Is Question Mandatory : No Option Orientation : Vertical

Correct Marks : 1 Wrong Marks : 0.25

फोर्ब्स द्वारा नवीनतम विश्व अरबपतियों की सूची में मुकेश अंबानी की रैंक क्या है?

Options :

1. ✘ 15
2. ✘ 16
3. ✔ 17
4. ✘ 18

Question Number : 69 Question Id : 59445932485 Question Type : MCQ Option Shuffling : Yes Is Question Mandatory : No Option Orientation : Vertical

Correct Marks : 1 Wrong Marks : 0.25

Which of the following days was observed as the Women's Day in 2020?

Options :

1. ✘ March 5th
2. ✘ March 6th
3. ✘ March 7th
4. ✔ March 8th

Question Number : 69 Question Id : 59445932485 Question Type : MCQ Option Shuffling : Yes Is Question Mandatory : No Option Orientation : Vertical

Correct Marks : 1 Wrong Marks : 0.25

निम्नलिखित में से किस दिन को 2020 में महिला दिवस के रूप में मनाया गया?

Options :

1. ✘ 5 मार्च
2. ✘ 6 मार्च

3. ✘ 7 मार्च

4. ✔ 8 मार्च

Question Number : 70 Question Id : 59445932486 Question Type : MCQ Option Shuffling : Yes Is Question Mandatory : No Option Orientation : Vertical

Correct Marks : 1 Wrong Marks : 0.25

Which of the following states has become the first to geotag community kitchens?

Options :

1. ✘ Gujarat

2. ✘ Maharashtra

3. ✔ Uttar Pradesh

4. ✘ Madhya Pradesh

Question Number : 70 Question Id : 59445932486 Question Type : MCQ Option Shuffling : Yes Is Question Mandatory : No Option Orientation : Vertical

Correct Marks : 1 Wrong Marks : 0.25

निम्नलिखित में से कौन सा राज्य सामुदायिक रसोईयों को जियोटैग करने वाला प्रथम राज्य बन गया है?

Options :

1. ✘ गुजरात

2. ✘ महाराष्ट्र

3. ✔ उत्तर प्रदेश

4. ✘ मध्यप्रदेश

Question Number : 71 Question Id : 59445932487 Question Type : MCQ Option Shuffling : Yes Is Question Mandatory : No Option Orientation : Vertical

Correct Marks : 1 Wrong Marks : 0.25

Which of the following space agencies are involved in the Crew Demo-2 mission?

Options :

1. ✔ NASA and SpaceX

2. ✘ SpaceX and ESA

3. ✘ NASA and ESA

4. ✖ JAXA and NASA

Question Number : 71 Question Id : 59445932487 Question Type : MCQ Option Shuffling : Yes Is Question Mandatory : No Option Orientation : Vertical

Correct Marks : 1 Wrong Marks : 0.25

कू डेमो -2 मिशन से निम्नलिखित में से कौन सी अंतरिक्ष एजेंसी जुड़ी है?

Options :

1. ✔ नासा और स्पेसएक्स
2. ✖ स्पेसएक्स और ईएसए
3. ✖ नासा और ईएसए
4. ✖ जाक्सा और नासा

Question Number : 72 Question Id : 59445932488 Question Type : MCQ Option Shuffling : Yes Is Question Mandatory : No Option Orientation : Vertical

Correct Marks : 1 Wrong Marks : 0.25

Which of the following state governments had launched the "Assess Karo Na" app for fighting COVID-19?

Options :

1. ✖ Gujarat
2. ✖ Maharashtra
3. ✔ Delhi
4. ✖ Rajasthan

Question Number : 72 Question Id : 59445932488 Question Type : MCQ Option Shuffling : Yes Is Question Mandatory : No Option Orientation : Vertical

Correct Marks : 1 Wrong Marks : 0.25

निम्नलिखित में से किस राज्य सरकार ने कोविड-19 से लड़ने के लिए "मूल्यांकन करो ना" ऐप लॉन्च किया था?

Options :

1. ✖ गुजरात
2. ✖ महाराष्ट्र
3. ✔ दिल्ली
4. ✖ राजस्थान

Question Number : 73 Question Id : 59445932489 Question Type : MCQ Option Shuffling : Yes Is Question Mandatory : No Option Orientation : Vertical

Correct Marks : 1 Wrong Marks : 0.25

Which of the following articles of the Indian Constitution empowers each House of the Parliament to make rules for regulations, subject to the provisions of this Constitution, its procedure and the conduct of its business?

Options :

1. ✓ Article 118(1)
2. ✗ Article 118(2)
3. ✗ Article 118(3)
4. ✗ Article 118(4)

Question Number : 73 Question Id : 59445932489 Question Type : MCQ Option Shuffling : Yes Is Question Mandatory : No Option Orientation : Vertical

Correct Marks : 1 Wrong Marks : 0.25

निम्नलिखित में से भारतीय संविधान का कौनसा अनुच्छेद संसद की प्रत्येक सभा को अपनी प्रक्रिया और अपने कार्य संचालन को विनियमित करने के लिए नियम बनाने की शक्ति प्रदान करता है?

Options :

1. ✓ अनुच्छेद 118 (1)
2. ✗ अनुच्छेद 118 (2)
3. ✗ अनुच्छेद 118 (3)
4. ✗ अनुच्छेद 118 (4)

Question Number : 74 Question Id : 59445932490 Question Type : MCQ Option Shuffling : Yes Is Question Mandatory : No Option Orientation : Vertical

Correct Marks : 1 Wrong Marks : 0.25

In which year was the Fazl Ali Commission appointed?

Options :

1. ✗ 1951
2. ✗ 1952
3. ✓ 1953
4. ✗ 1954

Question Number : 74 Question Id : 59445932490 Question Type : MCQ Option Shuffling : Yes Is Question Mandatory : No Option Orientation : Vertical

Correct Marks : 1 Wrong Marks : 0.25

फजल अली आयोग की नियुक्ति किस वर्ष की गई थी?

Options :

1. ✘ 1951
2. ✘ 1952
3. ✔ 1953
4. ✘ 1954

Question Number : 75 Question Id : 59445932491 Question Type : MCQ Option Shuffling : Yes Is Question Mandatory : No Option Orientation : Vertical

Correct Marks : 1 Wrong Marks : 0.25

In which of the following countries did the concept of Public Interest Litigation originate?

Options :

1. ✘ Russia
2. ✘ Canada
3. ✔ USA
4. ✘ Ireland

Question Number : 75 Question Id : 59445932491 Question Type : MCQ Option Shuffling : Yes Is Question Mandatory : No Option Orientation : Vertical

Correct Marks : 1 Wrong Marks : 0.25

निम्नलिखित में से किस देश में जनहित याचिका की अवधारणा उत्पन्न हुई थी?

Options :

1. ✘ रूस
2. ✘ कनाडा
3. ✔ संयुक्त राज्य अमेरिका
4. ✘ आयरलैंड

Question Number : 76 Question Id : 59445932492 Question Type : MCQ Option Shuffling : Yes Is Question Mandatory : No Option Orientation : Vertical

Correct Marks : 1 Wrong Marks : 0.25

Which of the following constitutional amendment had replaced the Collegium System of appointing judges to the Supreme Court and High Courts with the National Judicial Appointments Commission (NJAC)?

Options :

1. ✘ 96th
2. ✘ 97th
3. ✘ 98th
4. ✔ 99th

Question Number : 76 Question Id : 59445932492 Question Type : MCQ Option Shuffling : Yes Is Question Mandatory : No Option Orientation : Vertical

Correct Marks : 1 Wrong Marks : 0.25

निम्नलिखित में से कौनसा संविधान संशोधन अधिनियम द्वारा सर्वोच्च न्यायालय और उच्च न्यायालयों में न्यायाधीशों की नियुक्ति के लिए कार्यरत कॉलेजियम सिस्टम को एक नए राष्ट्रीय न्यायिक आयुक्ति आयोग (NJAC) से प्रतिस्थापित किया गया?

Options :

1. ✘ 96-वां
2. ✘ 97-वां
3. ✘ 98-वां
4. ✔ 99-वां

Question Number : 77 Question Id : 59445932493 Question Type : MCQ Option Shuffling : Yes Is Question Mandatory : No Option Orientation : Vertical

Correct Marks : 1 Wrong Marks : 0.25

Which of the following teams has won the Pro Kabaddi League 2019?

Options :

1. ✘ U Mumba
2. ✘ Dabang Delhi K. C.
3. ✘ Bengaluru Bulls
4. ✔ Bengal Warriors

Question Number : 77 Question Id : 59445932493 Question Type : MCQ Option Shuffling : Yes Is Question Mandatory : No Option Orientation : Vertical

Correct Marks : 1 Wrong Marks : 0.25

निम्नलिखित में से किस टीम ने प्रो कबड्डी लीग 2019 जीता है?

Options :

1. ✘ यु मुम्बा
2. ✘ दबंग दिल्ली के. सी.
3. ✘ बेंगलुरु बुल्स
4. ✔ बेंगल वारियर्स

Question Number : 78 Question Id : 59445932494 Question Type : MCQ Option Shuffling : Yes Is Question Mandatory : No Option Orientation : Vertical

Correct Marks : 1 Wrong Marks : 0.25

With which of the following games was Prakash Amritraj associated?

Options :

1. ✘ Golf
2. ✔ Tennis
3. ✘ Badminton
4. ✘ Football

Question Number : 78 Question Id : 59445932494 Question Type : MCQ Option Shuffling : Yes Is Question Mandatory : No Option Orientation : Vertical

Correct Marks : 1 Wrong Marks : 0.25

प्रकाश अमृतराज का संबंध निम्नलिखित में से किस खेल से था?

Options :

1. ✘ गोल्फ
2. ✔ टेनिस
3. ✘ बैडमिंटन
4. ✘ फुटबॉल

Question Number : 79 Question Id : 59445932495 Question Type : MCQ Option Shuffling : Yes Is Question Mandatory : No Option Orientation : Vertical

Correct Marks : 1 Wrong Marks : 0.25

Who out of the following doesn't feature among the Wisden Five Cricketers of the Year by the 2020 edition of the Wisden Almanack?

Options :

1. ✘ Pat Cummins
2. ✘ Marnus Labuschagne
3. ✔ Rohit Sharma
4. ✘ Jofra Archer

Question Number : 79 Question Id : 59445932495 Question Type : MCQ Option Shuffling : Yes Is Question Mandatory : No Option Orientation : Vertical

Correct Marks : 1 Wrong Marks : 0.25

विजडन एल्मनैक के 2020 संस्करण द्वारा 'विजडन फाइव क्रिकेटर्स ऑफ़ द ईयर' में निम्नलिखित में से कौन शामिल नहीं है?

Options :

1. ✘ पैट कमिंस
2. ✘ मार्नस लबूसचग्ने
3. ✔ रोहित शर्मा
4. ✘ जोफ्रा आर्चर

Question Number : 80 Question Id : 59445932496 Question Type : MCQ Option Shuffling : Yes Is Question Mandatory : No Option Orientation : Vertical

Correct Marks : 1 Wrong Marks : 0.25

Which of the following teams did Pele play for?

Options :

1. ✘ Argentina
2. ✔ Brazil
3. ✘ Spain
4. ✘ Portugal

Question Number : 80 Question Id : 59445932496 Question Type : MCQ Option Shuffling : Yes Is Question Mandatory : No Option Orientation : Vertical

Correct Marks : 1 Wrong Marks : 0.25

निम्नलिखित में से कौन सी टीम के लिए पेले खेलते थे?

Options :

1. ✘ अर्जेंटीना
2. ✔ ब्राज़ील
3. ✘ स्पेन
4. ✘ पुर्तगाल

Arithmetic Ability1

Group Number :	5
Group Id :	594459420
Group Maximum Duration :	0
Group Minimum Duration :	0
Show Attended Group? :	No
Edit Attended Group? :	No
Break time :	0
Group Marks :	20
Is this Group for Examiner? :	No

Arithmetical and Numerical ability1

Section Id :	5944591142
Section Number :	1
Section type :	Online
Mandatory or Optional :	Mandatory
Number of Questions :	20
Number of Questions to be attempted :	20
Section Marks :	20
Enable Mark as Answered Mark for Review and Clear Response :	Yes
Sub-Section Number :	1
Sub-Section Id :	5944591309
Question Shuffling Allowed :	Yes

Question Number : 81 Question Id : 59445932497 Question Type : MCQ Option Shuffling : Yes Is Question Mandatory : No Option Orientation : Vertical

Correct Marks : 1 Wrong Marks : 0.25

David, John and Johny start at the same time in the same direction to run around a circular stadium. David completes a round in 126 seconds, John in 154 seconds and Johny in 198 seconds, all starting at the same point. After how much time will they again at the starting point?

Options :

1. ✓ 23 minutes 6 seconds
2. ✗ 27 minutes 8 seconds
3. ✗ 20 minutes 16 seconds
4. ✗ 19 minutes 22 seconds

Question Number : 81 Question Id : 59445932497 Question Type : MCQ Option Shuffling : Yes Is Question Mandatory : No Option Orientation : Vertical

Correct Marks : 1 Wrong Marks : 0.25

डेविड, जॉन और जॉनी एक ही समय पर एक ही दिशा में एक गोलाकार स्टेडियम के चारों ओर दौड़ना शुरू करते हैं। डेविड ने 126 सेकंड में, जॉन ने 154 सेकंड में और जॉनी ने 198 सेकंड में एक चक्कर पूरा किया। कितने समय के बाद वे फिर से शुरुआती बिंदु पर होंगे?

Options :

1. ✓ 23 मिनट 6 सेकंड
2. ✗ 27 मिनट 8 सेकंड
3. ✗ 20 मिनट 16 सेकंड
4. ✗ 19 मिनट 22 सेकंड

Question Number : 82 Question Id : 59445932498 Question Type : MCQ Option Shuffling : Yes Is Question Mandatory : No Option Orientation : Vertical

Correct Marks : 1 Wrong Marks : 0.25

Simplify the following expression by using BODMAS.

$$17+[2-\{(-8)+3+(18\times 3+1-13\times 3)\}]$$

Options :

1. ✗ 16
2. ✗ -16

3. ✓ 8

4. ✗ -8

Question Number : 82 Question Id : 59445932498 Question Type : MCQ Option Shuffling : Yes Is Question Mandatory : No Option Orientation : Vertical

Correct Marks : 1 Wrong Marks : 0.25

निम्नलिखित समीकरण को BODMAS के उपयोग से सरल कीजिए।

$$17+[2-\{(-8)+3+(18\times 3+1-13\times 3)\}]$$

Options :

1. ✗ 16

2. ✗ -16

3. ✓ 8

4. ✗ -8

Question Number : 83 Question Id : 59445932499 Question Type : MCQ Option Shuffling : Yes Is Question Mandatory : No Option Orientation : Vertical

Correct Marks : 1 Wrong Marks : 0.25

Find the smallest fraction from the following.

$$2\frac{7}{13}, 5\frac{1}{40}, 2\frac{1}{63}, 3\frac{1}{12}$$

Options :

1. ✗ $2\frac{7}{13}$

2. ✗ $5\frac{1}{40}$

3. ✓ $2\frac{1}{63}$

4. ✘ $3\frac{1}{12}$

Question Number : 83 Question Id : 59445932499 Question Type : MCQ Option Shuffling : Yes Is Question Mandatory : No Option Orientation : Vertical

Correct Marks : 1 Wrong Marks : 0.25

निम्नलिखित में से सबसे छोटा भिन्न ज्ञात कीजिए।

$2\frac{7}{13}, 5\frac{1}{40}, 2\frac{1}{63}, 3\frac{1}{12}$

Options :

1. ✘ $2\frac{7}{13}$

2. ✘ $5\frac{1}{40}$

3. ✔ $2\frac{1}{63}$

4. ✘ $3\frac{1}{12}$

Question Number : 84 Question Id : 59445932500 Question Type : MCQ Option Shuffling : Yes Is Question Mandatory : No Option Orientation : Vertical

Correct Marks : 1 Wrong Marks : 0.25

57984372 is exactly divisible by which of the following?

Options :

1. ✘ 7

2. ✘ 24

3. ✖ 14

4. ✔ 18

Question Number : 84 Question Id : 59445932500 Question Type : MCQ Option Shuffling : Yes Is Question Mandatory : No Option Orientation : Vertical

Correct Marks : 1 Wrong Marks : 0.25

57984372 निम्नलिखित में से किससे पूर्णतः विभाज्य है?

Options :

1. ✖ 7

2. ✖ 24

3. ✖ 14

4. ✔ 18

Question Number : 85 Question Id : 59445932501 Question Type : MCQ Option Shuffling : Yes Is Question Mandatory : No Option Orientation : Vertical

Correct Marks : 1 Wrong Marks : 0.25

Find the value of $\frac{625^{6.25} \times 25^{2.6}}{625^{6.75} \times 5^{1.2}}$.

Options :

1. ✖ 1

2. ✖ 5

3. ✔ 25

4. ✖ 125

Question Number : 85 Question Id : 59445932501 Question Type : MCQ Option Shuffling : Yes Is Question Mandatory : No Option Orientation : Vertical

Correct Marks : 1 Wrong Marks : 0.25

$\frac{625^{6.25} \times 25^{2.6}}{625^{6.75} \times 5^{1.2}}$ का मान ज्ञात कीजिए।

Options :

1. ✖ 1

2. ✘ 5
3. ✔ 25
4. ✘ 125

Question Number : 86 Question Id : 59445932502 Question Type : MCQ Option Shuffling : Yes Is Question Mandatory : No Option Orientation : Vertical

Correct Marks : 1 Wrong Marks : 0.25

The average age of 11 players of a cricket team is decreased by 2 months when two of them aged 17 years and 20 years are replaced by two new players. What is the average age of two new players?

Options :

1. ✘ 17 years 1 month
2. ✔ 17 years 7 months
3. ✘ 17 years 11 months
4. ✘ 18 years 3 months

Question Number : 86 Question Id : 59445932502 Question Type : MCQ Option Shuffling : Yes Is Question Mandatory : No Option Orientation : Vertical

Correct Marks : 1 Wrong Marks : 0.25

एक क्रिकेट टीम के 11 खिलाड़ियों में से 17 वर्ष तथा 20 वर्ष की आयु के दो खिलाड़ियों के स्थान पर दो नये खिलाड़ियों के आने से इनकी औसत आयु 2 महीने कम हो गई। दो नये खिलाड़ियों की औसत आयु कितनी है?

Options :

1. ✘ 17 वर्ष 1 महीना
2. ✔ 17 वर्ष 7 महीना
3. ✘ 17 वर्ष 11 महीना
4. ✘ 18 वर्ष 3 महीना

Question Number : 87 Question Id : 59445932503 Question Type : MCQ Option Shuffling : Yes Is Question Mandatory : No Option Orientation : Vertical

Correct Marks : 1 Wrong Marks : 0.25

The marked price of a mobile is Rs. 180. A person buy it in Rs. 137.7 after two successive discounts in which one is 10 percent, then find the other discount rate?

Options :

1. ✘ 12 percent
2. ✘ 12.5 percent
3. ✔ 15 percent
4. ✘ 20 percent

Question Number : 87 Question Id : 59445932503 Question Type : MCQ Option Shuffling : Yes Is Question Mandatory : No Option Orientation : Vertical

Correct Marks : 1 Wrong Marks : 0.25

एक मोबाइल का अंकित मूल्य 180 रूपये है। एक व्यक्ति इसे 10 प्रतिशत तथा एक अन्य क्रमिक छूट पर 137.7 रूपये में खरीदता है, तो दूसरी छूट दर ज्ञात कीजिए।

Options :

1. ✘ 12 प्रतिशत
2. ✘ 12.5 प्रतिशत
3. ✔ 15 प्रतिशत
4. ✘ 20 प्रतिशत

Question Number : 88 Question Id : 59445932504 Question Type : MCQ Option Shuffling : Yes Is Question Mandatory : No Option Orientation : Vertical

Correct Marks : 1 Wrong Marks : 0.25

The average marks of 12 students in a paper are 46. If the marks of two new students are consider, the average marks increases by 4. What are the average marks of two new students?

Options :

1. ✘ 78
2. ✘ 66
3. ✔ 74
4. ✘ 70

Question Number : 88 Question Id : 59445932504 Question Type : MCQ Option Shuffling : Yes Is Question Mandatory : No Option Orientation : Vertical

Correct Marks : 1 Wrong Marks : 0.25

एक पेपर में 12 छात्रों के औसत अंक 46 हैं। यदि दो नए छात्रों के अंकों को शामिल किया जाता है, तो औसत अंक 4 से बढ़ जाते हैं। दो नए छात्रों के औसत अंक क्या हैं?

Options :

1. ✖ 78
2. ✖ 66
3. ✔ 74
4. ✖ 70

Question Number : 89 Question Id : 59445932505 Question Type : MCQ Option Shuffling : Yes Is Question Mandatory : No Option Orientation : Vertical

Correct Marks : 1 Wrong Marks : 0.25

There are 48 workers and 2 managers in a company. The salary of one worker of them is twice the salary of another worker. If these 2 workers are replaced by 2 managers whose salaries are Rs. 32000 and Rs. 22000, the average salary of workers increases by Rs. 500. Find the total salary of replaced two workers.

Options :

1. ✖ Rs. 24000
2. ✔ Rs. 30000
3. ✖ Rs. 25000
4. ✖ Rs. 32000

Question Number : 89 Question Id : 59445932505 Question Type : MCQ Option Shuffling : Yes Is Question Mandatory : No Option Orientation : Vertical

Correct Marks : 1 Wrong Marks : 0.25

एक कंपनी में 48 श्रमिक और 2 प्रबंधक हैं। उनमें से एक श्रमिक का वेतन एक दूसरे श्रमिक के वेतन से दोगुना है। यदि इन 2 श्रमिकों को 2 प्रबंधकों द्वारा प्रतिस्थापित किया जाता है, जिनका वेतन 32000 रूपये और 22000 रूपये हैं, तो श्रमिकों का औसत वेतन 500 रूपये बढ़ जाता है। प्रतिस्थापित दो श्रमिकों का कुल वेतन ज्ञात कीजिए।

Options :

1. ✖ 24000 रूपये
2. ✔ 30000 रूपये
3. ✖ 25000 रूपये
4. ✖ 32000 रूपये

Question Number : 90 Question Id : 59445932506 Question Type : MCQ Option Shuffling : Yes Is Question Mandatory : No Option Orientation : Vertical

Correct Marks : 1 Wrong Marks : 0.25

Nine persons went to watching a movie. Eight of them spent Rs. 72 each for their tickets and the ninth spent Rs. 8 more than the average expenditure of all the nine. What was the total money spent by all of them?

Options :

1. ✓ Rs. 657
2. ✗ Rs. 712
3. ✗ Rs. 804
4. ✗ Rs. 613

Question Number : 90 Question Id : 59445932506 Question Type : MCQ Option Shuffling : Yes Is Question Mandatory : No Option Orientation : Vertical

Correct Marks : 1 Wrong Marks : 0.25

नौ व्यक्ति फिल्म देखने गए। उनमें से आठ ने अपने टिकटों के लिए प्रत्येक पर 72 रूपये खर्च किए और नौवें ने सभी नौ के औसत खर्च की तुलना में 8 रूपये अधिक खर्च किए। उन सभी द्वारा खर्च की गई कुल राशि कितनी थी ?

Options :

1. ✓ 657 रूपये
2. ✗ 712 रूपये
3. ✗ 804 रूपये
4. ✗ 613 रूपये

Question Number : 91 Question Id : 59445932507 Question Type : MCQ Option Shuffling : Yes Is Question Mandatory : No Option Orientation : Vertical

Correct Marks : 1 Wrong Marks : 0.25

In an election between two candidates A and B, A won by a majority of 4000 votes in 2002. In 2005 the number of voters increased by 25 percent, votes for B increased by 50 percent over that in 2002 and thus B won by a majority of 15000 votes. Find the votes polled for B in 2002.

Options :

1. ✗ 38500
2. ✗ 32000
3. ✗ 44000
4. ✓ 40000

Question Number : 91 Question Id : 59445932507 Question Type : MCQ Option Shuffling : Yes Is Question Mandatory : No Option

Orientation : Vertical

Correct Marks : 1 Wrong Marks : 0.25

दो उम्मीदवारों A और B के बीच एक चुनाव में, A ने 2002 में 4000 वोटों के बहुमत से जीत दर्ज की। 2005 में मतदाताओं की संख्या में 25 प्रतिशत की वृद्धि हुई, 2002 की तुलना में B के वोटों में 50 प्रतिशत की वृद्धि हुई और इस तरह B ने 15000 वोटों के बहुमत से जीत हासिल की। 2002 में B के लिए मतदान किये गए वोट ज्ञात कीजिए।

Options :

1. ✘ 38500
2. ✘ 32000
3. ✘ 44000
4. ✔ 40000

Question Number : 92 Question Id : 59445932508 Question Type : MCQ Option Shuffling : Yes Is Question Mandatory : No Option

Orientation : Vertical

Correct Marks : 1 Wrong Marks : 0.25

In a state X, income tax of 8 percent is levied on annual income in excess of Rs. 5 lakh and 10 percent of annual income in excess of Rs. 10 lakh. If a person pays a total tax of Rs. 120000, then find his annual income.

Options :

1. ✘ Rs. 16 lakh
2. ✘ Rs. 19 lakh
3. ✘ Rs. 17 lakh
4. ✔ Rs. 18 lakh

Question Number : 92 Question Id : 59445932508 Question Type : MCQ Option Shuffling : Yes Is Question Mandatory : No Option

Orientation : Vertical

Correct Marks : 1 Wrong Marks : 0.25

एक राज्य X में, 5 लाख रुपये से अधिक वार्षिक आय पर 8 प्रतिशत का आयकर और 10 लाख रुपये से अधिक वार्षिक आय पर 10 प्रतिशत का आयकर लगाया जाता है। यदि कोई व्यक्ति कुल 120000 रुपये का कर अदा करता है, तो उसकी वार्षिक आय ज्ञात कीजिए।

Options :

1. ✘ 16 लाख रुपये
2. ✘ 19 लाख रुपये
3. ✘ 17 लाख रुपये
4. ✔ 18 लाख रुपये

Question Number : 93 Question Id : 59445932509 Question Type : MCQ Option Shuffling : Yes Is Question Mandatory : No Option Orientation : Vertical

Correct Marks : 1 Wrong Marks : 0.25

In an election only two candidates contested, 20 percent of the voters did not cast their vote and 120 votes were declared invalid. The winner got 200 votes more than his opponent which he secured was 41 percent of the total votes on the voter list. Percentage of the votes of the defeated candidate out of the total votes cast is:

Options :

1. ✘ 38 percent
2. ✘ 37.5 percent
3. ✘ 36 percent
4. ✔ 45 percent

Question Number : 93 Question Id : 59445932509 Question Type : MCQ Option Shuffling : Yes Is Question Mandatory : No Option Orientation : Vertical

Correct Marks : 1 Wrong Marks : 0.25

एक चुनाव में केवल दो उम्मीदवार थे। 20 प्रतिशत मतदाताओं ने मत नहीं डाले और 120 मत अवैध घोषित किए गए। जीतने वाले उम्मीदवार ने दूसरे उम्मीदवार से 200 मत अधिक प्राप्त किए, जो मतदाता सूची के कुल मतों का 41 प्रतिशत था। हारने वाले उम्मीदवार को कुल डाले गए मतों का कितना प्रतिशत मत प्राप्त हुआ ?

Options :

1. ✘ 38 प्रतिशत
2. ✘ 37.5 प्रतिशत
3. ✘ 36 प्रतिशत
4. ✔ 45 प्रतिशत

Question Number : 94 Question Id : 59445932510 Question Type : MCQ Option Shuffling : Yes Is Question Mandatory : No Option Orientation : Vertical

Correct Marks : 1 Wrong Marks : 0.25

The marked price of an article is 40 percent more than its cost price. The shopkeeper gives a discount of 28.57 percent on marked price. On request, he gives another discount that was equal to 12.5 percent of the cost price. What was the approximate loss percent of shopkeeper?

Options :

1. ✘ 10.5 percent
2. ✔ 12.5 percent

3. ✖ 15 percent

4. ✖ 8 percent

Question Number : 94 Question Id : 59445932510 Question Type : MCQ Option Shuffling : Yes Is Question Mandatory : No Option Orientation : Vertical

Correct Marks : 1 Wrong Marks : 0.25

एक वस्तु का अंकित मूल्य उसकी लागत मूल्य से 40 प्रतिशत अधिक है। दुकानदार अंकित मूल्य पर 28.57 प्रतिशत की छूट देता है। अनुरोध पर, वह एक और छूट देता है जो कि लागत मूल्य के 12.5 प्रतिशत के बराबर थी। दुकानदार का अनुमानित नुकसान प्रतिशत कितना था?

Options :

1. ✖ 10.5 प्रतिशत

2. ✔ 12.5 प्रतिशत

3. ✖ 15 प्रतिशत

4. ✖ 8 प्रतिशत

Question Number : 95 Question Id : 59445932511 Question Type : MCQ Option Shuffling : Yes Is Question Mandatory : No Option Orientation : Vertical

Correct Marks : 1 Wrong Marks : 0.25

A manufacturer sells all its items at Rs. 60 each. The materials cost is Rs. 40 for each item and he has overhead expenses of Rs. 3000 per week in order to operate that plant. What is the number of units he should produce and sell in order to make a profit of Rs. 1000 per week?

Options :

1. ✖ 400

2. ✖ 300

3. ✖ 250

4. ✔ 200

Question Number : 95 Question Id : 59445932511 Question Type : MCQ Option Shuffling : Yes Is Question Mandatory : No Option Orientation : Vertical

Correct Marks : 1 Wrong Marks : 0.25

एक निर्माता अपनी सभी वस्तुओं को 60 रूपये प्रत्येक की दर से बेचता है। प्रत्येक वस्तु के लिए सामग्री की लागत 40 रूपये है और संयंत्र को प्रति सप्ताह संचालित करने के लिए 3000 रूपये का अतिरिक्त खर्च होता है। 1000 रूपये प्रति सप्ताह का लाभ कमाने के लिए उसे कितनी वस्तुओं का उत्पादन और बिक्री करनी चाहिए?

Options :

1. ✘ 400
2. ✘ 300
3. ✘ 250
4. ✔ 200

Question Number : 96 Question Id : 59445932512 Question Type : MCQ Option Shuffling : Yes Is Question Mandatory : No Option Orientation : Vertical

Correct Marks : 1 Wrong Marks : 0.25

After selling a watch, Pankaj found that he had made a loss of 20 percent. He also found that had he sold it for Rs. 27 more, he would have made a profit of 10 percent. The actual initial loss was what percentage of the profit earned, had he sold for a 10 percent profit?

Options :

1. ✘ 150 percent
2. ✘ 100 percent
3. ✔ 200 percent
4. ✘ 123 percent

Question Number : 96 Question Id : 59445932512 Question Type : MCQ Option Shuffling : Yes Is Question Mandatory : No Option Orientation : Vertical

Correct Marks : 1 Wrong Marks : 0.25

एक घड़ी बेचने पर, पंकज ने पाया कि उसे 20 प्रतिशत की हानि हुई। वह यह भी पाता है कि यदि उसने 27 रूपये ज्यादा में बेचा होता, तो उसे 10 प्रतिशत का लाभ प्राप्त होता। वास्तविक शुरुआती हानि, 10 प्रतिशत लाभ पर बेचने पर कमाए गए लाभ का कितने प्रतिशत है?

Options :

1. ✘ 150 प्रतिशत
2. ✘ 100 प्रतिशत
3. ✔ 200 प्रतिशत
4. ✘ 123 प्रतिशत

Question Number : 97 Question Id : 59445932513 Question Type : MCQ Option Shuffling : Yes Is Question Mandatory : No Option Orientation : Vertical

Correct Marks : 1 Wrong Marks : 0.25

A fruit seller sold 200 apples on some day and he made a profit equal to the selling price of 40 apples while on the next day, he sold 200 apples and suffered a loss equal to selling price of 40 apples. Find the difference between percent profit and percent loss made in two situations.

Options :

1. ✘ $6\frac{2}{3}\%$

2. ✘ $8\frac{2}{3}\%$

3. ✘ $16\frac{2}{3}\%$

4. ✔ $8\frac{1}{3}\%$

Question Number : 97 Question Id : 59445932513 Question Type : MCQ Option Shuffling : Yes Is Question Mandatory : No Option Orientation : Vertical

Correct Marks : 1 Wrong Marks : 0.25

एक फल विक्रेता ने किसी दिन 200 सेब बेचे तथा 40 सेबों के बिक्रय मूल्य के बराबर लाभ हुआ। जबकि अगले दिन उसने 200 सेब फिर बेचे तथा 40 सेबों के बिक्रय मूल्य के बराबर हानि हुई। इन दोनों परिस्थितियों में लाभ प्रतिशत तथा हानि प्रतिशत का अंतर क्या होगा?

Options :

1. ✘ $6\frac{2}{3}\%$

2. ✘ $8\frac{2}{3}\%$

3. ✘ $16\frac{2}{3}\%$

4. ✓ $8\frac{1}{3}\%$

Question Number : 98 Question Id : 59445932514 Question Type : MCQ Option Shuffling : Yes Is Question Mandatory : No Option Orientation : Vertical

Correct Marks : 1 Wrong Marks : 0.25

A school has 630 students. The ratio of the number of boys to the number of girls is 3 : 2. This ratio changes to 7 : 5 after the admission of 90 new students. Find the number of newly admitted boys.

Options :

1. ✗ 35
2. ✗ 49
3. ✓ 42
4. ✗ 28

Question Number : 98 Question Id : 59445932514 Question Type : MCQ Option Shuffling : Yes Is Question Mandatory : No Option Orientation : Vertical

Correct Marks : 1 Wrong Marks : 0.25

एक स्कूल में 630 छात्र हैं। लड़कों की संख्या से लड़कियों की संख्या का अनुपात 3 : 2 है। 90 नए छात्रों के प्रवेश के बाद यह अनुपात 7 : 5 हो जाता है। नए प्रवेश हुए लड़कों की संख्या ज्ञात कीजिए।

Options :

1. ✗ 35
2. ✗ 49
3. ✓ 42
4. ✗ 28

Question Number : 99 Question Id : 59445932515 Question Type : MCQ Option Shuffling : Yes Is Question Mandatory : No Option Orientation : Vertical

Correct Marks : 1 Wrong Marks : 0.25

In a milk and water solution, the ratio of milk to water is 1 : 4. M litres of milk is added in it and ratio become 1 : 3. Again N litres of water is added in it and ratio become 2 : 7. If $N - M = 4$, then what is the initial quantity of solution?

Options :

1. ✘ 45 litres.
2. ✘ 80 litres.
3. ✘ 50 litres.
4. ✔ 60 litres.

Question Number : 99 Question Id : 59445932515 Question Type : MCQ Option Shuffling : Yes Is Question Mandatory : No Option Orientation : Vertical

Correct Marks : 1 Wrong Marks : 0.25

दूध और पानी के मिश्रण में, दूध और पानी का अनुपात 1 : 4 है। इसमें M लीटर दूध मिलाया जाता है और अनुपात 1 : 3 हो जाता है। फिर से इसमें N लीटर पानी मिलाया जाता है और अनुपात 2 : 7 हो जाता है। यदि $N - M = 4$, तो मिश्रण की प्रारंभिक मात्रा कितनी है ?

Options :

1. ✘ 45 लीटर
2. ✘ 80 लीटर
3. ✘ 50 लीटर
4. ✔ 60 लीटर

Question Number : 100 Question Id : 59445932516 Question Type : MCQ Option Shuffling : Yes Is Question Mandatory : No Option Orientation : Vertical

Correct Marks : 1 Wrong Marks : 0.25

If a carton containing a dozen mirrors is dropped, which of the following cannot be the ratio of broken mirror to unbroken mirrors?

Options :

1. ✔ 2 : 3
2. ✘ 3 : 1
3. ✘ 1 : 2
4. ✘ 7 : 5

Question Number : 100 Question Id : 59445932516 Question Type : MCQ Option Shuffling : Yes Is Question Mandatory : No Option Orientation : Vertical

Correct Marks : 1 Wrong Marks : 0.25

यदि एक डिब्बे में रखे एक दर्जन दर्पणों को गिराया जाता है, तो निम्नलिखित में से कौन सा टूटे हुए दर्पण तथा बिना टूटे हुए दर्पण का अनुपात नहीं हो सकता?

Options :

1. ✓ 2 : 3
2. ✘ 3 : 1
3. ✘ 1 : 2
4. ✘ 7 : 5

Arithmetic Ability2

Group Number :	6
Group Id :	594459421
Group Maximum Duration :	0
Group Minimum Duration :	0
Show Attended Group? :	No
Edit Attended Group? :	No
Break time :	0
Group Marks :	20
Is this Group for Examiner? :	No

Arithmetical and Numerical ability2

Section Id :	5944591143
Section Number :	1
Section type :	Online
Mandatory or Optional :	Mandatory
Number of Questions :	20
Number of Questions to be attempted :	20
Section Marks :	20
Enable Mark as Answered Mark for Review and Clear Response :	Yes
Sub-Section Number :	1
Sub-Section Id :	5944591310
Question Shuffling Allowed :	Yes

Question Number : 101 Question Id : 59445932517 Question Type : MCQ Option Shuffling : Yes Is Question Mandatory : No Option

Orientation : Vertical

Correct Marks : 1 Wrong Marks : 0.25

Rs. 6120 is divided among A, B & C such that A gets $\frac{2}{3}$ of what B gets and B gets $\frac{1}{4}$ of what C gets. What is the share of B (in Rs.)?

Options :

1. ✘ 540
2. ✘ 720
3. ✔ 1080
4. ✘ 1440

Question Number : 101 Question Id : 59445932517 Question Type : MCQ Option Shuffling : Yes Is Question Mandatory : No Option

Orientation : Vertical

Correct Marks : 1 Wrong Marks : 0.25

6120 रूपये को A, B और C में इस प्रकार वितरित किया गया है कि A को B का $\frac{2}{3}$ भाग तथा B को C का $\frac{1}{4}$ भाग मिले। B का हिस्सा (रूपये में) कितना है?

Options :

1. ✘ 540
2. ✘ 720
3. ✔ 1080
4. ✘ 1440

Question Number : 102 Question Id : 59445932518 Question Type : MCQ Option Shuffling : Yes Is Question Mandatory : No Option

Orientation : Vertical

Correct Marks : 1 Wrong Marks : 0.25

Two persons Amar and Baala lent out Rs. 15000 each at simple interest for 5 years. The difference between the simple interest received by them is Rs. 3000. If the sum of the annual rates of interest is 11 percent per annum and Amar received more interest than Baala, then what is the interest received by Amar?

Options :

1. ✘ Rs. 6500
2. ✔ Rs. 5625
3. ✘ Rs. 5875
4. ✘ Rs. 6250

Question Number : 102 Question Id : 59445932518 Question Type : MCQ Option Shuffling : Yes Is Question Mandatory : No Option

Orientation : Vertical

Correct Marks : 1 Wrong Marks : 0.25

दो व्यक्ति अमर और बाला 5 वर्ष के लिए साधारण ब्याज पर प्रत्येक ने 15000 रूपये उधार दिए। उनके द्वारा प्राप्त साधारण ब्याज के बीच का अंतर 3000 रूपये है। यदि ब्याज की वार्षिक दरों का योग 11 प्रतिशत प्रतिवर्ष है और अमर को बाला की तुलना में अधिक ब्याज मिलता है, तो अमर द्वारा प्राप्त ब्याज कितना है?

Options :

1. ✘ 6500 रूपये
2. ✔ 5625 रूपये
3. ✘ 5875 रूपये
4. ✘ 6250 रूपये

Question Number : 103 Question Id : 59445932519 Question Type : MCQ Option Shuffling : Yes Is Question Mandatory : No Option Orientation : Vertical

Correct Marks : 1 Wrong Marks : 0.25

At a certain rate of compound interest a certain sum amounts to Rs. 64800 in 4 years and Rs. 93312 in 6 years. What is the compound interest earned in fifth year?

Options :

1. ✔ Rs. 12960
2. ✘ Rs. 10240
3. ✘ Rs. 11600
4. ✘ Rs. 14425

Question Number : 103 Question Id : 59445932519 Question Type : MCQ Option Shuffling : Yes Is Question Mandatory : No Option Orientation : Vertical

Correct Marks : 1 Wrong Marks : 0.25

चक्रवृद्धि ब्याज की एक निश्चित दर पर एक निश्चित राशि 4 वर्षों में 64800 रूपये और 6 वर्षों में 93312 रूपये हो जाता है। पांचवें वर्ष का अर्जित चक्रवृद्धि ब्याज कितना है?

Options :

1. ✔ 12960 रूपये
2. ✘ 10240 रूपये
3. ✘ 11600 रूपये
4. ✘ 14425 रूपये

Question Number : 104 Question Id : 59445932520 Question Type : MCQ Option Shuffling : Yes Is Question Mandatory : No Option Orientation : Vertical

Correct Marks : 1 Wrong Marks : 0.25

The S.I. on a certain sum of money for 4 years at 4 percent per annum exceeds the C.I. on the same sum for 3 years at 5 percent per annum by Rs. 57. Find the approximate sum.

Options :

1. ✘ Rs. 16000
2. ✘ Rs. 20000
3. ✔ Rs. 24000
4. ✘ Rs. 30000

Question Number : 104 Question Id : 59445932520 Question Type : MCQ Option Shuffling : Yes Is Question Mandatory : No Option Orientation : Vertical

Correct Marks : 1 Wrong Marks : 0.25

किसी निश्चित राशि पर 4 प्रतिशत ब्याज की दर से 4 वर्ष का साधारण ब्याज, उसी राशि पर 5 प्रतिशत ब्याज दर से 3 वर्ष के चक्रवृद्धि ब्याज से 57 रूपये अधिक है। लगभग राशि ज्ञात कीजिए।

Options :

1. ✘ 16000 रूपये
2. ✘ 20000 रूपये
3. ✔ 24000 रूपये
4. ✘ 30000 रूपये

Question Number : 105 Question Id : 59445932521 Question Type : MCQ Option Shuffling : Yes Is Question Mandatory : No Option Orientation : Vertical

Correct Marks : 1 Wrong Marks : 0.25

The simple and compound interest that can be earned in two years at the same rate on a certain sum is Rs. 1,000 and Rs. 1,040 respectively. What is the rate (percent per annum) of interest?

Options :

1. ✘ 9
2. ✘ 10
3. ✔ 8
4. ✘ 11

Question Number : 105 Question Id : 59445932521 Question Type : MCQ Option Shuffling : Yes Is Question Mandatory : No Option Orientation : Vertical

Correct Marks : 1 Wrong Marks : 0.25

दो वर्ष में एक ही दर से एक निश्चित राशि पर क्रमशः 1,000 रुपये और 1,040 रुपये का साधारण ब्याज और चक्रवृद्धि ब्याज अर्जित किया जा सकता है। ब्याज दर (प्रतिशत प्रति वर्ष) कितनी है?

Options :

1. ✘ 9
2. ✘ 10
3. ✔ 8
4. ✘ 11

Question Number : 106 Question Id : 59445932522 Question Type : MCQ Option Shuffling : Yes Is Question Mandatory : No Option Orientation : Vertical

Correct Marks : 1 Wrong Marks : 0.25

I walk a certain distance and ride back taking a total time of 37 minutes. I could walk both ways in 55 minutes. How long would it take me to ride both ways ?

Options :

1. ✘ 9.5
2. ✔ 19
3. ✘ 38
4. ✘ 46

Question Number : 106 Question Id : 59445932522 Question Type : MCQ Option Shuffling : Yes Is Question Mandatory : No Option Orientation : Vertical

Correct Marks : 1 Wrong Marks : 0.25

मुझे एक निश्चित दूरी को चलकर तय करने और गाड़ी से वापस आने में 37 मिनट का कुल समय लगता है। मैं दोनों तरफ चलकर इसे 55 मिनट में तय कर सकता हूँ। दोनों तरफ गाड़ी से दूरी को तय करने में मुझे कितना समय लगेगा ?

Options :

1. ✘ 9.5
2. ✔ 19
3. ✘ 38

4. ✖ 46

Question Number : 107 Question Id : 59445932523 Question Type : MCQ Option Shuffling : Yes Is Question Mandatory : No Option Orientation : Vertical

Correct Marks : 1 Wrong Marks : 0.25

An express train travelled at an average speed of 100 km/hr, stopping for 3 minutes after every 75 km. How long it take to reach its destination 600 km from the starting point?

Options :

1. ✖ 6 hr
2. ✔ 6 hr 21 min
3. ✖ 6 hr 24 min
4. ✖ 6 hr 27 min

Question Number : 107 Question Id : 59445932523 Question Type : MCQ Option Shuffling : Yes Is Question Mandatory : No Option Orientation : Vertical

Correct Marks : 1 Wrong Marks : 0.25

एक एक्सप्रेस ट्रेन 100 किमी / घंटा की औसत गति से दूरी तय करती है और प्रत्येक 75 किलोमीटर के बाद 3 मिनट के लिए रूकती है। उसे प्रारंभिक बिंदु से अपने गंतव्य 600 किमी तक पहुंचने में कितना समय लगेगा?

Options :

1. ✖ 6 घंटे
2. ✔ 6 घंटे 21 मिनट
3. ✖ 6 घंटे 24 मिनट
4. ✖ 6 घंटे 27 मिनट

Question Number : 108 Question Id : 59445932524 Question Type : MCQ Option Shuffling : Yes Is Question Mandatory : No Option Orientation : Vertical

Correct Marks : 1 Wrong Marks : 0.25

Karan had covered two third of a certain distance when his car had a breakdown. He parked it and covered the remaining distance on foot. His time of travel on foot was 9 times his time of travel on car. What is the ratio of his walking speed with respect to his car's speed?

Options :

1. ✖ 1 : 24
2. ✖ 1 : 36

3. ✘ 1 : 20

4. ✔ 1 : 18

Question Number : 108 Question Id : 59445932524 Question Type : MCQ Option Shuffling : Yes Is Question Mandatory : No Option Orientation : Vertical

Correct Marks : 1 Wrong Marks : 0.25

करन ने अपनी कार के खराब होने तक एक निश्चित दूरी के दो तिहाई हिस्से को तय किया। उसने वहीं कार को खड़ा किया और शेष दूरी को पैदल ही तय किया। पैदल यात्रा का उसका समय कार से यात्रा के समय का 9 गुना था। उसके पैदल चलने की गति का उसकी कार की गति से अनुपात क्या है?

Options :

1. ✘ 1 : 24

2. ✘ 1 : 36

3. ✘ 1 : 20

4. ✔ 1 : 18

Question Number : 109 Question Id : 59445932525 Question Type : MCQ Option Shuffling : Yes Is Question Mandatory : No Option Orientation : Vertical

Correct Marks : 1 Wrong Marks : 0.25

Twenty five workers were employed to complete a wall in 12 days. Five workers left the work after working of 5 days. By what percent of each of remaining 20 workers should increase their efficiencies to complete the work in given time?

Options :

1. ✘ 20 percent

2. ✔ 25 percent

3. ✘ 30 percent

4. ✘ 18 percent

Question Number : 109 Question Id : 59445932525 Question Type : MCQ Option Shuffling : Yes Is Question Mandatory : No Option Orientation : Vertical

Correct Marks : 1 Wrong Marks : 0.25

12 दिनों में एक दीवार को पूरा करने के लिए पच्चीस श्रमिकों को लगाया गया। 5 दिन काम करने के बाद पांच श्रमिकों ने काम छोड़ दिया। काम को समय पर पूरा करने के लिए शेष 20 श्रमिकों में से प्रत्येक को कितने प्रतिशत से अपनी क्षमता बढ़ानी चाहिए ?

Options :

1. ✘ 20 प्रतिशत

2. ✓ 25 प्रतिशत
3. ✗ 30 प्रतिशत
4. ✗ 18 प्रतिशत

Question Number : 110 Question Id : 59445932526 Question Type : MCQ Option Shuffling : Yes Is Question Mandatory : No Option Orientation : Vertical

Correct Marks : 1 Wrong Marks : 0.25

The work done by $(x-2)$ men in $(4x+1)$ days and the work done by $(4x+1)$ men in $(2x-3)$ days are in the ratio 2:5. In how many days $(x+4)$ men do $(12x^2+15)$ work?

Options :

1. ✓ $25\frac{7}{8}$
2. ✗ $21\frac{5}{8}$
3. ✗ $27\frac{7}{8}$
4. ✗ $30\frac{3}{8}$

Question Number : 110 Question Id : 59445932526 Question Type : MCQ Option Shuffling : Yes Is Question Mandatory : No Option Orientation : Vertical

Correct Marks : 1 Wrong Marks : 0.25

$(x - 2)$ पुरुषों द्वारा $(4x + 1)$ दिनों में और $(4x + 1)$ पुरुषों द्वारा $(2x - 3)$ दिनों में किए गए कार्य 2 : 5 के अनुपात में हैं। कितने दिनों में $(x + 4)$ पुरुष $(12x^2 + 15)$ कार्य को करते हैं?

Options :

1. ✓ $25\frac{7}{8}$

2. ✗ $21\frac{5}{8}$

3. ✗ $27\frac{7}{8}$

4. ✗ $30\frac{3}{8}$

Question Number : 111 Question Id : 59445932527 Question Type : MCQ Option Shuffling : Yes Is Question Mandatory : No Option Orientation : Vertical

Correct Marks : 1 Wrong Marks : 0.25

A pipe can fill a tank in 4 hours, while a leak which is at one-fourth of the height of the tank from bottom can empty upto that part in 2 hours. If both are operated simultaneously and initially the tank is full, then when it will be one-fourth full?

Options :

1. ✗ 7.5 hours

2. ✗ 8 hours

3. ✓ 6 hours

4. ✗ 5 hours

Question Number : 111 Question Id : 59445932527 Question Type : MCQ Option Shuffling : Yes Is Question Mandatory : No Option Orientation : Vertical

Correct Marks : 1 Wrong Marks : 0.25

एक पाइप 4 घंटे में एक टंकी भर सकता है, जबकि एक छिद्र जो नीचे से टंकी की एक-चौथाई की ऊंचाई पर है, उस हिस्से तक उसे 2 घंटे में खाली कर सकता है। यदि दोनों एक साथ संचालित होते हैं और शुरू में टंकी भरी हुई है, तो यह एक-चौथाई तक कब भर जाएगी?

Options :

1. ✗ 7.5 घंटे

2. ✘ 8 घंटे

3. ✔ 6 घंटे

4. ✘ 5 घंटे

Question Number : 112 Question Id : 59445932528 Question Type : MCQ Option Shuffling : Yes Is Question Mandatory : No Option Orientation : Vertical

Correct Marks : 1 Wrong Marks : 0.25

If the total surface area of a solid hemisphere is 108π sq cm. What will be the volume of the hemisphere?

Options :

1. ✘ $72\pi \text{ cm}^3$

2. ✔ $144\pi \text{ cm}^3$

3. ✘ $108\sqrt{6} \text{ cm}^3$

4. ✘ $54\sqrt{6} \text{ cm}^3$

Question Number : 112 Question Id : 59445932528 Question Type : MCQ Option Shuffling : Yes Is Question Mandatory : No Option Orientation : Vertical

Correct Marks : 1 Wrong Marks : 0.25

यदि एक ठोस अर्धगोले का सम्पूर्ण पृष्ठ क्षेत्रफल 108π वर्ग सेमी है। अर्धगोले का आयतन क्या होगा?

Options :

1. ✘ $72\pi \text{ सेमी}^3$

2. ✔ $144\pi \text{ सेमी}^3$

3. ✘ $108\sqrt{6}$ सेमी³

4. ✘ $54\sqrt{6}$ सेमी³

Question Number : 113 Question Id : 59445932529 Question Type : MCQ Option Shuffling : Yes Is Question Mandatory : No Option Orientation : Vertical

Correct Marks : 1 Wrong Marks : 0.25

The ratio between the length and the breadth of a rectangular park is 3:2. If a person walks along the boundary of the park at the speed of 10 km/hr completes one round in 12 minutes, then what is the area of the park?

Options :

1. ✘ 302000 sq. m

2. ✘ 300000 sq. m

3. ✘ 180000 sq. m

4. ✔ 240000 sq. m

Question Number : 113 Question Id : 59445932529 Question Type : MCQ Option Shuffling : Yes Is Question Mandatory : No Option Orientation : Vertical

Correct Marks : 1 Wrong Marks : 0.25

एक आयताकार पार्क की लंबाई और चौड़ाई के बीच का अनुपात 3: 2 है। यदि कोई व्यक्ति 10 किमी / घंटा की गति से पार्क की सीमा के साथ-साथ 12 मिनट में एक चक्कर पूरा करता है, तो पार्क का क्षेत्रफल क्या है?

Options :

1. ✘ 302000 वर्ग मी

2. ✘ 300000 वर्ग मी

3. ✘ 180000 वर्ग मी

4. ✔ 240000 वर्ग मी

Question Number : 114 Question Id : 59445932530 Question Type : MCQ Option Shuffling : Yes Is Question Mandatory : No Option Orientation : Vertical

Correct Marks : 1 Wrong Marks : 0.25

A vessel is in the form of a hollow hemisphere mounted by a hollow cylinder. The diameter of the hemisphere is 14 cm and the total height of the

vessel is 12 cm. What is the inner surface area of the vessel?

Options :

1. ✘ 476 sq cm
2. ✔ 528 sq. cm
3. ✘ 578 sq. cm
4. ✘ 612 sq. cm

Question Number : 114 Question Id : 59445932530 Question Type : MCQ Option Shuffling : Yes Is Question Mandatory : No Option Orientation : Vertical

Correct Marks : 1 Wrong Marks : 0.25

एक बर्तन एक खोखले गोलार्ध के आकार में है जो एक खोखले बेलन से जुड़ा हुआ है। गोलार्ध का व्यास 14 सेमी है और बर्तन की कुल ऊंचाई 12 सेमी है। बर्तन की आंतरिक पृष्ठ सतह का क्षेत्रफल क्या है?

Options :

1. ✘ 476 वर्ग सेमी
2. ✔ 528 वर्ग सेमी
3. ✘ 578 वर्ग सेमी
4. ✘ 612 वर्ग सेमी

Question Number : 115 Question Id : 59445932531 Question Type : MCQ Option Shuffling : Yes Is Question Mandatory : No Option Orientation : Vertical

Correct Marks : 1 Wrong Marks : 0.25

The sum of areas of two circles A and B is equal to the area of a third circle C whose diameter is 30 cm. If the diameter of circle A is 18 cm, then the radius of circle B is:

Options :

1. ✘ 18 cm
2. ✘ 15 cm
3. ✔ 12 cm
4. ✘ 10 cm

Question Number : 115 Question Id : 59445932531 Question Type : MCQ Option Shuffling : Yes Is Question Mandatory : No Option Orientation : Vertical

Correct Marks : 1 Wrong Marks : 0.25

दो वृत्त A और B के क्षेत्रफलों का योग एक तीसरी वृत्त के क्षेत्रफल के बराबर है जिसका व्यास 30 सेमी. है। यदि वृत्त का व्यास 18 सेमी. हो, तो वृत्त B की त्रिज्या है:

Options :

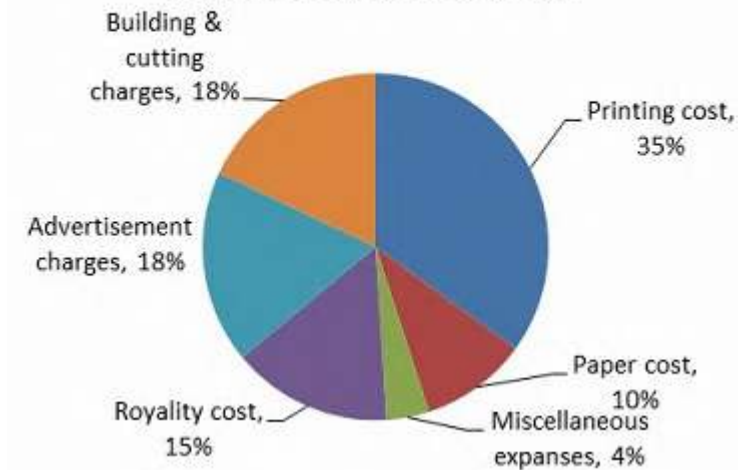
1. ✘ 18 सेमी.
2. ✘ 15 सेमी.
3. ✔ 12 सेमी.
4. ✘ 10 सेमी.

Question Number : 116 Question Id : 59445932532 Question Type : MCQ Option Shuffling : Yes Is Question Mandatory : No Option Orientation : Vertical

Correct Marks : 1 Wrong Marks : 0.25

Study the following pie chart carefully to answer the question given below.

Percentage expenses on various items during book production and sale



What is central angle corresponding to “Advertisement charges”?

Options :

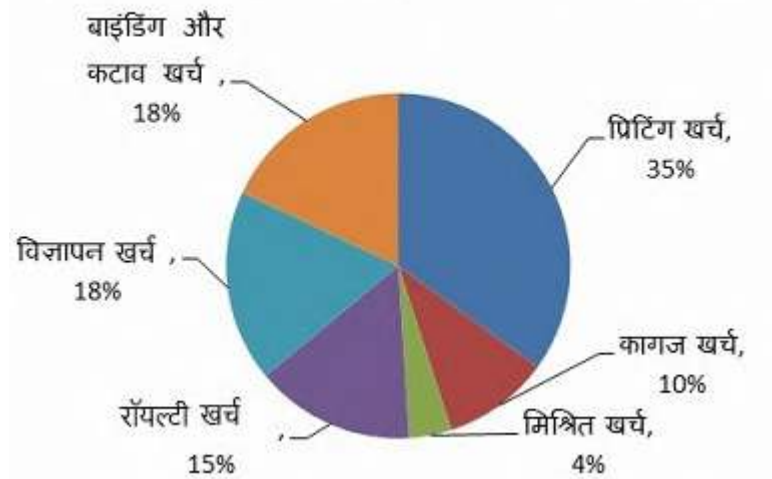
1. ✘ 70.2°
2. ✘ 50.2°
3. ✘ 60°
4. ✔ 64.8°

Question Number : 116 Question Id : 59445932532 Question Type : MCQ Option Shuffling : Yes Is Question Mandatory : No Option Orientation : Vertical

Correct Marks : 1 Wrong Marks : 0.25

निम्नलिखित पाई चार्ट का ध्यानपूर्वक अध्ययन कर नीचे दिए गए प्रश्न का उत्तर दीजिए।

विभिन्न प्रकार से पुस्तक के उत्पादन और बिक्री पर खर्च प्रतिशत



"विज्ञापन खर्च" के अनुरूप केंद्रीय कोण क्या है?

Options :

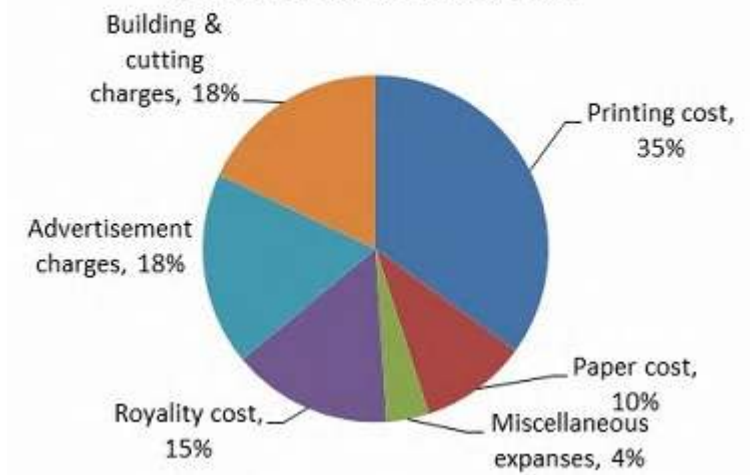
- ✘ 70.2°
- ✘ 50.2°
- ✘ 60°
- ✔ 44.8°

Question Number : 117 Question Id : 59445932533 Question Type : MCQ Option Shuffling : Yes Is Question Mandatory : No Option Orientation : Vertical

Correct Marks : 1 Wrong Marks : 0.25

Study the following pie chart carefully to answer the question given below.

Percentage expenses on various items during book production and sale



If the “Miscellaneous expenses” are Rs. 6000, how much more are “Binding and cutting charges” than “Miscellaneous”?

Options :

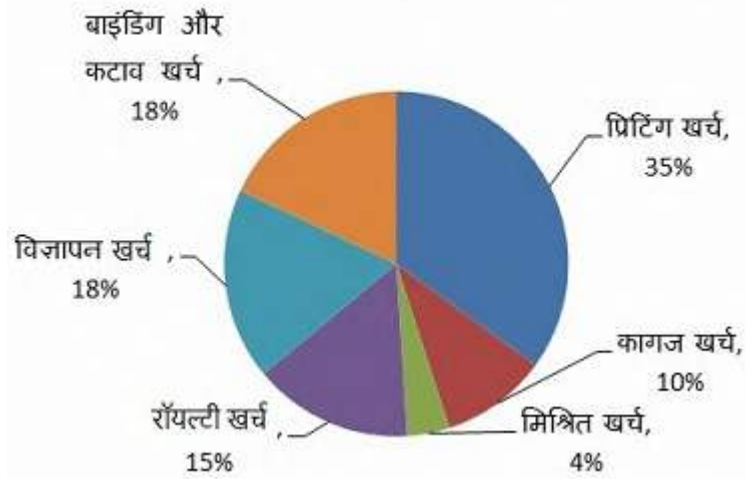
1. ✘ Rs. 16000
2. ✘ Rs. 15500
3. ✔ Rs. 21000
4. ✘ Rs. 24000

Question Number : 117 Question Id : 59445932533 Question Type : MCQ Option Shuffling : Yes Is Question Mandatory : No Option Orientation : Vertical

Correct Marks : 1 Wrong Marks : 0.25

निम्नलिखित पाई चार्ट का ध्यानपूर्वक अध्ययन कर नीचे दिए गए प्रश्न का उत्तर दीजिए।

विभिन्न प्रकार से पुस्तक के उत्पादन और बिक्री पर खर्च प्रतिशत



यदि “मिश्रित खर्च” 6000 रुपये है, तो “मिश्रित खर्च” से “बाइंडिंग और कटाव खर्च” कितना अधिक है?

Options :

1. ✘ 16000 रुपये
2. ✘ 15500 रुपये
3. ✔ 21000 रुपये
4. ✘ 24000 रुपये

Question Number : 118 Question Id : 59445932534 Question Type : MCQ Option Shuffling : Yes Is Question Mandatory : No Option Orientation : Vertical

Correct Marks : 1 Wrong Marks : 0.25

Study the table given below and answer the question based on it.

Percentage of Total Population for 2011 under Different Age Groups

Age Group	Percent
Up to 15	30
16-30	22
31-45	18
46-60	16
61-75	09
75 and above	05

There are 45 lakh people above 45 years, then how many persons are there in the age group 16-30 years.

Options :

1. ✓ 33 Lakh
2. ✗ 27 Lakh
3. ✗ 36 Lakh
4. ✗ 25 Lakh

Question Number : 118 Question Id : 59445932534 Question Type : MCQ Option Shuffling : Yes Is Question Mandatory : No Option Orientation : Vertical

Correct Marks : 1 Wrong Marks : 0.25

निम्न तालिका का अध्ययन कीजिए और उस पर आधारित प्रश्न का उत्तर दीजिए।

विभिन्न आयु वर्ग में वर्ष 2011 की कुल जनसंख्या का प्रतिशत

आयु वर्ग	प्रतिशत
15 वर्ष तक	30
16-30	22
31-45	18
46-60	16
61-75	09
75 से ऊपर	05

45 वर्ष की आयु से ऊपर 45 लाख लोग हैं तो 16-30 वर्ष की आयु वर्ग में कितने लोग हैं?

Options :

1. ✓ 33 लाख
2. ✗ 27 लाख
3. ✗ 36 लाख
4. ✗ 25 लाख

Question Number : 119 Question Id : 59445932535 Question Type : MCQ Option Shuffling : Yes Is Question Mandatory : No Option Orientation : Vertical

Correct Marks : 1 Wrong Marks : 0.25

Study the table given below and answer the questions based on it.

Percentage of Total Population for 2011 under Different Age Groups

Age Group	Percent
Up to 15	30
16-30	22
31-45	18
46-60	16
61-75	09
75 and above	05

If there are 13.5 Lakh people in the age group 61-75, then what is the difference between the population in the age group 16- 30 and 46-60?

Options :

- ✘ 6 Lakh
- ✔ 9 Lakh
- ✘ 11 Lakh
- ✘ 712 Lakh

Question Number : 119 Question Id : 59445932535 Question Type : MCQ Option Shuffling : Yes Is Question Mandatory : No Option Orientation : Vertical

Correct Marks : 1 Wrong Marks : 0.25

निम्न तालिका का अध्ययन कीजिए और उस पर आधारित प्रश्न का उत्तर दीजिए।

विभिन्न आयु वर्ग में वर्ष 2011 की कुल जनसंख्या का प्रतिशत

आयु वर्ग	प्रतिशत
15 वर्ष तक	30
16-30	22
31-45	18
46-60	16
61-75	09
75 से ऊपर	05

यदि 61-75 वर्ष के आयु वर्ग में 13.5 लाख लोग है, तो 16-30 और 46-60 आयु वर्ग में जनसंख्या का अंतर कितना है?

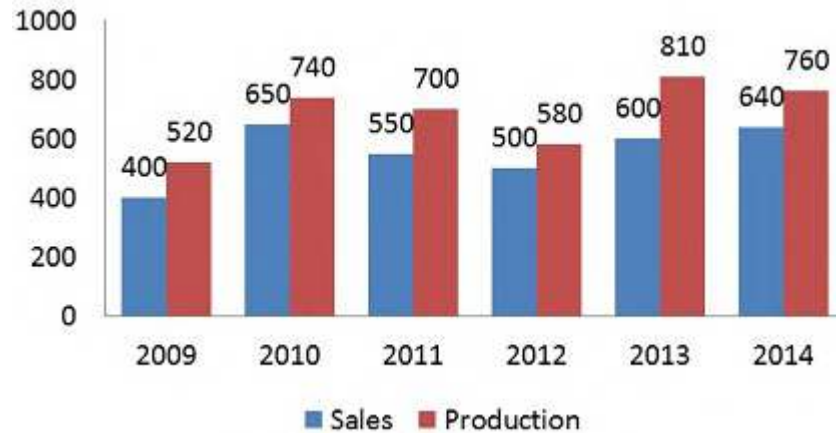
Options :

1. ✘ 6 लाख
2. ✔ 9 लाख
3. ✘ 11 लाख
4. ✘ 712 लाख

Question Number : 120 Question Id : 59445932536 Question Type : MCQ Option Shuffling : Yes Is Question Mandatory : No Option Orientation : Vertical

Correct Marks : 1 Wrong Marks : 0.25

The bar graph given below represents the production (in tonnes) and sales (in tones) of steel in India from 2009-2014.



What is the difference (in tonnes) in the average sale from 2012 to 2014 and the average production from 2009 to 2014?

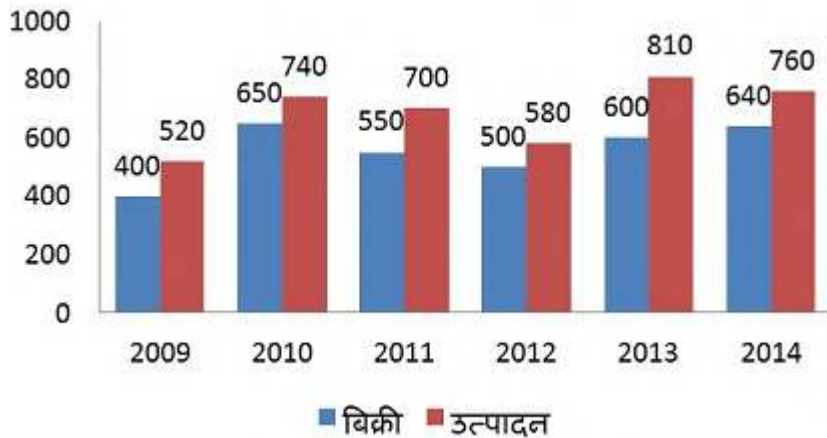
Options :

1. ✓ 105
2. ✗ 160
3. ✗ 145
4. ✗ 85

Question Number : 120 Question Id : 59445932536 Question Type : MCQ Option Shuffling : Yes Is Question Mandatory : No Option Orientation : Vertical

Correct Marks : 1 Wrong Marks : 0.25

नीचे दिया गया बार ग्राफ 2009-2014 में भारत में स्टील के उत्पादन (टन में) और बिक्री (टन में) को दर्शाता है।



2012 से 2014 तक की औसत बिक्री और 2009 से 2014 तक के औसत उत्पादन में अंतर कितना (टन में) है?

Options :

1. ✓ 105
2. ✗ 160
3. ✗ 145
4. ✗ 85

General English1

Group Number :	7
Group Id :	594459422
Group Maximum Duration :	0
Group Minimum Duration :	0
Show Attended Group? :	No
Edit Attended Group? :	No
Break time :	0
Group Marks :	20
Is this Group for Examiner? :	No

English Language & Comprehension1

Section Id :	5944591144
Section Number :	1
Section type :	Online
Mandatory or Optional :	Mandatory
Number of Questions :	20
Number of Questions to be attempted :	20
Section Marks :	20
Enable Mark as Answered Mark for Review and Clear Response :	Yes
Sub-Section Number :	1
Sub-Section Id :	5944591311
Question Shuffling Allowed :	Yes

Question Number : 121 Question Id : 59445932537 Question Type : MCQ Option Shuffling : Yes Is Question Mandatory : No Option Orientation : Vertical

Correct Marks : 1 Wrong Marks : 0.25

In the following question, some parts of the sentence may have errors. Find out which part of the sentence has an error and select the appropriate option. If a sentence is free from error, select No Error.

I cannot allow you go out of the examination hall until the invigilator comes and provides me some guidelines.

Options :

1. ✓ I cannot allow you go out of the examination
2. ✗ hall until the invigilator comes and
3. ✗ provides me some guidelines.
4. ✗ No Error

Question Number : 121 Question Id : 59445932537 Question Type : MCQ Option Shuffling : Yes Is Question Mandatory : No Option Orientation : Vertical

Correct Marks : 1 Wrong Marks : 0.25

In the following question, some parts of the sentence may have errors. Find out which part of the sentence has an error and select the appropriate option. If a sentence is free from error, select No Error.

I cannot allow you go out of the examination hall until the invigilator comes and provides me some guidelines.

Options :

1. ✓ I cannot allow you go out of the examination
2. ✗ hall until the invigilator comes and
3. ✗ provides me some guidelines.
4. ✗ No Error

Question Number : 122 Question Id : 59445932538 Question Type : MCQ Option Shuffling : Yes Is Question Mandatory : No Option Orientation : Vertical

Correct Marks : 1 Wrong Marks : 0.25

In the following question, some parts of the sentence may have errors. Find out which part of the sentence has an error and select the appropriate option. If a sentence is free from error, select No Error.

The controversial issue was almost settled and it was my brother's insincerity which upset the whole thing and disappointed us.

Options :

1. ✗ The controversial issue was almost settled
2. ✗ and it was my brother's insincerity which
3. ✗ upset the whole thing and disappointed us.
4. ✓ No Error

Question Number : 122 Question Id : 59445932538 Question Type : MCQ Option Shuffling : Yes Is Question Mandatory : No Option Orientation : Vertical

Correct Marks : 1 Wrong Marks : 0.25

In the following question, some parts of the sentence may have errors. Find out which part of the sentence has an error and select the appropriate option. If a sentence is free from error, select No Error.

The controversial issue was almost settled and it was my brother's insincerity which upset the whole thing and disappointed us.

Options :

1. ✘ The controversial issue was almost settled
2. ✘ and it was my brother's insincerity which
3. ✘ upset the whole thing and disappointed us.
4. ✔ No Error

Question Number : 123 Question Id : 59445932539 Question Type : MCQ Option Shuffling : Yes Is Question Mandatory : No Option Orientation : Vertical

Correct Marks : 1 Wrong Marks : 0.25

In the following question, some parts of the sentence may have errors. Find out which part of the sentence has an error and select the appropriate option. If a sentence is free from error, select No Error.

Kavita was so strong that she had not worried by their decision to suspend her.

Options :

1. ✘ Kavita was so strong that she
2. ✔ had not worried by their
3. ✘ decision to suspend her.
4. ✘ No Error

Question Number : 123 Question Id : 59445932539 Question Type : MCQ Option Shuffling : Yes Is Question Mandatory : No Option Orientation : Vertical

Correct Marks : 1 Wrong Marks : 0.25

In the following question, some parts of the sentence may have errors. Find out which part of the sentence has an error and select the appropriate option. If a sentence is free from error, select No Error.

Kavita was so strong that she had not worried by their decision to suspend her.

Options :

1. ✘ Kavita was so strong that she
2. ✔ had not worried by their

3. ✘ decision to suspend her.

4. ✘ No Error

Question Number : 124 Question Id : 59445932540 Question Type : MCQ Option Shuffling : Yes Is Question Mandatory : No Option Orientation : Vertical

Correct Marks : 1 Wrong Marks : 0.25

In the following question, four sentences are given out of which three sentences are grammatically correct while one is incorrect. Find out which sentence is grammatically incorrect and select the appropriate option.

Options :

1. ✘ Technological change affects more than just productivity, employment, and income inequality.

2. ✘ It also creates opportunities for changes in the nature of work itself.

3. ✔ Numerous studies have shown how a variety of new technologies have altered the way work was performed.

4. ✘ The workforce is now more demographically diverse than ever.

Question Number : 124 Question Id : 59445932540 Question Type : MCQ Option Shuffling : Yes Is Question Mandatory : No Option Orientation : Vertical

Correct Marks : 1 Wrong Marks : 0.25

In the following question, four sentences are given out of which three sentences are grammatically correct while one is incorrect. Find out which sentence is grammatically incorrect and select the appropriate option.

Options :

1. ✘ Technological change affects more than just productivity, employment, and income inequality.

2. ✘ It also creates opportunities for changes in the nature of work itself.

3. ✔ Numerous studies have shown how a variety of new technologies have altered the way work was performed.

4. ✘ The workforce is now more demographically diverse than ever.

Question Number : 125 Question Id : 59445932541 Question Type : MCQ Option Shuffling : Yes Is Question Mandatory : No Option Orientation : Vertical

Correct Marks : 1 Wrong Marks : 0.25

In the following question, four sentences are given out of which three sentences are grammatically correct while one is incorrect. Find out which sentence is grammatically incorrect and select the appropriate option.

Options :

1. ✘ As the nature of the work environment continues to change, new trends have emerged in corporations.

2. ✔ Although corporation are eager to cooperate with minority-owned businesses, a shortage of capital in the 1970's made substantial response

impossible.

3. ✘ The significant response of corporations in the 1970's is likely to be sustained and conceivably be increased throughout the 1980's.
4. ✘ The enormous corporate response has all but eliminated the dangers of over-expansion that used to plague small minority-owned businesses.

Question Number : 125 Question Id : 59445932541 Question Type : MCQ Option Shuffling : Yes Is Question Mandatory : No Option Orientation : Vertical

Correct Marks : 1 Wrong Marks : 0.25

In the following question, four sentences are given out of which three sentences are grammatically correct while one is incorrect. Find out which sentence is grammatically incorrect and select the appropriate option.

Options :

1. ✘ As the nature of the work environment continues to change, new trends have emerged in corporations.
2. ✔ Although corporation are eager to cooperate with minority-owned businesses, a shortage of capital in the 1970's made substantial response impossible.
3. ✘ The significant response of corporations in the 1970's is likely to be sustained and conceivably be increased throughout the 1980's.
4. ✘ The enormous corporate response has all but eliminated the dangers of over-expansion that used to plague small minority-owned businesses.

Question Number : 126 Question Id : 59445932542 Question Type : MCQ Option Shuffling : Yes Is Question Mandatory : No Option Orientation : Vertical

Correct Marks : 1 Wrong Marks : 0.25

Select the most appropriate option to substitute the underlined segment in the given sentence. If there is no need to substitute it, select 'No improvement'.

Most parents today would say that their kids have great opportunity then they did.

Options :

1. ✔ greater opportunities than
2. ✘ great opportunity then
3. ✘ greatest opportunity than
4. ✘ No improvement

Question Number : 126 Question Id : 59445932542 Question Type : MCQ Option Shuffling : Yes Is Question Mandatory : No Option Orientation : Vertical

Correct Marks : 1 Wrong Marks : 0.25

Select the most appropriate option to substitute the underlined segment in the given sentence. If there is no need to substitute it, select 'No improvement'.

Most parents today would say that their kids have great opportunity then they did.

Options :

1. ✓ greater opportunities than
2. ✗ great opportunity then
3. ✗ greatest opportunity than
4. ✗ No improvement

Question Number : 127 Question Id : 59445932543 Question Type : MCQ Option Shuffling : Yes Is Question Mandatory : No Option Orientation : Vertical

Correct Marks : 1 Wrong Marks : 0.25

Select the most appropriate option to substitute the underlined segment in the given sentence. If there is no need to substitute it, select 'No improvement'.

He sold all his possessions to fund the trip and says he has no plans to returning home.

Options :

1. ✗ to returned home
2. ✓ to return home
3. ✗ to returns home
4. ✗ No improvement

Question Number : 127 Question Id : 59445932543 Question Type : MCQ Option Shuffling : Yes Is Question Mandatory : No Option Orientation : Vertical

Correct Marks : 1 Wrong Marks : 0.25

Select the most appropriate option to substitute the underlined segment in the given sentence. If there is no need to substitute it, select 'No improvement'.

He sold all his possessions to fund the trip and says he has no plans to returning home.

Options :

1. ✗ to returned home
2. ✓ to return home

3. ✖ to returns home
4. ✖ No improvement

Question Number : 128 Question Id : 59445932544 Question Type : MCQ Option Shuffling : Yes Is Question Mandatory : No Option Orientation : Vertical

Correct Marks : 1 Wrong Marks : 0.25

Select the most appropriate option to substitute the underlined segment in the given sentence. If there is no need to substitute it, select 'No improvement'.

In the past, promises have been made, kept and broken, and they are being make yet again.

Options :

1. ✖ it is being made
2. ✖ they are been make
3. ✔ they are being made
4. ✖ No improvement

Question Number : 128 Question Id : 59445932544 Question Type : MCQ Option Shuffling : Yes Is Question Mandatory : No Option Orientation : Vertical

Correct Marks : 1 Wrong Marks : 0.25

Select the most appropriate option to substitute the underlined segment in the given sentence. If there is no need to substitute it, select 'No improvement'.

In the past, promises have been made, kept and broken, and they are being make yet again.

Options :

1. ✖ it is being made
2. ✖ they are been make
3. ✔ they are being made
4. ✖ No improvement

Question Number : 129 Question Id : 59445932545 Question Type : MCQ Option Shuffling : Yes Is Question Mandatory : No Option Orientation : Vertical

Correct Marks : 1 Wrong Marks : 0.25

Select the most appropriate option to substitute the underlined segment in the given sentence. If there is no need to substitute it, select 'No

improvement’.

September is one of the busiest months of the year, with a range of different tasks at hand.

Options :

1. ✘ one of the busy month
2. ✘ one’s of the busiest month
3. ✘ one of the more busier months
4. ✔ No improvement

Question Number : 129 Question Id : 59445932545 Question Type : MCQ Option Shuffling : Yes Is Question Mandatory : No Option Orientation : Vertical

Correct Marks : 1 Wrong Marks : 0.25

Select the most appropriate option to substitute the underlined segment in the given sentence. If there is no need to substitute it, select ‘No improvement’.

September is one of the busiest months of the year, with a range of different tasks at hand.

Options :

1. ✘ one of the busy month
2. ✘ one’s of the busiest month
3. ✘ one of the more busier months
4. ✔ No improvement

Question Number : 130 Question Id : 59445932546 Question Type : MCQ Option Shuffling : Yes Is Question Mandatory : No Option Orientation : Vertical

Correct Marks : 1 Wrong Marks : 0.25

Select the most appropriate option to fill in the blank.

We are getting better _____ being variety conscious, and supermarkets must display the variety at point of sale.

Options :

1. ✔ at
2. ✘ in
3. ✘ on
4. ✘ of

Question Number : 130 Question Id : 59445932546 Question Type : MCQ Option Shuffling : Yes Is Question Mandatory : No Option Orientation : Vertical

Correct Marks : 1 Wrong Marks : 0.25

Select the most appropriate option to fill in the blank.

We are getting better _____ being variety conscious, and supermarkets must display the variety at point of sale.

Options :

1. ✓ at
2. ✗ in
3. ✗ on
4. ✗ of

Question Number : 131 Question Id : 59445932547 Question Type : MCQ Option Shuffling : Yes Is Question Mandatory : No Option Orientation : Vertical

Correct Marks : 1 Wrong Marks : 0.25

Select the most appropriate option to fill in the blank.

I recognise people may have different points of view and are free to have _____ own opinion.

Options :

1. ✗ his
2. ✓ their
3. ✗ there
4. ✗ your

Question Number : 131 Question Id : 59445932547 Question Type : MCQ Option Shuffling : Yes Is Question Mandatory : No Option Orientation : Vertical

Correct Marks : 1 Wrong Marks : 0.25

Select the most appropriate option to fill in the blank.

I recognise people may have different points of view and are free to have _____ own opinion.

Options :

1. ✗ his

2. ✓ their
3. ✗ there
4. ✗ your

Question Number : 132 Question Id : 59445932548 Question Type : MCQ Option Shuffling : Yes Is Question Mandatory : No Option Orientation : Vertical

Correct Marks : 1 Wrong Marks : 0.25

Select the most appropriate option to fill in the blank.

By the time that ward round was finished, I had _____ two more things that were important.

Options :

1. ✗ learn
2. ✗ learns
3. ✓ learnt
4. ✗ learned

Question Number : 132 Question Id : 59445932548 Question Type : MCQ Option Shuffling : Yes Is Question Mandatory : No Option Orientation : Vertical

Correct Marks : 1 Wrong Marks : 0.25

Select the most appropriate option to fill in the blank.

By the time that ward round was finished, I had _____ two more things that were important.

Options :

1. ✗ learn
2. ✗ learns
3. ✓ learnt
4. ✗ learned

Question Number : 133 Question Id : 59445932549 Question Type : MCQ Option Shuffling : Yes Is Question Mandatory : No Option Orientation : Vertical

Correct Marks : 1 Wrong Marks : 0.25

Select the most appropriate option to fill in the blank.

My advice is never download any program from the internet _____ you know exactly what it is.

Options :

1. ✘ if
2. ✘ since
3. ✘ yet
4. ✔ unless

Question Number : 133 Question Id : 59445932549 Question Type : MCQ Option Shuffling : Yes Is Question Mandatory : No Option Orientation : Vertical

Correct Marks : 1 Wrong Marks : 0.25

Select the most appropriate option to fill in the blank.

My advice is never download any program from the internet _____ you know exactly what it is.

Options :

1. ✘ if
2. ✘ since
3. ✘ yet
4. ✔ unless

Question Number : 134 Question Id : 59445932550 Question Type : MCQ Option Shuffling : Yes Is Question Mandatory : No Option Orientation : Vertical

Correct Marks : 1 Wrong Marks : 0.25

Parts of a sentence have been jumbled up. Arrange these parts in a meaningful order.

- A. Business information company CMIE's monthly jobs data showed
- B. the highest on record since it began its survey
- C. that unemployment rate was already a worrying 8.7% in March,
- D. over three years ago

Options :

1. ✔ ACBD
2. ✘ ABCD
3. ✘ ADCB
4. ✘ ACDB

Question Number : 134 Question Id : 59445932550 Question Type : MCQ Option Shuffling : Yes Is Question Mandatory : No Option Orientation : Vertical

Correct Marks : 1 Wrong Marks : 0.25

Parts of a sentence have been jumbled up. Arrange these parts in a meaningful order.

- A. Business information company CMIE's monthly jobs data showed
- B. the highest on record since it began its survey
- C. that unemployment rate was already a worrying 8.7% in March,
- D. over three years ago

Options :

- 1. ✓ ACBD
- 2. ✗ ABCD
- 3. ✗ ADCB
- 4. ✗ ACDB

Question Number : 135 Question Id : 59445932551 Question Type : MCQ Option Shuffling : Yes Is Question Mandatory : No Option Orientation : Vertical

Correct Marks : 1 Wrong Marks : 0.25

Parts of a sentence have been jumbled up. Arrange these parts in a meaningful order.

- A. to their suppliers which is likely to ripple out
- B. news emerging from industry suggests that
- C. and put more stress on jobs
- D. some manufacturers have begun to hold back payments

Options :

- 1. ✗ BDCA
- 2. ✓ BDAC
- 3. ✗ BADC
- 4. ✗ BCAD

Question Number : 135 Question Id : 59445932551 Question Type : MCQ Option Shuffling : Yes Is Question Mandatory : No Option Orientation : Vertical

Correct Marks : 1 Wrong Marks : 0.25

Parts of a sentence have been jumbled up. Arrange these parts in a meaningful order.

- A. to their suppliers which is likely to ripple out
- B. news emerging from industry suggests that
- C. and put more stress on jobs
- D. some manufacturers have begun to hold back payments

Options :

- 1. ✘ BDCA
- 2. ✔ BDAC
- 3. ✘ BADC
- 4. ✘ BCAD

Question Number : 136 Question Id : 59445932552 Question Type : MCQ Option Shuffling : Yes Is Question Mandatory : No Option Orientation : Vertical

Correct Marks : 1 Wrong Marks : 0.25

Arrange the jumbled sentences to make a meaningful paragraph.

- A. The measure was taken after only three new cases of Covid-19 were reported in the city.
- B. It also means there is hope for other countries trying to control the pandemic through their own curbs.
- C. The city of Wuhan where the coronavirus first emerged ended its 76 day lockdown yesterday.
- D. The end of Wuhan's lockdown means the Chinese authorities' strict imposition of restrictions is paying off.

Options :

- 1. ✘ CBAD
- 2. ✘ CDBA
- 3. ✔ CADB
- 4. ✘ CABD

Question Number : 136 Question Id : 59445932552 Question Type : MCQ Option Shuffling : Yes Is Question Mandatory : No Option Orientation : Vertical

Correct Marks : 1 Wrong Marks : 0.25

Arrange the jumbled sentences to make a meaningful paragraph.

- A. The measure was taken after only three new cases of Covid-19 were reported in the city.
- B. It also means there is hope for other countries trying to control the pandemic through their own curbs.

- C. The city of Wuhan where the coronavirus first emerged ended its 76 day lockdown yesterday.
D. The end of Wuhan's lockdown means the Chinese authorities' strict imposition of restrictions is paying off.

Options :

1. ✘ CBAD
2. ✘ CDBA
3. ✔ CADB
4. ✘ CABD

Question Number : 137 Question Id : 59445932553 Question Type : MCQ Option Shuffling : Yes Is Question Mandatory : No Option Orientation : Vertical

Correct Marks : 1 Wrong Marks : 0.25

Arrange the jumbled sentences to make a meaningful paragraph.

- A. When you look at the behaviour, do your emotions get filled with anger, criticism or confusion?
- B. Their actions may be wrong, but we decide that they are bad persons.
- C. Hence we are quick to judge them, based on one or two of their behaviours.
- D. Almost every day, we see people behaving in ways that go against our beliefs.

Options :

1. ✘ DABC
2. ✘ DBCA
3. ✘ DCAB
4. ✔ DCBA

Question Number : 137 Question Id : 59445932553 Question Type : MCQ Option Shuffling : Yes Is Question Mandatory : No Option Orientation : Vertical

Correct Marks : 1 Wrong Marks : 0.25

Arrange the jumbled sentences to make a meaningful paragraph.

- A. When you look at the behaviour, do your emotions get filled with anger, criticism or confusion?
- B. Their actions may be wrong, but we decide that they are bad persons.
- C. Hence we are quick to judge them, based on one or two of their behaviours.
- D. Almost every day, we see people behaving in ways that go against our beliefs.

Options :

1. ✘ DABC

2. ✘ DBCA
3. ✘ DCAB
4. ✔ DCBA

Question Number : 138 Question Id : 59445932554 Question Type : MCQ Option Shuffling : Yes Is Question Mandatory : No Option Orientation : Vertical

Correct Marks : 1 Wrong Marks : 0.25

Select the correct pair of homophones to fill in the blanks.

The pastor called those needing prayer to come to kneel at the church's _____.

The man who is constantly making decisions and being compelled to _____ those gets nowhere.

Options :

1. ✔ altar; alter
2. ✘ altar; altar
3. ✘ alter; alter
4. ✘ alter, altar

Question Number : 138 Question Id : 59445932554 Question Type : MCQ Option Shuffling : Yes Is Question Mandatory : No Option Orientation : Vertical

Correct Marks : 1 Wrong Marks : 0.25

Select the correct pair of homophones to fill in the blanks.

The pastor called those needing prayer to come to kneel at the church's _____.

The man who is constantly making decisions and being compelled to _____ those gets nowhere.

Options :

1. ✔ altar; alter
2. ✘ altar; altar
3. ✘ alter; alter
4. ✘ alter, altar

Question Number : 139 Question Id : 59445932555 Question Type : MCQ Option Shuffling : Yes Is Question Mandatory : No Option Orientation : Vertical

Correct Marks : 1 Wrong Marks : 0.25

Select the correct pair of homophones to fill in the blanks.

The sound track gives us the _____ before the visual cue; it is as if the thunder arrives before the lightning.

It focuses on _____ communication rather than written communication, which is vital in communities where there are many people who are not literate.

Options :

1. ✘ aural; aural
2. ✔ aural; oral
3. ✘ oral; oral
4. ✘ oral; aural

Question Number : 139 Question Id : 59445932555 Question Type : MCQ Option Shuffling : Yes Is Question Mandatory : No Option Orientation : Vertical

Correct Marks : 1 Wrong Marks : 0.25

Select the correct pair of homophones to fill in the blanks.

The sound track gives us the _____ before the visual cue; it is as if the thunder arrives before the lightning.

It focuses on _____ communication rather than written communication, which is vital in communities where there are many people who are not literate.

Options :

1. ✘ aural; aural
2. ✔ aural; oral
3. ✘ oral; oral
4. ✘ oral; aural

Question Number : 140 Question Id : 59445932556 Question Type : MCQ Option Shuffling : Yes Is Question Mandatory : No Option Orientation : Vertical

Correct Marks : 1 Wrong Marks : 0.25

Select the correct pair of homophones to fill in the blanks.

Since the stock market started to falter, more and more people have been having a go at becoming property _____.

An elephant, tired after searching for water, lies in writhing pain on a _____ land.

Options :

1. ✘ baron; baron
2. ✘ barren, baron
3. ✔ baron; barren
4. ✘ barren; barren

Question Number : 140 Question Id : 59445932556 Question Type : MCQ Option Shuffling : Yes Is Question Mandatory : No Option Orientation : Vertical

Correct Marks : 1 Wrong Marks : 0.25

Select the correct pair of homophones to fill in the blanks.

Since the stock market started to falter, more and more people have been having a go at becoming property _____.

An elephant, tired after searching for water, lies in writhing pain on a _____ land.

Options :

1. ✘ baron; baron
2. ✘ barren, baron
3. ✔ baron; barren
4. ✘ barren; barren

General English2

Group Number :	8
Group Id :	594459423
Group Maximum Duration :	0
Group Minimum Duration :	0
Show Attended Group? :	No
Edit Attended Group? :	No
Break time :	0
Group Marks :	20
Is this Group for Examiner? :	No

English Language & Comprehension2

Section Id :	5944591145
Section Number :	1
Section type :	Online
Mandatory or Optional :	Mandatory
Number of Questions :	16
Number of Questions to be attempted :	16
Section Marks :	20
Enable Mark as Answered Mark for Review and Clear Response :	Yes
Sub-Section Number :	1
Sub-Section Id :	5944591312
Question Shuffling Allowed :	Yes

Question Number : 141 Question Id : 59445932557 Question Type : MCQ Option Shuffling : Yes Is Question Mandatory : No Option Orientation : Vertical

Correct Marks : 1 Wrong Marks : 0.25

Select the most appropriate antonym of the given word.

Frigid

Options :

1. ✘ Hawkish
2. ✘ Dwindle
3. ✘ Subside
4. ✔ Tropical

Question Number : 141 Question Id : 59445932557 Question Type : MCQ Option Shuffling : Yes Is Question Mandatory : No Option Orientation : Vertical

Correct Marks : 1 Wrong Marks : 0.25

Select the most appropriate antonym of the given word.

Frigid

Options :

1. ✘ Hawkish
2. ✘ Dwindle
3. ✘ Subside
4. ✔ Tropical

Question Number : 142 Question Id : 59445932558 Question Type : MCQ Option Shuffling : Yes Is Question Mandatory : No Option Orientation : Vertical

Correct Marks : 1 Wrong Marks : 0.25

Select the most appropriate antonym of the given word.

Constrict

Options :

1. ✔ Dilate
2. ✘ Downturn
3. ✘ Diminish
4. ✘ Downsize

Question Number : 142 Question Id : 59445932558 Question Type : MCQ Option Shuffling : Yes Is Question Mandatory : No Option Orientation : Vertical

Correct Marks : 1 Wrong Marks : 0.25

Select the most appropriate antonym of the given word.

Constrict

Options :

1. ✔ Dilate
2. ✘ Downturn
3. ✘ Diminish
4. ✘ Downsize

Question Number : 143 Question Id : 59445932559 Question Type : MCQ Option Shuffling : Yes Is Question Mandatory : No Option Orientation : Vertical

Correct Marks : 1 Wrong Marks : 0.25

Select the incorrectly spelt word.

Options :

1. ✘ Remarkable
2. ✔ Recruitmant
3. ✘ Demonstrate
4. ✘ Significance

Question Number : 143 Question Id : 59445932559 Question Type : MCQ Option Shuffling : Yes Is Question Mandatory : No Option Orientation : Vertical

Correct Marks : 1 Wrong Marks : 0.25

Select the incorrectly spelt word.

Options :

1. ✘ Remarkable
2. ✔ Recruitmant
3. ✘ Demonstrate
4. ✘ Significance

Question Number : 144 Question Id : 59445932560 Question Type : MCQ Option Shuffling : Yes Is Question Mandatory : No Option Orientation : Vertical

Correct Marks : 1 Wrong Marks : 0.25

Select the incorrectly spelt word.

Options :

1. ✘ Harmonious
2. ✘ Revolution
3. ✔ Hereditary
4. ✘ Supernatural

Question Number : 144 Question Id : 59445932560 Question Type : MCQ Option Shuffling : Yes Is Question Mandatory : No Option Orientation : Vertical

Correct Marks : 1 Wrong Marks : 0.25

Select the incorrectly spelt word.

Options :

1. ✘ Harmonious
2. ✘ Revolution
3. ✔ Hereditary
4. ✘ Supernatural

Question Number : 145 Question Id : 59445932561 Question Type : MCQ Option Shuffling : Yes Is Question Mandatory : No Option Orientation : Vertical

Correct Marks : 1 Wrong Marks : 0.25

Select the incorrectly spelt word.

Options :

1. ✘ Chronicles
2. ✘ Monumental
3. ✘ Sagacious
4. ✔ Abbreviate

Question Number : 145 Question Id : 59445932561 Question Type : MCQ Option Shuffling : Yes Is Question Mandatory : No Option Orientation : Vertical

Correct Marks : 1 Wrong Marks : 0.25

Select the incorrectly spelt word.

Options :

1. ✘ Chronicles
2. ✘ Monumental
3. ✘ Sagacious
4. ✔ Abbreviate

Question Number : 146 Question Id : 59445932562 Question Type : MCQ Option Shuffling : Yes Is Question Mandatory : No Option Orientation : Vertical

Correct Marks : 1 Wrong Marks : 0.25

Select the incorrectly spelt word.

Options :

1. ✔ Enumerate
2. ✘ Synchronize

3. ✘ Computation

4. ✘ Characterize

Question Number : 146 Question Id : 59445932562 Question Type : MCQ Option Shuffling : Yes Is Question Mandatory : No Option Orientation : Vertical

Correct Marks : 1 Wrong Marks : 0.25

Select the incorrectly spelt word.

Options :

1. ✔ Ennumerate

2. ✘ Synchronize

3. ✘ Computation

4. ✘ Characterize

Question Number : 147 Question Id : 59445932563 Question Type : MCQ Option Shuffling : Yes Is Question Mandatory : No Option Orientation : Vertical

Correct Marks : 1 Wrong Marks : 0.25

Select the most appropriate meaning of the underlined idiom in the given sentence.

Let's form an ad hoc committee to make some recommendations to the board.

Options :

1. ✘ Prepared in advance

2. ✔ For the special purpose

3. ✘ Decided by the members

4. ✘ Without due consideration

Question Number : 147 Question Id : 59445932563 Question Type : MCQ Option Shuffling : Yes Is Question Mandatory : No Option Orientation : Vertical

Correct Marks : 1 Wrong Marks : 0.25

Select the most appropriate meaning of the underlined idiom in the given sentence.

Let's form an ad hoc committee to make some recommendations to the board.

Options :

1. ✘ Prepared in advance

2. ✓ For the special purpose
3. ✗ Decided by the members
4. ✗ Without due consideration

Question Number : 148 Question Id : 59445932564 Question Type : MCQ Option Shuffling : Yes Is Question Mandatory : No Option Orientation : Vertical

Correct Marks : 1 Wrong Marks : 0.25

Select the most appropriate meaning of the underlined idiom in the given sentence.

I avoid the hustle and bustle of malls and shopping centers whenever I can.

Options :

1. ✗ Quick and happening
2. ✗ Need for being fashionable
3. ✓ Busy and excited activity
4. ✗ Being spacious and comfortable

Question Number : 148 Question Id : 59445932564 Question Type : MCQ Option Shuffling : Yes Is Question Mandatory : No Option Orientation : Vertical

Correct Marks : 1 Wrong Marks : 0.25

Select the most appropriate meaning of the underlined idiom in the given sentence.

I avoid the hustle and bustle of malls and shopping centers whenever I can.

Options :

1. ✗ Quick and happening
2. ✗ Need for being fashionable
3. ✓ Busy and excited activity
4. ✗ Being spacious and comfortable

Question Number : 149 Question Id : 59445932565 Question Type : MCQ Option Shuffling : Yes Is Question Mandatory : No Option Orientation : Vertical

Correct Marks : 1 Wrong Marks : 0.25

Select the most appropriate meaning of the underlined idiom in the given sentence.

Can we stop for a minute? I need to catch my breath—I can't run as fast as you guys!

Options :

1. ✘ To slow down
2. ✘ To rest for sometime
3. ✘ To cough irregularly
4. ✔ To resume breathing normally

Question Number : 149 Question Id : 59445932565 Question Type : MCQ Option Shuffling : Yes Is Question Mandatory : No Option Orientation : Vertical

Correct Marks : 1 Wrong Marks : 0.25

Select the most appropriate meaning of the underlined idiom in the given sentence.

Can we stop for a minute? I need to catch my breath—I can't run as fast as you guys!

Options :

1. ✘ To slow down
2. ✘ To rest for sometime
3. ✘ To cough irregularly
4. ✔ To resume breathing normally

Question Number : 150 Question Id : 59445932566 Question Type : MCQ Option Shuffling : Yes Is Question Mandatory : No Option Orientation : Vertical

Correct Marks : 1 Wrong Marks : 0.25

Select the most appropriate meaning of the given idiom.

Like a cat on hot bricks

Options :

1. ✔ To be anxious
2. ✘ To be secretive
3. ✘ To walk slowly
4. ✘ Looking for food

Question Number : 150 Question Id : 59445932566 Question Type : MCQ Option Shuffling : Yes Is Question Mandatory : No Option Orientation : Vertical

Correct Marks : 1 Wrong Marks : 0.25

Select the most appropriate meaning of the given idiom.

Like a cat on hot bricks

Options :

1. ✓ To be anxious
2. ✗ To be secretive
3. ✗ To walk slowly
4. ✗ Looking for food

Question Number : 151 Question Id : 59445932567 Question Type : MCQ Option Shuffling : Yes Is Question Mandatory : No Option Orientation : Vertical

Correct Marks : 1 Wrong Marks : 0.25

Select the most appropriate meaning of the given idiom.

Raise one's hackles

Options :

1. ✗ To raise one's concern
2. ✓ To greatly irritate
3. ✗ To be moody
4. ✗ To be promoted

Question Number : 151 Question Id : 59445932567 Question Type : MCQ Option Shuffling : Yes Is Question Mandatory : No Option Orientation : Vertical

Correct Marks : 1 Wrong Marks : 0.25

Select the most appropriate meaning of the given idiom.

Raise one's hackles

Options :

1. ✗ To raise one's concern
2. ✓ To greatly irritate
3. ✗ To be moody
4. ✗ To be promoted

Question Number : 152 Question Id : 59445932568 Question Type : MCQ Option Shuffling : Yes Is Question Mandatory : No Option Orientation : Vertical

Correct Marks : 1 Wrong Marks : 0.25

Select the word which means the same as the group of words given.

A written statement confirmed by oath or affirmation, for use as evidence in court.

Options :

1. ✘ Doctrine
2. ✘ Sermon
3. ✔ Affidavit
4. ✘ Discourse

Question Number : 152 Question Id : 59445932568 Question Type : MCQ Option Shuffling : Yes Is Question Mandatory : No Option Orientation : Vertical

Correct Marks : 1 Wrong Marks : 0.25

Select the word which means the same as the group of words given.

A written statement confirmed by oath or affirmation, for use as evidence in court.

Options :

1. ✘ Doctrine
2. ✘ Sermon
3. ✔ Affidavit
4. ✘ Discourse

Question Number : 153 Question Id : 59445932569 Question Type : MCQ Option Shuffling : Yes Is Question Mandatory : No Option Orientation : Vertical

Correct Marks : 1 Wrong Marks : 0.25

Select the word which means the same as the group of words given.

A large group of people or things of a particular kind.

Options :

1. ✘ Archery

2. ✘ Flight
3. ✘ Troupe
4. ✔ Bevy

Question Number : 153 Question Id : 59445932569 Question Type : MCQ Option Shuffling : Yes Is Question Mandatory : No Option Orientation : Vertical

Correct Marks : 1 Wrong Marks : 0.25

Select the word which means the same as the group of words given.

A large group of people or things of a particular kind.

Options :

1. ✘ Archery
2. ✘ Flight
3. ✘ Troupe
4. ✔ Bevy

Question Number : 154 Question Id : 59445932570 Question Type : MCQ Option Shuffling : Yes Is Question Mandatory : No Option Orientation : Vertical

Correct Marks : 1 Wrong Marks : 0.25

Select the word which means the same as the group of words given.

Having or showing too great a readiness to believe things.

Options :

1. ✔ Credulous
2. ✘ Greenhorn
3. ✘ Susceptible
4. ✘ Skeptical

Question Number : 154 Question Id : 59445932570 Question Type : MCQ Option Shuffling : Yes Is Question Mandatory : No Option Orientation : Vertical

Correct Marks : 1 Wrong Marks : 0.25

Select the word which means the same as the group of words given.

Having or showing too great a readiness to believe things.

Options :

1. ✓ **Credulous**
2. ✗ **Greenhorn**
3. ✗ **Susceptible**
4. ✗ **Skeptical**

Question Number : 155 Question Id : 59445932571 Question Type : MCQ Option Shuffling : Yes Is Question Mandatory : No Option Orientation : Vertical

Correct Marks : 1 Wrong Marks : 0.25

Select the word which means the same as the group of words given.

The study of statistics such as births, deaths, income, or the incidence of disease, which illustrate the changing structure of human populations.

Options :

1. ✗ **Anthropology**
2. ✓ **Demography**
3. ✗ **Etymology**
4. ✗ **Demonology**

Question Number : 155 Question Id : 59445932571 Question Type : MCQ Option Shuffling : Yes Is Question Mandatory : No Option Orientation : Vertical

Correct Marks : 1 Wrong Marks : 0.25

Select the word which means the same as the group of words given.

The study of statistics such as births, deaths, income, or the incidence of disease, which illustrate the changing structure of human populations.

Options :

1. ✗ **Anthropology**
2. ✓ **Demography**
3. ✗ **Etymology**
4. ✗ **Demonology**

Sub-Section Number :

2

Sub-Section Id :

5944591313

Question Shuffling Allowed :

Yes

Question Id : 59445932572 Question Type : COMPREHENSION Sub Question Shuffling Allowed : Yes Group Comprehension Questions : No

Question Numbers : (156 to 160)

Read the passage carefully and select the best answer to each question out of the given four alternatives.

The Silk Road was a network of trade routes which connected the East and West, and was central to the economic, cultural, political, and religious interactions between these regions from the 2nd century BCE to the 18th century. The Silk Road primarily refers to the land routes connecting East Asia and Southeast Asia with South Asia, Persia, the Arabian Peninsula, East Africa and Southern Europe. The Silk Road derives its name from the lucrative trade in silk carried out along its length, beginning in the Han dynasty in China.

The Silk Road trade played a significant role in the development of the civilizations of China, Korea, Japan, the Indian subcontinent, Iran, Europe, the Horn of Africa and Arabia, opening long-distance political and economic relations between the civilizations. Though silk was the major trade item exported from China, many other goods and ideas were exchanged, including religions (especially Buddhism), syncretic philosophies, sciences, and technologies like paper and gunpowder. So, in addition to economic trade, the Silk Road was a route for cultural trade among the civilizations along its network. Diseases, most notably plague, also spread along the Silk Road.

Some remnants of what was probably Chinese silk dating from 1070 BCE have been found in Ancient Egypt. The Great Oasis cities of Central Asia played a crucial role in the effective functioning of the Silk Road trade. The originating source seems sufficiently reliable, but silk degrades very rapidly, so it cannot be verified whether it was cultivated silk (which almost certainly came from China) or a type of wild silk, which might have come from the Mediterranean or Middle East. Archeological sites such as the Berel burial ground in Kazakhstan, confirmed that the nomadic Arimaspians were not only breeding horses for trade but also great craftsmen able to propagate exquisite art pieces along the Silk Road.

Sub questions

Question Number : 156 Question Id : 59445932573 Question Type : MCQ Option Shuffling : Yes Is Question Mandatory : No Option Orientation : Vertical

Correct Marks : 1 Wrong Marks : 0.25

Many things were exported and exchanged in the regions through the Silk Road. Which of the following is true?

Options :

1. ✘ Religion, gunpowder, paper
2. ✘ Sciences and philosophies, diseases
3. ✔ Religion, gunpowder, paper and Sciences and philosophies, diseases.
4. ✘ Only goods and trades not ideas

Question Number : 157 Question Id : 59445932574 Question Type : MCQ Option Shuffling : Yes Is Question Mandatory : No Option Orientation : Vertical

Correct Marks : 1 Wrong Marks : 0.25

The passage talks about wild silk. Where did it come from according to the passage?

Options :

1. ✓ Middle East
2. ✗ Southern Europe
3. ✗ Horn of Africa
4. ✗ Ancient Egypt

Question Number : 158 Question Id : 59445932575 Question Type : MCQ Option Shuffling : Yes Is Question Mandatory : No Option Orientation : Vertical

Correct Marks : 1 Wrong Marks : 0.25

The Great Oasis cities played a crucial role in the effective functioning of the Silk Road trade. Where did these cities lie?

Options :

1. ✗ Southern Europe
2. ✗ Central Europe
3. ✓ Central Asia
4. ✗ East Africa

Question Number : 159 Question Id : 59445932576 Question Type : MCQ Option Shuffling : Yes Is Question Mandatory : No Option Orientation : Vertical

Correct Marks : 1 Wrong Marks : 0.25

The Silk Road played a significant role in the development of some countries or regions. Which country or region was not involved in that development?

Options :

1. ✓ Colombia
2. ✗ Korea
3. ✗ Iran
4. ✗ Japan

Question Number : 160 Question Id : 59445932577 Question Type : MCQ Option Shuffling : Yes Is Question Mandatory : No Option Orientation : Vertical

Correct Marks : 1 Wrong Marks : 0.25

According to the passage, The Silk Road primarily refers to the land routes connecting to one another. Which routes were not linked by it?

Options :

1. ✘ East Asia with South Asia
2. ✘ East Asia with Persia
3. ✔ South America and South Africa
4. ✘ East Asia with Southern Europe

Question Id : 59445932572 Question Type : COMPREHENSION Sub Question Shuffling Allowed : Yes Group Comprehension Questions : No

Question Numbers : (156 to 160)

Read the passage carefully and select the best answer to each question out of the given four alternatives.

The Silk Road was a network of trade routes which connected the East and West, and was central to the economic, cultural, political, and religious interactions between these regions from the 2nd century BCE to the 18th century. The Silk Road primarily refers to the land routes connecting East Asia and Southeast Asia with South Asia, Persia, the Arabian Peninsula, East Africa and Southern Europe. The Silk Road derives its name from the lucrative trade in silk carried out along its length, beginning in the Han dynasty in China.

The Silk Road trade played a significant role in the development of the civilizations of China, Korea, Japan, the Indian subcontinent, Iran, Europe, the Horn of Africa and Arabia, opening long-distance political and economic relations between the civilizations. Though silk was the major trade item exported from China, many other goods and ideas were exchanged, including religions (especially Buddhism), syncretic philosophies, sciences, and technologies like paper and gunpowder. So, in addition to economic trade, the Silk Road was a route for cultural trade among the civilizations along its network. Diseases, most notably plague, also spread along the Silk Road.

Some remnants of what was probably Chinese silk dating from 1070 BCE have been found in Ancient Egypt. The Great Oasis cities of Central Asia played a crucial role in the effective functioning of the Silk Road trade. The originating source seems sufficiently reliable, but silk degrades very rapidly, so it cannot be verified whether it was cultivated silk (which almost certainly came from China) or a type of wild silk, which might have come from the Mediterranean or Middle East. Archeological sites such as the Berel burial ground in Kazakhstan, confirmed that the nomadic Arimaspians were not only breeding horses for trade but also great craftsmen able to propagate exquisite art pieces along the Silk Road.

Sub questions

Question Number : 156 Question Id : 59445932573 Question Type : MCQ Option Shuffling : Yes Is Question Mandatory : No Option Orientation : Vertical

Correct Marks : 1 Wrong Marks : 0.25

Many things were exported and exchanged in the regions through the Silk Road. Which of the following is true?

Options :

1. ✘ Religion, gunpowder, paper
2. ✘ Sciences and philosophies, diseases

3. ✓ Religion, gunpowder, paper and Sciences and philosophies, diseases.

4. ✗ Only goods and trades not ideas

Question Number : 157 Question Id : 59445932574 Question Type : MCQ Option Shuffling : Yes Is Question Mandatory : No Option Orientation : Vertical

Correct Marks : 1 Wrong Marks : 0.25

The passage talks about wild silk. Where did it come from according to the passage?

Options :

1. ✓ Middle East

2. ✗ Southern Europe

3. ✗ Horn of Africa

4. ✗ Ancient Egypt

Question Number : 158 Question Id : 59445932575 Question Type : MCQ Option Shuffling : Yes Is Question Mandatory : No Option Orientation : Vertical

Correct Marks : 1 Wrong Marks : 0.25

The Great Oasis cities played a crucial role in the effective functioning of the Silk Road trade. Where did these cities lie?

Options :

1. ✗ Southern Europe

2. ✗ Central Europe

3. ✓ Central Asia

4. ✗ East Africa

Question Number : 159 Question Id : 59445932576 Question Type : MCQ Option Shuffling : Yes Is Question Mandatory : No Option Orientation : Vertical

Correct Marks : 1 Wrong Marks : 0.25

The Silk Road played a significant role in the development of some countries or regions. Which country or region was not involved in that development?

Options :

1. ✓ Colombia

2. ✗ Korea

3. ✗ Iran

4. ✗ Japan

Question Number : 160 Question Id : 59445932577 Question Type : MCQ Option Shuffling : Yes Is Question Mandatory : No Option Orientation : Vertical

Correct Marks : 1 Wrong Marks : 0.25

According to the passage, The Silk Road primarily refers to the land routes connecting to one another. Which routes were not linked by it?

Options :

1. ✘ East Asia with South Asia
2. ✘ East Asia with Persia
3. ✔ South America and South Africa
4. ✘ East Asia with Southern Europe

General Hindi1

Group Number :	9
Group Id :	594459424
Group Maximum Duration :	0
Group Minimum Duration :	0
Show Attended Group? :	No
Edit Attended Group? :	No
Break time :	0
Group Marks :	20
Is this Group for Examiner? :	No

Hindi Language & Comprehension1

Section Id :	5944591146
Section Number :	1
Section type :	Online
Mandatory or Optional :	Mandatory
Number of Questions :	20
Number of Questions to be attempted :	20
Section Marks :	20

Enable Mark as Answered Mark for Review and Clear Response : Yes
Sub-Section Number : 1
Sub-Section Id : 5944591314
Question Shuffling Allowed : Yes

Question Number : 161 Question Id : 59445932578 Question Type : MCQ Option Shuffling : Yes Is Question Mandatory : No Option Orientation : Vertical

Correct Marks : 1 Wrong Marks : 0.25

निम्नलिखित में से किस शब्द में उपसर्ग का प्रयोग किया गया है?

Options :

1. ✘ अपनापन
2. ✔ उपकार
3. ✘ सुंदरता
4. ✘ बुढ़ापा

Question Number : 161 Question Id : 59445932578 Question Type : MCQ Option Shuffling : Yes Is Question Mandatory : No Option Orientation : Vertical

Correct Marks : 1 Wrong Marks : 0.25

निम्नलिखित में से किस शब्द में उपसर्ग का प्रयोग किया गया है?

Options :

1. ✘ अपनापन
2. ✔ उपकार
3. ✘ सुंदरता
4. ✘ बुढ़ापा

Question Number : 162 Question Id : 59445932579 Question Type : MCQ Option Shuffling : Yes Is Question Mandatory : No Option Orientation : Vertical

Correct Marks : 1 Wrong Marks : 0.25

निम्नलिखित में से दिए गए शब्द के प्रकार का चयन कीजिए-

"सुवरन"

Options :

1. ✘ विदेशज
2. ✘ अर्धतत्सम
3. ✔ तद्भव
4. ✘ तत्सम

Question Number : 162 Question Id : 59445932579 Question Type : MCQ Option Shuffling : Yes Is Question Mandatory : No Option Orientation : Vertical

Correct Marks : 1 Wrong Marks : 0.25

निम्नलिखित में से दिए गए शब्द के प्रकार का चयन कीजिए-

"सुवरन"

Options :

1. ✘ विदेशज
2. ✘ अर्धतत्सम
3. ✔ तद्भव
4. ✘ तत्सम

Question Number : 163 Question Id : 59445932580 Question Type : MCQ Option Shuffling : Yes Is Question Mandatory : No Option Orientation : Vertical

Correct Marks : 1 Wrong Marks : 0.25

"वकील" निम्नलिखित में से किस भाषा का शब्द है?

Options :

1. ✘ फारसी
2. ✘ अंग्रेजी
3. ✘ तुर्की
4. ✔ अरबी

Question Number : 163 Question Id : 59445932580 Question Type : MCQ Option Shuffling : Yes Is Question Mandatory : No Option Orientation : Vertical

Correct Marks : 1 Wrong Marks : 0.25

"वकील" निम्नलिखित में से किस भाषा का शब्द है?

Options :

1. ✘ फारसी
2. ✘ अंग्रेजी
3. ✘ तुर्की
4. ✔ अरबी

Question Number : 164 Question Id : 59445932581 Question Type : MCQ Option Shuffling : Yes Is Question Mandatory : No Option Orientation : Vertical

Correct Marks : 1 Wrong Marks : 0.25

निम्नलिखित में से "आमरण" शब्द में कौन-सा समास है?

Options :

1. ✔ अव्ययीभाव समास
2. ✘ द्विगु समास
3. ✘ तत्पुरुष समास
4. ✘ द्वंद्व समास

Question Number : 164 Question Id : 59445932581 Question Type : MCQ Option Shuffling : Yes Is Question Mandatory : No Option Orientation : Vertical

Correct Marks : 1 Wrong Marks : 0.25

निम्नलिखित में से "आमरण" शब्द में कौन-सा समास है?

Options :

1. ✔ अव्ययीभाव समास
2. ✘ द्विगु समास
3. ✘ तत्पुरुष समास
4. ✘ द्वंद्व समास

Question Number : 165 Question Id : 59445932582 Question Type : MCQ Option Shuffling : Yes Is Question Mandatory : No Option Orientation : Vertical

Correct Marks : 1 Wrong Marks : 0.25

निम्नलिखित में से उपर्युक्त विकल्प का चयन कीजिए-

किसी कार्य का करने या होने का बोध कराने वाले शब्द _____ कहलाते हैं।

Options :

1. ✘ विशेषण
2. ✘ काल
3. ✘ संख्या
4. ✔ क्रिया

Question Number : 165 Question Id : 59445932582 Question Type : MCQ Option Shuffling : Yes Is Question Mandatory : No Option Orientation : Vertical

Correct Marks : 1 Wrong Marks : 0.25

निम्नलिखित में से उपर्युक्त विकल्प का चयन कीजिए-

किसी कार्य का करने या होने का बोध कराने वाले शब्द _____ कहलाते हैं।

Options :

1. ✘ विशेषण
2. ✘ काल
3. ✘ संख्या
4. ✔ क्रिया

Question Number : 166 Question Id : 59445932583 Question Type : MCQ Option Shuffling : Yes Is Question Mandatory : No Option Orientation : Vertical

Correct Marks : 1 Wrong Marks : 0.25

निम्नलिखित में से "दिग्गज" शब्द में कौन-सी संधि है?

Options :

1. ✘ अयादि संधि
2. ✘ यण संधि
3. ✔ व्यंजन संधि
4. ✘ विसर्ग संधि

Question Number : 166 Question Id : 59445932583 Question Type : MCQ Option Shuffling : Yes Is Question Mandatory : No Option Orientation : Vertical

Correct Marks : 1 Wrong Marks : 0.25

निम्नलिखित में से "दिग्गज" शब्द में कौन-सी संधि है?

Options :

1. ✘ अयादि संधि
2. ✘ यण संधि
3. ✔ व्यंजन संधि
4. ✘ विसर्ग संधि

Question Number : 167 Question Id : 59445932584 Question Type : MCQ Option Shuffling : Yes Is Question Mandatory : No Option Orientation : Vertical

Correct Marks : 1 Wrong Marks : 0.25

निम्नलिखित में से कौन-सा शब्द विशेषण नहीं है?

Options :

1. ✔ तुम
2. ✘ शांत
3. ✘ काला
4. ✘ आगामी

Question Number : 167 Question Id : 59445932584 Question Type : MCQ Option Shuffling : Yes Is Question Mandatory : No Option Orientation : Vertical

Correct Marks : 1 Wrong Marks : 0.25

निम्नलिखित में से कौन-सा शब्द विशेषण नहीं है?

Options :

1. ✔ तुम
2. ✘ शांत
3. ✘ काला
4. ✘ आगामी

Question Number : 168 Question Id : 59445932585 Question Type : MCQ Option Shuffling : Yes Is Question Mandatory : No Option Orientation : Vertical

Correct Marks : 1 Wrong Marks : 0.25

निम्नलिखित में से शब्द के शुद्ध रूप का चयन कीजिए-

Options :

1. ✘ जिजिविषा
2. ✔ जिजीविषा
3. ✘ जीजीविषा
4. ✘ जीजिविषा

Question Number : 168 Question Id : 59445932585 Question Type : MCQ Option Shuffling : Yes Is Question Mandatory : No Option Orientation : Vertical

Correct Marks : 1 Wrong Marks : 0.25

निम्नलिखित में से शब्द के शुद्ध रूप का चयन कीजिए-

Options :

1. ✘ जिजिविषा
2. ✔ जिजीविषा
3. ✘ जीजीविषा
4. ✘ जीजिविषा

Question Number : 169 Question Id : 59445932586 Question Type : MCQ Option Shuffling : Yes Is Question Mandatory : No Option Orientation : Vertical

Correct Marks : 1 Wrong Marks : 0.25

निम्नलिखित में से शुद्ध वर्तनी वाले शब्द का चयन कीजिए-

Options :

1. ✘ गृहणी
2. ✘ ग्रहिणी
3. ✘ ग्रहणी
4. ✔ गृहिणी

Question Number : 169 Question Id : 59445932586 Question Type : MCQ Option Shuffling : Yes Is Question Mandatory : No Option Orientation : Vertical

Correct Marks : 1 Wrong Marks : 0.25

निम्नलिखित में से शुद्ध वर्तनी वाले शब्द का चयन कीजिए-

Options :

1. ✖ गृहणी
2. ✖ ग्रहिणी
3. ✖ ग्रहणी
4. ✔ गृहिणी

Question Number : 170 Question Id : 59445932587 Question Type : MCQ Option Shuffling : Yes Is Question Mandatory : No Option Orientation : Vertical

Correct Marks : 1 Wrong Marks : 0.25

निम्नलिखित में से दिए गए शब्द-युग्म के सही अर्थ-भेद का चयन कीजिए-

अभिहित - अविहित

Options :

1. ✖ अनुचित - कहा हुआ
2. ✖ आकार - खान
3. ✔ कहा हुआ - अनुचित
4. ✖ अनुचित - आस्तिक

Question Number : 170 Question Id : 59445932587 Question Type : MCQ Option Shuffling : Yes Is Question Mandatory : No Option Orientation : Vertical

Correct Marks : 1 Wrong Marks : 0.25

निम्नलिखित में से दिए गए शब्द-युग्म के सही अर्थ-भेद का चयन कीजिए-

अभिहित - अविहित

Options :

1. ✖ अनुचित - कहा हुआ
2. ✖ आकार - खान
3. ✔ कहा हुआ - अनुचित
4. ✖ अनुचित - आस्तिक

Question Number : 171 Question Id : 59445932588 Question Type : MCQ Option Shuffling : Yes Is Question Mandatory : No Option Orientation : Vertical

Correct Marks : 1 Wrong Marks : 0.25

निम्नलिखित में से "जागृति" का विलोम शब्द कौन-सा है?

Options :

1. ✓ सुषुप्ति
2. ✗ अजेय
3. ✗ जंगम
4. ✗ निर्वचन

Question Number : 171 Question Id : 59445932588 Question Type : MCQ Option Shuffling : Yes Is Question Mandatory : No Option Orientation : Vertical

Correct Marks : 1 Wrong Marks : 0.25

निम्नलिखित में से "जागृति" का विलोम शब्द कौन-सा है?

Options :

1. ✓ सुषुप्ति
2. ✗ अजेय
3. ✗ जंगम
4. ✗ निर्वचन

Question Number : 172 Question Id : 59445932589 Question Type : MCQ Option Shuffling : Yes Is Question Mandatory : No Option Orientation : Vertical

Correct Marks : 1 Wrong Marks : 0.25

निम्नलिखित में से असंगत/बेमेल शब्द का चयन कीजिए-

Options :

1. ✗ अनुप्रास अलंकार
2. ✗ श्लेष अलंकार
3. ✓ अर्थालंकार
4. ✗ यमक अलंकार

Question Number : 172 Question Id : 59445932589 Question Type : MCQ Option Shuffling : Yes Is Question Mandatory : No Option Orientation : Vertical

Correct Marks : 1 Wrong Marks : 0.25

निम्नलिखित में से असंगत/बेमेल शब्द का चयन कीजिए-

Options :

1. ✘ अनुप्रास अलंकार
2. ✘ श्लेष अलंकार
3. ✔ अर्थालंकार
4. ✘ यमक अलंकार

Question Number : 173 Question Id : 59445932590 Question Type : MCQ Option Shuffling : Yes Is Question Mandatory : No Option Orientation : Vertical

Correct Marks : 1 Wrong Marks : 0.25

निम्नलिखित में से दिए गए वाक्य के लिए एक शब्द का चयन कीजिए-

अन्न को पचाने वाली अग्नि _____

Options :

1. ✘ दावानल
2. ✘ बड़वाग्नि
3. ✘ धात्वाग्नि
4. ✔ जठराग्नि

Question Number : 173 Question Id : 59445932590 Question Type : MCQ Option Shuffling : Yes Is Question Mandatory : No Option Orientation : Vertical

Correct Marks : 1 Wrong Marks : 0.25

निम्नलिखित में से दिए गए वाक्य के लिए एक शब्द का चयन कीजिए-

अन्न को पचाने वाली अग्नि _____

Options :

1. ✘ दावानल
2. ✘ बड़वाग्नि
3. ✘ धात्वाग्नि
4. ✔ जठराग्नि

Question Number : 174 Question Id : 59445932591 Question Type : MCQ Option Shuffling : Yes Is Question Mandatory : No Option Orientation : Vertical

Correct Marks : 1 Wrong Marks : 0.25

निम्नलिखित में से कौन-सा शब्द "तरी" का पर्यायवाची नहीं है?

Options :

1. ✘ डोंगी
2. ✔ रति
3. ✘ पोत
4. ✘ नाव

Question Number : 174 Question Id : 59445932591 Question Type : MCQ Option Shuffling : Yes Is Question Mandatory : No Option Orientation : Vertical

Correct Marks : 1 Wrong Marks : 0.25

निम्नलिखित में से कौन-सा शब्द "तरी" का पर्यायवाची नहीं है?

Options :

1. ✘ डोंगी
2. ✔ रति
3. ✘ पोत
4. ✘ नाव

Question Number : 175 Question Id : 59445932592 Question Type : MCQ Option Shuffling : Yes Is Question Mandatory : No Option Orientation : Vertical

Correct Marks : 1 Wrong Marks : 0.25

निम्नलिखित में से अशुद्ध वर्तनी वाले शब्द का चयन कीजिए-

Options :

1. ✘ अनभिज्ञ
2. ✘ अष्टांगयोग
3. ✔ अंत्येष्टि
4. ✘ अवाम

Question Number : 175 Question Id : 59445932592 Question Type : MCQ Option Shuffling : Yes Is Question Mandatory : No Option

Orientation : Vertical

Correct Marks : 1 Wrong Marks : 0.25

निम्नलिखित में से अशुद्ध वर्तनी वाले शब्द का चयन कीजिए-

Options :

1. ✘ अनभिज्ञ
2. ✘ अष्टांगयोग
3. ✔ अंत्येष्टि
4. ✘ अवाम

Question Number : 176 Question Id : 59445932593 Question Type : MCQ Option Shuffling : Yes Is Question Mandatory : No Option Orientation : Vertical

Correct Marks : 1 Wrong Marks : 0.25

निम्नलिखित में से नीचे दिए गए वाक्य के लिए एक शब्द का चयन कीजिए-

ऐसी चन्द्रिका (या शोभा) जिसे देखने या समझने वाला कोई न हो।

Options :

1. ✔ अरण्य-चंद्रिका
2. ✘ चंद्रीका
3. ✘ अनुमोदनीय चंद्रण
4. ✘ अरम्ब चंद्रीका

Question Number : 176 Question Id : 59445932593 Question Type : MCQ Option Shuffling : Yes Is Question Mandatory : No Option Orientation : Vertical

Correct Marks : 1 Wrong Marks : 0.25

निम्नलिखित में से नीचे दिए गए वाक्य के लिए एक शब्द का चयन कीजिए-

ऐसी चन्द्रिका (या शोभा) जिसे देखने या समझने वाला कोई न हो।

Options :

1. ✔ अरण्य-चंद्रिका
2. ✘ चंद्रीका
3. ✘ अनुमोदनीय चंद्रण
4. ✘ अरम्ब चंद्रीका

Question Number : 177 Question Id : 59445932594 Question Type : MCQ Option Shuffling : Yes Is Question Mandatory : No Option Orientation : Vertical

Correct Marks : 1 Wrong Marks : 0.25

निम्नलिखित में से किस विकल्प में अपादान कारक की विभक्ति का प्रयोग किया गया है?

Options :

1. ✘ रीता फल खाती है।
2. ✔ बलराम पेड़ से गिरा।
3. ✘ गोपाल ने राधा को बुलाया।
4. ✘ राधिका सितार बजा रही है।

Question Number : 177 Question Id : 59445932594 Question Type : MCQ Option Shuffling : Yes Is Question Mandatory : No Option Orientation : Vertical

Correct Marks : 1 Wrong Marks : 0.25

निम्नलिखित में से किस विकल्प में अपादान कारक की विभक्ति का प्रयोग किया गया है?

Options :

1. ✘ रीता फल खाती है।
2. ✔ बलराम पेड़ से गिरा।
3. ✘ गोपाल ने राधा को बुलाया।
4. ✘ राधिका सितार बजा रही है।

Question Number : 178 Question Id : 59445932595 Question Type : MCQ Option Shuffling : Yes Is Question Mandatory : No Option Orientation : Vertical

Correct Marks : 1 Wrong Marks : 0.25

हिन्दी साहित्य का _____ 'स्वर्ण युग' के नाम से जाना जाता है।

Options :

1. ✘ आदिकाल
2. ✘ रीतिकाल
3. ✘ छायावाद
4. ✔ भक्तिकाल

Question Number : 178 Question Id : 59445932595 Question Type : MCQ Option Shuffling : Yes Is Question Mandatory : No Option Orientation : Vertical

Correct Marks : 1 Wrong Marks : 0.25

हिन्दी साहित्य का _____ 'स्वर्ण युग' के नाम से जाना जाता है।

Options :

1. ✘ आदिकाल
2. ✘ रीतिकाल
3. ✘ छायावाद
4. ✔ भक्तिकाल

Question Number : 179 Question Id : 59445932596 Question Type : MCQ Option Shuffling : Yes Is Question Mandatory : No Option Orientation : Vertical

Correct Marks : 1 Wrong Marks : 0.25

निम्नलिखित में से पुल्लिंग शब्द का चयन कीजिए-

Options :

1. ✘ खबर
2. ✔ सौभाग्य
3. ✘ खुशी
4. ✘ खुशकिस्मती

Question Number : 179 Question Id : 59445932596 Question Type : MCQ Option Shuffling : Yes Is Question Mandatory : No Option Orientation : Vertical

Correct Marks : 1 Wrong Marks : 0.25

निम्नलिखित में से पुल्लिंग शब्द का चयन कीजिए-

Options :

1. ✘ खबर
2. ✔ सौभाग्य
3. ✘ खुशी
4. ✘ खुशकिस्मती

Question Number : 180 Question Id : 59445932597 Question Type : MCQ Option Shuffling : Yes Is Question Mandatory : No Option

Orientation : Vertical

Correct Marks : 1 Wrong Marks : 0.25

निम्नलिखित में से वाक्य के प्रकार का चयन कीजिए-

वह इसीलिए बाजार गया क्योंकि उसे फल खरीदने थे।

Options :

1. ✘ संयुक्त वाक्य
2. ✘ विधिवाचक वाक्य
3. ✔ मिश्र वाक्य
4. ✘ सरल वाक्य

Question Number : 180 Question Id : 59445932597 Question Type : MCQ Option Shuffling : Yes Is Question Mandatory : No Option

Orientation : Vertical

Correct Marks : 1 Wrong Marks : 0.25

निम्नलिखित में से वाक्य के प्रकार का चयन कीजिए-

वह इसीलिए बाजार गया क्योंकि उसे फल खरीदने थे।

Options :

1. ✘ संयुक्त वाक्य
2. ✘ विधिवाचक वाक्य
3. ✔ मिश्र वाक्य
4. ✘ सरल वाक्य

General Hindi2

Group Number :	10
Group Id :	594459425
Group Maximum Duration :	0
Group Minimum Duration :	120
Show Attended Group? :	No
Edit Attended Group? :	No
Break time :	0

Group Marks : 20
Is this Group for Examiner? : No

Hindi Language & Comprehension2

Section Id : 5944591147
Section Number : 1
Section type : Online
Mandatory or Optional : Mandatory
Number of Questions : 16
Number of Questions to be attempted : 16
Section Marks : 20
Enable Mark as Answered Mark for Review and Clear Response : Yes
Sub-Section Number : 1
Sub-Section Id : 5944591315
Question Shuffling Allowed : Yes

Question Number : 181 Question Id : 59445932598 Question Type : MCQ Option Shuffling : Yes Is Question Mandatory : No Option Orientation : Vertical

Correct Marks : 1 Wrong Marks : 0.25

निम्नलिखित में से बहुवचन शब्द का चयन कीजिए-

Options :

1. ✘ तोता
2. ✘ गमला
3. ✘ केला
4. ✔ दर्शन

Question Number : 181 Question Id : 59445932598 Question Type : MCQ Option Shuffling : Yes Is Question Mandatory : No Option Orientation : Vertical

Correct Marks : 1 Wrong Marks : 0.25

निम्नलिखित में से बहुवचन शब्द का चयन कीजिए-

Options :

1. ✘ तोता
2. ✘ गमला
3. ✘ केला
4. ✔ दर्शन

Question Number : 182 Question Id : 59445932599 Question Type : MCQ Option Shuffling : Yes Is Question Mandatory : No Option Orientation : Vertical

Correct Marks : 1 Wrong Marks : 0.25

निम्नलिखित में से नीचे दिए गए वाक्य के प्रकार का चयन कीजिए-

बाहर जाना मना है।

Options :

1. ✘ विधानवाचक वाक्य
2. ✘ संदेहवाचक वाक्य
3. ✔ निषेधवाचक वाक्य
4. ✘ आज्ञावाचक वाक्य

Question Number : 182 Question Id : 59445932599 Question Type : MCQ Option Shuffling : Yes Is Question Mandatory : No Option Orientation : Vertical

Correct Marks : 1 Wrong Marks : 0.25

निम्नलिखित में से नीचे दिए गए वाक्य के प्रकार का चयन कीजिए-

बाहर जाना मना है।

Options :

1. ✘ विधानवाचक वाक्य
2. ✘ संदेहवाचक वाक्य
3. ✔ निषेधवाचक वाक्य
4. ✘ आज्ञावाचक वाक्य

Question Number : 183 Question Id : 59445932600 Question Type : MCQ Option Shuffling : Yes Is Question Mandatory : No Option Orientation : Vertical

Correct Marks : 1 Wrong Marks : 0.25

निम्नलिखित में से नीचे दिए गए वाक्य के वाच्य प्रकार का चयन कीजिए-

आरती ने पत्र लिखा।

Options :

1. ✘ कर्तृवाच्य
2. ✔ कर्मवाच्य
3. ✘ भाववाच्य
4. ✘ क्रियावाच्य

Question Number : 183 Question Id : 59445932600 Question Type : MCQ Option Shuffling : Yes Is Question Mandatory : No Option Orientation : Vertical

Correct Marks : 1 Wrong Marks : 0.25

निम्नलिखित में से नीचे दिए गए वाक्य के वाच्य प्रकार का चयन कीजिए-

आरती ने पत्र लिखा।

Options :

1. ✘ कर्तृवाच्य
2. ✔ कर्मवाच्य
3. ✘ भाववाच्य
4. ✘ क्रियावाच्य

Question Number : 184 Question Id : 59445932601 Question Type : MCQ Option Shuffling : Yes Is Question Mandatory : No Option Orientation : Vertical

Correct Marks : 1 Wrong Marks : 0.25

रचना के आधार पर वाक्य के तीन भेद होते हैं, निम्नलिखित में से उस विकल्प का चयन कीजिए, जो रचना के आधार पर वाक्य का भेद नहीं है?

Options :

1. ✔ विस्मयादिवाचक वाक्य
2. ✘ मिश्र वाक्य
3. ✘ संयुक्त वाक्य
4. ✘ सरल वाक्य

Question Number : 184 Question Id : 59445932601 Question Type : MCQ Option Shuffling : Yes Is Question Mandatory : No Option Orientation : Vertical

Correct Marks : 1 Wrong Marks : 0.25

रचना के आधार पर वाक्य के तीन भेद होते हैं, निम्नलिखित में से उस विकल्प का चयन कीजिए, जो रचना के आधार पर वाक्य का भेद नहीं है?

Options :

1. ✓ विस्मयादिवाचक वाक्य
2. ✗ मिश्र वाक्य
3. ✗ संयुक्त वाक्य
4. ✗ सरल वाक्य

Question Number : 185 Question Id : 59445932602 Question Type : MCQ Option Shuffling : Yes Is Question Mandatory : No Option Orientation : Vertical

Correct Marks : 1 Wrong Marks : 0.25

निम्नलिखित में से शुद्ध वर्तनी वाले वाक्य का चयन कीजिए-

Options :

1. ✗ जब उसको होश आई तो उसने अपने माता- पिता से बात करी।
2. ✗ मेरे बगीचे में एक सुन्दर चिड़िया आया है।
3. ✗ इस सलवार कमीज़ के साथ नीली दुपटा अच्छा लगेगा।
4. ✓ थोड़ी और चेष्टा करो।

Question Number : 185 Question Id : 59445932602 Question Type : MCQ Option Shuffling : Yes Is Question Mandatory : No Option Orientation : Vertical

Correct Marks : 1 Wrong Marks : 0.25

निम्नलिखित में से शुद्ध वर्तनी वाले वाक्य का चयन कीजिए-

Options :

1. ✗ जब उसको होश आई तो उसने अपने माता- पिता से बात करी।
2. ✗ मेरे बगीचे में एक सुन्दर चिड़िया आया है।
3. ✗ इस सलवार कमीज़ के साथ नीली दुपटा अच्छा लगेगा।
4. ✓ थोड़ी और चेष्टा करो।

Question Number : 186 Question Id : 59445932603 Question Type : MCQ Option Shuffling : Yes Is Question Mandatory : No Option

Orientation : Vertical

Correct Marks : 1 Wrong Marks : 0.25

निम्नलिखित में से मुहावरा "चिकने घड़े पर पानी पड़ना" का क्या अर्थ है?

Options :

1. ✘ अनुनय-विनय करना
2. ✘ बेमेल चीजों का योग
3. ✔ उपदेश का कोई प्रभाव न पड़ना
4. ✘ मदांध होना

Question Number : 186 Question Id : 59445932603 Question Type : MCQ Option Shuffling : Yes Is Question Mandatory : No Option

Orientation : Vertical

Correct Marks : 1 Wrong Marks : 0.25

निम्नलिखित में से मुहावरा "चिकने घड़े पर पानी पड़ना" का क्या अर्थ है?

Options :

1. ✘ अनुनय-विनय करना
2. ✘ बेमेल चीजों का योग
3. ✔ उपदेश का कोई प्रभाव न पड़ना
4. ✘ मदांध होना

Question Number : 187 Question Id : 59445932604 Question Type : MCQ Option Shuffling : Yes Is Question Mandatory : No Option

Orientation : Vertical

Correct Marks : 1 Wrong Marks : 0.25

निम्नलिखित में से किस मुहावरे का अर्थ "अनायास लाभ होना" है?

Options :

1. ✘ छाती दूनी होना
2. ✔ छींका टूटना
3. ✘ छः पाँच करना
4. ✘ जमीन आसमान एक करना

Question Number : 187 Question Id : 59445932604 Question Type : MCQ Option Shuffling : Yes Is Question Mandatory : No Option

Orientation : Vertical

Correct Marks : 1 Wrong Marks : 0.25

निम्नलिखित में से किस मुहावरे का अर्थ "अनायास लाभ होना" है?

Options :

1. ✘ छाती दूनी होना
2. ✔ छींका टूटना
3. ✘ छः पाँच करना
4. ✘ जमीन आसमान एक करना

Question Number : 188 Question Id : 59445932605 Question Type : MCQ Option Shuffling : Yes Is Question Mandatory : No Option Orientation : Vertical

Correct Marks : 1 Wrong Marks : 0.25

निम्नलिखित में से मुहावरा "जीती मक्खी निगलना" का क्या अर्थ है?

Options :

1. ✔ जान-बूझकर गलत काम करना
2. ✘ साहसी आदमी
3. ✘ जितना जी चाहे खाना
4. ✘ वीरता दिखाना

Question Number : 188 Question Id : 59445932605 Question Type : MCQ Option Shuffling : Yes Is Question Mandatory : No Option Orientation : Vertical

Correct Marks : 1 Wrong Marks : 0.25

निम्नलिखित में से मुहावरा "जीती मक्खी निगलना" का क्या अर्थ है?

Options :

1. ✔ जान-बूझकर गलत काम करना
2. ✘ साहसी आदमी
3. ✘ जितना जी चाहे खाना
4. ✘ वीरता दिखाना

Question Number : 189 Question Id : 59445932606 Question Type : MCQ Option Shuffling : Yes Is Question Mandatory : No Option Orientation : Vertical

Correct Marks : 1 Wrong Marks : 0.25

निम्नलिखित में से किस लोकोक्ति का अर्थ "नुकसान होते समय जो बच जाए वही लाभ है" हैं?

Options :

1. ✘ अकेला चना भाड़ नहीं फोड़ सकता
2. ✘ होनहार बिरवान के होत चीकने पात
3. ✔ आग लागते झोपड़ा, जो निकले सो लाभ
4. ✘ पानी में रहकर मगरमच्छ से बैर

Question Number : 189 Question Id : 59445932606 Question Type : MCQ Option Shuffling : Yes Is Question Mandatory : No Option Orientation : Vertical

Correct Marks : 1 Wrong Marks : 0.25

निम्नलिखित में से किस लोकोक्ति का अर्थ "नुकसान होते समय जो बच जाए वही लाभ है" हैं?

Options :

1. ✘ अकेला चना भाड़ नहीं फोड़ सकता
2. ✘ होनहार बिरवान के होत चीकने पात
3. ✔ आग लागते झोपड़ा, जो निकले सो लाभ
4. ✘ पानी में रहकर मगरमच्छ से बैर

Question Number : 190 Question Id : 59445932607 Question Type : MCQ Option Shuffling : Yes Is Question Mandatory : No Option Orientation : Vertical

Correct Marks : 1 Wrong Marks : 0.25

निम्नलिखित में से लोकोक्ति "चील के घोसले में माँस कहाँ" का क्या अर्थ है?

Options :

1. ✘ ताकतवर आदमी से दो लोग भी हार जाते हैं
2. ✘ किसी तरह की जिम्मेदारी न होना
3. ✘ बहुत कम अंतर होना।
4. ✔ जहाँ कुछ भी बचने की संभावना न हो

Question Number : 190 Question Id : 59445932607 Question Type : MCQ Option Shuffling : Yes Is Question Mandatory : No Option Orientation : Vertical

Correct Marks : 1 Wrong Marks : 0.25

निम्नलिखित में से लोकोक्ति "चील के घोसले में माँस कहाँ" का क्या अर्थ है?

Options :

1. ✘ ताकतवर आदमी से दो लोग भी हार जाते हैं
2. ✘ किसी तरह की जिम्मेदारी न होना
3. ✘ बहुत कम अंतर होना।
4. ✔ जहाँ कुछ भी बचने की संभावना न हो

Question Number : 191 Question Id : 59445932608 Question Type : MCQ Option Shuffling : Yes Is Question Mandatory : No Option Orientation : Vertical

Correct Marks : 1 Wrong Marks : 0.25

निम्नलिखित में से किस लोकोक्ति का अर्थ "अच्छी वस्तु कम होने पर भी मूल्यवान होती है, जबकि मामूली चीज अधिक होने पर भी कोई कीमत नहीं रखती" है?

Options :

1. ✔ चंदन की चुटकी भरी, गाड़ी भरा न काठ
2. ✘ चोर लाठी दो जने और हम बाप पूत अकेले
3. ✘ घर का जोगी जोगड़ा, आन गाँव का सिद्ध
4. ✘ योगी था सो उठ गया आसन रहा भभूत

Question Number : 191 Question Id : 59445932608 Question Type : MCQ Option Shuffling : Yes Is Question Mandatory : No Option Orientation : Vertical

Correct Marks : 1 Wrong Marks : 0.25

निम्नलिखित में से किस लोकोक्ति का अर्थ "अच्छी वस्तु कम होने पर भी मूल्यवान होती है, जबकि मामूली चीज अधिक होने पर भी कोई कीमत नहीं रखती" है?

Options :

1. ✔ चंदन की चुटकी भरी, गाड़ी भरा न काठ
2. ✘ चोर लाठी दो जने और हम बाप पूत अकेले
3. ✘ घर का जोगी जोगड़ा, आन गाँव का सिद्ध
4. ✘ योगी था सो उठ गया आसन रहा भभूत

Question Number : 192 Question Id : 59445932609 Question Type : MCQ Option Shuffling : Yes Is Question Mandatory : No Option Orientation : Vertical

Correct Marks : 1 Wrong Marks : 0.25

निम्नलिखित में से लोकोक्ति का प्रचलित रूप कौन-सा है?

Options :

1. ✘ कोयल खोय न खुजली, सौ मन साबुन लाई
2. ✔ कोयल होय न उजली, सौ मन साबुन लाई
3. ✘ साबुन होय न उजली, सौ मन कोयल लाई
4. ✘ कोयल होय न सौ मन साबुन लाई उजली

Question Number : 192 Question Id : 59445932609 Question Type : MCQ Option Shuffling : Yes Is Question Mandatory : No Option Orientation : Vertical

Correct Marks : 1 Wrong Marks : 0.25

निम्नलिखित में से लोकोक्ति का प्रचलित रूप कौन-सा है?

Options :

1. ✘ कोयल खोय न खुजली, सौ मन साबुन लाई
2. ✔ कोयल होय न उजली, सौ मन साबुन लाई
3. ✘ साबुन होय न उजली, सौ मन कोयल लाई
4. ✘ कोयल होय न सौ मन साबुन लाई उजली

Question Number : 193 Question Id : 59445932610 Question Type : MCQ Option Shuffling : Yes Is Question Mandatory : No Option Orientation : Vertical

Correct Marks : 1 Wrong Marks : 0.25

निम्नलिखित में से दिए गए वाक्य में किस चिन्ह का प्रयोग नहीं किया गया है?

तुलसीदास ने सत्य कहा है, "पराधीन सपनेहु सुख नहीं।"

Options :

1. ✘ अल्पविराम चिन्ह
2. ✘ अवतरण चिन्ह
3. ✔ अर्द्धविराम चिन्ह
4. ✘ पूर्ण विराम चिन्ह

Question Number : 193 Question Id : 59445932610 Question Type : MCQ Option Shuffling : Yes Is Question Mandatory : No Option Orientation : Vertical

Correct Marks : 1 Wrong Marks : 0.25

निम्नलिखित में से दिए गए वाक्य में किस चिन्ह का प्रयोग नहीं किया गया है?

तुलसीदास ने सत्य कहा है, "पराधीन सपनेहु सुख नहीं।"

Options :

1. ✘ अल्पविराम चिन्ह
2. ✘ अवतरण चिन्ह
3. ✔ अर्द्धविराम चिन्ह
4. ✘ पूर्ण विराम चिन्ह

Question Number : 194 Question Id : 59445932611 Question Type : MCQ Option Shuffling : Yes Is Question Mandatory : No Option Orientation : Vertical

Correct Marks : 1 Wrong Marks : 0.25

निम्नलिखित में से किस वाक्य में दीर्घ उच्चारण चिन्ह का प्रयोग किया गया है?

Options :

1. ✔ 16 मात्राएँ, । को एक मात्रा तथा S को 2 मात्रा माना जाता है।
2. ✘ गाँधीजी ने कहा, "परीक्षा की घड़ी आ गई है हम करेंगे या मरेंगे" ।
3. ✘ श्री राम ने कहा — सत्य के मार्ग पर चलना चाहिए।
4. ✘ वचन के दो भेद हैं:-

Question Number : 194 Question Id : 59445932611 Question Type : MCQ Option Shuffling : Yes Is Question Mandatory : No Option Orientation : Vertical

Correct Marks : 1 Wrong Marks : 0.25

निम्नलिखित में से किस वाक्य में दीर्घ उच्चारण चिन्ह का प्रयोग किया गया है?

Options :

1. ✔ 16 मात्राएँ, । को एक मात्रा तथा S को 2 मात्रा माना जाता है।
2. ✘ गाँधीजी ने कहा, "परीक्षा की घड़ी आ गई है हम करेंगे या मरेंगे" ।
3. ✘ श्री राम ने कहा — सत्य के मार्ग पर चलना चाहिए।
4. ✘ वचन के दो भेद हैं:-

Question Number : 195 Question Id : 59445932612 Question Type : MCQ Option Shuffling : Yes Is Question Mandatory : No Option Orientation : Vertical

Correct Marks : 1 Wrong Marks : 0.25

निम्नलिखित में से दिए गए वाक्य में किस चिन्ह का प्रयोग किया गया है?

रात-दिन परिश्रम करने पर ही सफलता मिलती है।

Options :

1. ✘ अर्द्धविराम चिन्ह एवं पूर्णविराम चिन्ह
2. ✘ योजक चिन्ह एवं उपविराम चिन्ह
3. ✔ योजक चिन्ह एवं पूर्णविराम चिन्ह
4. ✘ उपविराम चिन्ह एवं अल्पविराम चिन्ह

Question Number : 195 Question Id : 59445932612 Question Type : MCQ Option Shuffling : Yes Is Question Mandatory : No Option Orientation : Vertical

Correct Marks : 1 Wrong Marks : 0.25

निम्नलिखित में से दिए गए वाक्य में किस चिन्ह का प्रयोग किया गया है?

रात-दिन परिश्रम करने पर ही सफलता मिलती है।

Options :

1. ✘ अर्द्धविराम चिन्ह एवं पूर्णविराम चिन्ह
2. ✘ योजक चिन्ह एवं उपविराम चिन्ह
3. ✔ योजक चिन्ह एवं पूर्णविराम चिन्ह
4. ✘ उपविराम चिन्ह एवं अल्पविराम चिन्ह

Sub-Section Number :

2

Sub-Section Id :

5944591316

Question Shuffling Allowed :

Yes

Question Id : 59445932613 Question Type : COMPREHENSION Sub Question Shuffling Allowed : Yes Group Comprehension Questions : No

Question Numbers : (196 to 200)

निम्नलिखित गद्यांश का ध्यानपूर्वक अध्ययन कर प्रश्नों के उत्तर दीजिए-

तुलसी जैसा कवि काव्य की विशुद्ध, मनोमयी, कल्पना-प्रवण तथा श्रृंगारात्मक भावभूमियों के प्रति उत्साही नहीं हो सकता। उनका संत-हृदय परम कारुणिक राम के प्रति ही उन्मुख हो सकता है, जो जीवन के धर्ममय सौंदर्य, मर्यादापूर्ण शील और आत्मिक शौर्य के प्रतीक हैं।

विजय-रथ के रूपक में उन्होंने संत जीवन की रूपरेखा उभारी है और अपनी रामकथा को इसी संतत्व की चरितार्थता बना दिया है। उनका काव्य भारतीय जीवन

की सबसे बड़ी आकांक्षा मर्यादित जीवन-चर्या अथवा 'संत-रहनि' को वाणी देता है। धर्ममय जीवन की आकांक्षा भारतीय संस्कृति का वैशिष्ट्य है। तुलसी के काव्य में धर्म का अनाविल, अनावरित और अक्षुण्ण रूप ही प्रकट हुआ है। तुलसी के काव्य में धर्म अपने पंकरहित, निष्कलंकित, खुले रूप में, अक्षुण्ण या अपने संपूर्ण रूप में प्रकट हुआ है। काव्य में धर्म का जो रूप है, उसके मूल में लोक-कल्याण की भावना भी समाहित किए हुए है।

मध्ययुग की आध्यात्मिकता का प्रतिनिधित्व करते हुए भी उनका काव्य भारतीय आत्मा के चिरंतन सौंदर्य का प्रतिनिधि है, जो सत्य, तप, करुणा और मैत्री में ही आरोहण के देवधर्मी मूल्यों को अनावृत करता है। उनके काव्य में हमें श्रेष्ठ कवित्व ही नहीं मिलता, उसके आधार पर हम संत-कवित्व की रूपरेखा भी निर्धारित कर सकते हैं। भक्ति उनके संतत्व की आंतरिक भाव-साधना है। इस भाव-साधना की वाणी की अप्रतिम क्षमता देकर उन्होंने निष्कंप दीपशिखा की भाँति अपनी काव्य-कला को निःसंग और निवैयक्तिक दीप्ति से भरा है।

तुलसी के काव्य में आध्यात्मिकता का प्रतिनिधित्व है, जिसमें भारतीय काव्य-आत्मा के चिरंतन सौंदर्य के दर्शन होते हैं। तुलसी के काव्य में उनके संतत्व और भक्ति-साधना का मणिकांचन योग है। इसी भक्ति-साधना की वाणी को अद्वितीय क्षमता से युक्त करके तुलसी ने उसे उस दीपशिखा के समान प्रज्वलित कर दिया है, जिसकी लौ युगों-युगों तक प्रकाश रहेगी।

Sub questions

Question Number : 196 Question Id : 59445932614 Question Type : MCQ Option Shuffling : Yes Is Question Mandatory : No Option Orientation : Vertical

Correct Marks : 1 Wrong Marks : 0.25

निम्नलिखित में से कौन-सा शब्द "अवधूत" का पर्यायवाची नहीं है?

Options :

1. ✘ महात्मा
2. ✘ मुनि
3. ✔ असाधु
4. ✘ साधु

Question Number : 197 Question Id : 59445932615 Question Type : MCQ Option Shuffling : Yes Is Question Mandatory : No Option Orientation : Vertical

Correct Marks : 1 Wrong Marks : 0.25

उपरोक्त गद्यांश के अनुसार _____ का संत-हृदय, परम कारुणिक राम के प्रति ही उन्मुख हो सकता है, जो जीवन के धर्ममय सौंदर्य, मर्यादापूर्ण शील और आत्मिक शौर्य के प्रतीक हैं।

Options :

1. ✘ काव्यक
2. ✘ राम
3. ✔ तुलसी
4. ✘ धर्म

Question Number : 198 Question Id : 59445932616 Question Type : MCQ Option Shuffling : Yes Is Question Mandatory : No Option Orientation : Vertical

Correct Marks : 1 Wrong Marks : 0.25

उपरोक्त गद्यांश में तुलसी के संदर्भ में निम्नलिखित में से कौन-सा विकल्प सही है?

Options :

1. ✓ विजय-रथ के रूपक में तुलसी ने संत जीवन की रूपरेखा उभारी है और अपनी रामकथा को इसी संतत्व की चरितार्थता बना दिया है।
2. ✘ भक्ति-साधना की रचना को द्वितीय क्षमता से युक्त करके राम ने उसे उस दीपशिखा के समान प्रज्वलित कर दिया है।
3. ✘ भक्ति तुलसी के संतत्व की आंतरिक भाव-साधना नहीं है।
4. ✘ भाव-साधना की वाणी की प्रतिम क्षमता लेकर उन्होंने निष्कंप दीपशिखा की भाँति अपनी काव्य-कला को निःसंग और निवैयक्तिक दीप्ति से अपूर्ण किया है।

Question Number : 199 Question Id : 59445932617 Question Type : MCQ Option Shuffling : Yes Is Question Mandatory : No Option Orientation : Vertical

Correct Marks : 1 Wrong Marks : 0.25

उपरोक्त गद्यांश के अनुसार तुलसी के काव्य में धर्म निम्नलिखित में से किस रूप में प्रकट हुआ है?

Options :

1. ✘ निष्कलंकित रूप में प्रकट हुआ है।
2. ✘ खुले रूप में प्रकट हुआ है।
3. ✘ अक्षुण्ण या अपने संपूर्ण रूप में प्रकट हुआ है।
4. ✓ निष्कलंकित, खुले रूप में, अक्षुण्ण या अपने संपूर्ण रूप में प्रकट हुआ है।

Question Number : 200 Question Id : 59445932618 Question Type : MCQ Option Shuffling : Yes Is Question Mandatory : No Option Orientation : Vertical

Correct Marks : 1 Wrong Marks : 0.25

निम्नलिखित में से उपरोक्त गद्यांश का उचित शीर्षक बताइये-

Options :

1. ✘ काव्य की विशुद्धियां।
2. ✓ संत कवि तुलसीदास का काव्य के प्रति प्रेम।
3. ✘ संत कवि तुलसीदास की रचनाएँ।
4. ✘ जीवन के धर्ममय सौंदर्य।

Question Id : 59445932613 Question Type : COMPREHENSION Sub Question Shuffling Allowed : Yes Group Comprehension Questions : No

Question Numbers : (196 to 200)

निम्नलिखित गद्यांश का ध्यानपूर्वक अध्ययन कर प्रश्नों के उत्तर दीजिए-

तुलसी जैसा कवि काव्य की विशुद्ध, मनोमयी, कल्पना-प्रवण तथा शृंगारात्मक भावभूमियों के प्रति उत्साही नहीं हो सकता। उनका संत-हृदय परम कारुणिक राम के प्रति ही उन्मुख हो सकता है, जो जीवन के धर्ममय सौंदर्य, मर्यादापूर्ण शील और आत्मिक शौर्य के प्रतीक हैं।

विजय-रथ के रूपक में उन्होंने संत जीवन की रूपरेखा उभारी है और अपनी रामकथा को इसी संतत्व की चरितार्थता बना दिया है। उनका काव्य भारतीय जीवन की सबसे बड़ी आकांक्षा मर्यादित जीवन-चर्या अथवा 'संत-रहनि' को वाणी देता है। धर्ममय जीवन की आकांक्षा भारतीय संस्कृति का वैशिष्ट्य है। तुलसी के काव्य में धर्म का अनाविल, अनावरित और अक्षुण्ण रूप ही प्रकट हुआ है। तुलसी के काव्य में धर्म अपने पंकरहित, निष्कलंकित, खुले रूप में, अक्षुण्ण या अपने संपूर्ण रूप में प्रकट हुआ है। काव्य में धर्म का जो रूप है, उसके मूल में लोक-कल्याण की भावना भी समाहित किए हुए है।

मध्ययुग की आध्यात्मिकता का प्रतिनिधित्व करते हुए भी उनका काव्य भारतीय आत्मा के चिरंतन सौंदर्य का प्रतिनिधि है, जो सत्य, तप, करुणा और मैत्री में ही आरोहण के देवधर्मी मूल्यों को अनावृत करता है। उनके काव्य में हमें श्रेष्ठ कवित्व ही नहीं मिलता, उसके आधार पर हम संत-कवित्व की रूपरेखा भी निर्धारित कर सकते हैं। भक्ति उनके संतत्व की आंतरिक भाव-साधना है। इस भाव-साधना की वाणी की अप्रतिम क्षमता देकर उन्होंने निष्कंप दीपशिखा की भाँति अपनी काव्य-कला को निःसंग और निवैयक्तिक दीप्ति से भरा है।

तुलसी के काव्य में आध्यात्मिकता का प्रतिनिधित्व है, जिसमें भारतीय काव्य-आत्मा के चिरंतन सौंदर्य के दर्शन होते हैं। तुलसी के काव्य में उनके संतत्व और भक्ति-साधना का मणिकांचन योग है। इसी भक्ति-साधना की वाणी को अद्वितीय क्षमता से युक्त करके तुलसी ने उसे उस दीपशिखा के समान प्रज्वलित कर दिया है, जिसकी लौ युगों-युगों तक प्रकाश रहेगी।

Sub questions

Question Number : 196 Question Id : 59445932614 Question Type : MCQ Option Shuffling : Yes Is Question Mandatory : No Option Orientation : Vertical

Correct Marks : 1 Wrong Marks : 0.25

निम्नलिखित में से कौन-सा शब्द "अवधूत" का पर्यायवाची नहीं है?

Options :

1. ✘ महात्मा
2. ✘ मुनि
3. ✔ असाधु
4. ✘ साधु

Question Number : 197 Question Id : 59445932615 Question Type : MCQ Option Shuffling : Yes Is Question Mandatory : No Option Orientation : Vertical

Correct Marks : 1 Wrong Marks : 0.25

उपरोक्त गद्यांश के अनुसार _____ का संत-हृदय, परम कारुणिक राम के प्रति ही उन्मुख हो सकता है, जो जीवन के धर्ममय सौंदर्य, मर्यादापूर्ण शील और

आत्मिक शौर्य के प्रतीक हैं।

Options :

1. ✘ काव्यक
2. ✘ राम
3. ✔ तुलसी
4. ✘ धर्म

Question Number : 198 Question Id : 59445932616 Question Type : MCQ Option Shuffling : Yes Is Question Mandatory : No Option Orientation : Vertical

Correct Marks : 1 Wrong Marks : 0.25

उपरोक्त गद्यांश में तुलसी के संदर्भ में निम्नलिखित में से कौन-सा विकल्प सही है?

Options :

1. ✔ विजय-रथ के रूपक में तुलसी ने संत जीवन की रूपरेखा उभारी है और अपनी रामकथा को इसी संतत्व की चरितार्थता बना दिया है।
2. ✘ भक्ति-साधना की रचना को द्वितीय क्षमता से युक्त करके राम ने उसे उस दीपशिखा के समान प्रज्वलित कर दिया है।
3. ✘ भक्ति तुलसी के संतत्व की आंतरिक भाव-साधना नहीं है।
4. ✘ भाव-साधना की वाणी की प्रतिम क्षमता लेकर उन्होंने निष्कंप दीपशिखा की भाँति अपनी काव्य-कला को निःसंग और निवैयक्तिक दीप्ति से अपूर्ण किया है।

Question Number : 199 Question Id : 59445932617 Question Type : MCQ Option Shuffling : Yes Is Question Mandatory : No Option Orientation : Vertical

Correct Marks : 1 Wrong Marks : 0.25

उपरोक्त गद्यांश के अनुसार तुलसी के काव्य में धर्म निम्नलिखित में से किस रूप में प्रकट हुआ है?

Options :

1. ✘ निष्कलंकित रूप में प्रकट हुआ है।
2. ✘ खुले रूप में प्रकट हुआ है।
3. ✘ अक्षुण्ण या अपने संपूर्ण रूप में प्रकट हुआ है।
4. ✔ निष्कलंकित, खुले रूप में, अक्षुण्ण या अपने संपूर्ण रूप में प्रकट हुआ है।

Question Number : 200 Question Id : 59445932618 Question Type : MCQ Option Shuffling : Yes Is Question Mandatory : No Option Orientation : Vertical

Correct Marks : 1 Wrong Marks : 0.25

निम्नलिखित में से उपरोक्त गद्यांश का उचित शीर्षक बताइये-

Options :

1. ✘ काव्य की विशुद्धियां।
2. ✔ संत कवि तुलसीदास का काव्य के प्रति प्रेम।
3. ✘ संत कवि तुलसीदास की रचनाए।
4. ✘ जीवन के धर्ममय सौंदर्य।