

SSC CHSL TIER-I 2020 Memory Based Package Online Test Series

Directions (1-3): दिए गए विकल्पों में से विषम शब्द/वर्ण/संख्या/संख्या युग्म का चयन कीजिए।

Q1.

- (a) PT
- (b) DH
- (c) VZ
- (d) KN

Q2.

- (a) 363
- (b) 297
- (c) 253
- (d) 487

Q3.

- (a) Chirp
- (b) Bleat
- (c) Frisk
- (d) Neigh



Q4. एक लुप्त पद के साथ श्रृंखला दी गई है। दिए गए विकल्पों में से उस विकल्प का चयन कीजिए जो श्रृंखला को पूरा करेगा।
200, ?, 50, 25, 12.5

- (a) 123
- (b) 225
- (c) 100
- (d) 198

Q5. एक लुप्त पद के साथ श्रृंखला दी गई है। दिए गए विकल्पों में से उस विकल्प का चयन कीजिए जो श्रृंखला को पूरा करेगा।

DFE, GIH, JLK, ?

- (a) LTS
- (b) IJK
- (c) MON
- (d) PRS

Complete Preparation for
SSC Exams

SSC
EXTREME

Video Courses, Test Series,
eBooks

Q6. यदि किसी महीने के दसवें दिन पर मंगलवार है, तो उसी महीने के अंतिम दिन को सप्ताह का कौन-सा दिन होगा?

- (a) सोमवार
- (b) शुक्रवार
- (c) बुधवार
- (d) रविवार

Directions (7-9): दिए गए विकल्पों में से संबंधित शब्द/वर्ण/संख्या का चयन कीजिए।

Q7. Goitre : Iodine :: Anaemia : ?

- (a) Vitamin C
- (b) Vitamin K
- (c) Iron
- (d) Potasium

Q8. FG : 13 :: UV : ?

- (a) 45
- (b) 55
- (c) 21
- (d) 43

Q9. Hen : Egg :: Cow : ?

- (a) Dung
- (b) Milk
- (c) Ox
- (d) Curd



Q10. यदि "A" का अर्थ "जोड़", "B" का अर्थ "भाग", "C" का अर्थ "गुणा" और "D" का अर्थ "घटाव" है, तो $187 B 17 C 4 A 7 D 17 = ?$

- (a) 30
- (b) 44
- (c) 33
- (d) 34

Q11. उस आरेख को पहचानिए, जो दिए गए वर्गों के बीच उचित संबंध का प्रतिनिधित्व करता है।
स्तनधारी, कुत्ते, मनुष्य

(a)



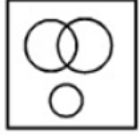
(b)



(c)



(d)



Q12. एक लड़का दक्षिण की ओर 4 किमी चलता है और फिर दाएं ओर मुड़ता है और उसी दिशा में 3 किमी चलता है। वह अपने वास्तविक स्थान से अब कितनी दूर और किस दिशा में है?

- (a) 6 किमी, दक्षिण
- (b) 5 किमी, दक्षिण-पश्चिम
- (c) 4 किमी, उत्तर
- (d) 5 किमी, दक्षिण-पश्चिम

Q13. किशन, राजेश के ससुर का दामाद है। राजेश की पत्नी की एक छोटी बहन है। राजेश, किशन से किस प्रकार संबंधित है?

- (a) ब्रदर-इन-लाँ
- (b) अंकल
- (c) पिता
- (d) कजन



Q14. निम्नलिखित प्रश्न में, दो कथन के बाद दो निष्कर्ष I और II दिए गए हैं। आपको इन कथनों को सत्य मानना है, भले ही वे सामान्यतः ज्ञात तथ्यों से भिन्न प्रतीत होते हों। तथा निर्णय लेना है कि दिए गए कथनों में से कौन सा निष्कर्ष, यदि कोई है, दिए गए कथनों का अनुसरण करता है।

कथन:

- (I) सभी पक्षी पेड़ हैं।
- (II) कुछ पेड़ मुर्गियाँ हैं।

निष्कर्ष:

- (I) कुछ पक्षी मुर्गियाँ हैं।
- (II) कुछ मुर्गियाँ पेड़ हैं।
- (a) निष्कर्ष I अनुसरण करता है
- (b) निष्कर्ष II अनुसरण करता है
- (c) न तो I और न ही II अनुसरण करता है
- (d) I और II दोनों अनुसरण करते हैं

Q15. यदि "A" का अर्थ "गुणा", "B" का अर्थ "घटा", "C" का अर्थ "जोड़" का अर्थ "D" का अर्थ "भाग", तो 8 B 31 C 49 D 7 A 16 = ?

- (a) 89
- (b) 98
- (c) 102
- (d) 11

Q16. निम्नलिखित शब्दों को शब्दकोश में आने वाले क्रम के अनुसार व्यवस्थित कीजिए।

1. Preach
2. Praise
3. Precinct
4. Precept
5. Precede

- (a) 21543
- (b) 21345
- (c) 25143
- (d) 12543

Q17. 10 से 50 के बीच की अभाज्य संख्या अपरिवर्तित रहेंगी, यदि उसके अंकों को उलट दिया जाए, तो ऐसी संख्या का वर्ग है-

- (a) 121
- (b) 484
- (c) 1089
- (d) 1936

Q18. गोपाल मोहन से बड़ा है लेकिन राम से छोटा है। मोहन सोहन से बड़ा है लेकिन राम से छोटा है, सबसे बड़ा कौन है।

- (a) गोपाल
- (b) मोहन
- (c) राम
- (d) सोहन

Q19. दिए गए वैकल्पिक शब्दों से, उस शब्द का चयन कीजिए जिसे दिए गए शब्द के वर्णों का उपयोग करके नहीं बनाया जा सकता है?

ENDEAVOUR

- (a) DEVOUR
- (b) ROUND
- (c) DROWN
- (d) DROVE



12 Months Subscription

SSC
SUPREME

All SSC Video Courses

Q20. एक निश्चित कूट में, GIVE को VIEG और OVER को EVRO के रूप में लिखा जाता है। तो उस कूट में DISK को कैसे लिखा जाएगा?

- (a) SIDK
- (b) KISD
- (c) KDSI
- (d) SIKD

Q21. निम्नलिखित प्रश्न में, दो कथन के बाद दो निष्कर्ष I और II दिए गए हैं। आपको इन कथनों को सत्य मानना है, भले ही वे सामान्यतः ज्ञात तथ्यों से भिन्न प्रतीत होते हों। तथा निर्णय लेना है कि दिए गए कथनों में से कौन सा निष्कर्ष, यदि कोई है, दिए गए कथनों का अनुसरण करता है।

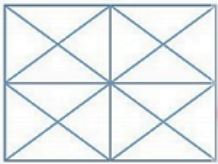
कथन:

- 1. सभी हाथी पुरुष हैं
- 2. सभी पुरुष मोजे हैं

निष्कर्ष:

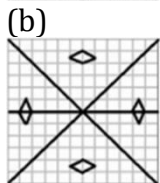
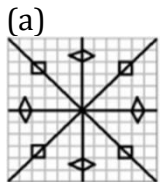

- 1. कुछ मोजे हाथी हैं
- 2. सभी हाथी मोजे हैं
- (a) केवल निष्कर्ष I अनुसरण करता है
- (b) केवल निष्कर्ष II अनुसरण करता है
- (c) दोनों अनुसरण करते हैं
- (d) कोई भी अनुसरण नहीं करता है

Q22. प्रश्न आकृति पर कितने त्रिभुज हैं?

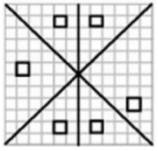


- (a) 24
- (b) 36
- (c) 40
- (d) 44

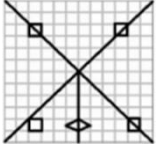
Q23. एक कागज़ के टुकड़े को मोड़ा और काटा जाता है जैसा नीचे दर्शाया गया है। खोलने पर वह कैसे दिखाई देगा?



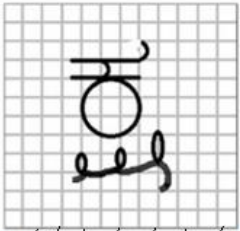
(c)



(d)

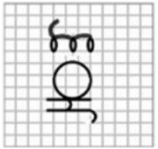


Q24. यदि MN रेखा पर एक दर्पण रखा जाता है, तो दी गई आकृतियों में से कौन-सी उत्तर आकृति प्रश्न आकृति की सही छवि है?

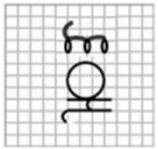


M // // // // N

(a)



(b)



(c)



(d)



Q25. यदि "WEDNESDAY" को \$#!%#@!&© के रूप में कूटबद्ध किया जाता है, तो DESNEY -

(a) %#@!&©

(b) !#@%#©

(c) !@#%#©

(d) !\$@%#©

Q26. 2019 में दादा साहब फाल्के पुरस्कार के विजेता कौन हैं?

- (a) विनोद खन्ना
- (b) अमिताभ बच्चन
- (c) मनोज कुमार
- (d) प्राण कृष्ण सिकंद (प्राण)

Q27. टेस्ला के वर्तमान सीईओ कौन हैं?

- (a) एलोन मस्क
- (b) तलुल्लाह रिले
- (c) जस्टिन मस्क
- (d) तलाउल्ला रिले

Q28. "बर्नट शुगर" उपन्यास के लेखक कौन हैं?

- (a) अवनी दोशी
- (b) ब्रैंडन टेलर
- (c) डगलस स्टुअर्ट
- (d) गेन्नियल क्रुजे

Q29. आईसीसी क्रिकेटर ऑफ़ द इयर कौन है?

- (a) विराट कोहली
- (b) रोहित शर्मा
- (c) बेन स्टोक्स
- (d) पैट कर्मिस

Q30. गैल्वनीकरण के लिए किस धातु का उपयोग किया जाता है?

- (a) कोपर
- (b) जिंक
- (c) टिन
- (d) लेड

Q31. पासी कोंगकी किसका लोक नृत्य है?

- (a) तेलंगाना
- (b) त्रिपुरा
- (c) असम
- (d) अरुणाचल प्रदेश

Q32. भारतीय नौसेना के लिए पहली महिला पायलट कौन है?

- (a) शिवांगी सिंह
- (b) शुभांगी स्वरूप
- (c) शालिजा धामी
- (d) मोहना सिंह जीतवाल

Video Course

English



**TARGET
SSC CGL**

Validity: 6 Months



SSC
adda247

Q33. राइजिंग मेंटल हेल्थ अवेयरनेस के लिए क्रिस्टल अवार्ड किसने जीता?

- (a) प्रियंका चोपड़ा
- (b) दीपिका पादुकोण
- (c) कैटरीना कैफ
- (d) अनुष्का शर्मा

Q34. गंगा नदी कहाँ से उत्पन्न हुई है?

- (a) चेमायुंगडुंग ग्लेशियर
- (b) यमुनोत्री ग्लेशियर
- (c) गंगोत्री ग्लेशियर
- (d) उपरोक्त में से कोई नहीं

Q35. प्रधानमंत्री गरीब कल्याण योजना 2020 के तहत निम्नलिखित में से कौन-सी योजना पेशकश की जाती है?

- (a) किसानों के लिए प्रधानमंत्री किसान योजना
- (b) उज्ज्वल योजना
- (c) प्रधानमंत्री गरीब कल्याण योजना
- (d) उपरोक्त सभी

Q36. रक्त का पीएच मान है-

- (a) 6.8
- (b) 6.2
- (c) 7.4
- (d) 7.8



SSC
adda247

Q37. भारत का सबसे लंबा रेलवे पियर ब्रिज कहाँ है?

- (a) मणिपुर
- (b) तेलंगाना
- (c) जम्मू
- (d) केरेला

Q38. स्टैचू ऑफ यूनिटी की ऊंचाई कितनी है?

- (a) 175 मी
- (b) 182 मी
- (c) 166 मी
- (d) 150 मी

Q39. हरियाणा के वर्तमान मुख्य मंत्री कौन हैं?

- (a) मनोहर लाल खट्टर
- (b) दुष्यंत चौटाला
- (c) देवीलाल
- (d) राव बीरेंद्र सिंह

Q40. पुलिकट झील कहाँ स्थित है?

- (a) केरल
- (b) ओडिशा
- (c) तमिलनाडु
- (d) गुजरात

Q41. अब तक का सबसे बड़ा भूकंप _____ दर्ज किया गया था।

- (a) परिमाण 9.5
- (b) परिमाण 8.5
- (c) परिमाण 7.5
- (d) परिमाण 9.0

Q42. भारतीय संविधान के _____ के अनुसार, लोकसभा में एक अध्यक्ष और एक उपाध्यक्ष होता है।

- (a) अनुच्छेद 93
- (b) अनुच्छेद 97
- (c) अनुच्छेद 98
- (d) अनुच्छेद 91

Q43. संविधान का _____ प्रदान करता है कि राष्ट्रपति उस तिथि से पाँच वर्ष के लिए पद धारण करेगा जिस दिन वह अपने कार्यालय में नियुक्त होगा।

- (a) अनुच्छेद 57
- (b) अनुच्छेद 56
- (c) अनुच्छेद 54
- (d) अनुच्छेद 65



Q44. जहाँ सागा दाव को हर साल बड़े उत्साह के साथ मनाया जाता है-

- (a) सिक्किम
- (b) केरल
- (c) मणिपुर
- (d) गोवा

Q45. भूटान का राष्ट्रीय खेल है-

- (a) तीरंदाजी
- (b) हॉकी
- (c) क्रिकेट
- (d) फुटबॉल

Q46. BCCI के वर्तमान अध्यक्ष कौन हैं?

- (a) सौरव गांगुली
- (b) अनुराग ठाकुर
- (c) सुनील गावस्कर
- (d) उपरोक्त में से कोई नहीं

Q47. होम रूल आंदोलन के एक नेता का नाम बताइए?

- (a) एनी बेसेंट
- (b) सुरेंद्र नाथ बनर्जी
- (c) अरबिंदो घोष
- (d) बिपिन चंद्र पाल

Q48. निम्नलिखित में से कौन सा मौद्रिक नीति के उचित साधन हैं?

- (a) खुला बाजार संचालन
- (b) बैंक दर नीति
- (c) चुनाव साख नियंत्रण
- (d) सभी विकल्प सही हैं

Q49. सतपथ ब्राह्मण संबंधित है-

- (a) ऋग्वेद
- (b) यजुर्वेद
- (c) सामवेद
- (d) अथर्ववेद

Q50. काकोरी काण्ड किस वर्ष में हुआ था?

- (a) 1920
- (b) 1924
- (c) 1925
- (d) 1935

Q51. यदि एक आयत के विकर्ण और एक भुजा की लंबाई 15 सेमी और 12 सेमी हैं, तो क्षेत्रफल ज्ञात कीजिये।

- (a) 96 सेमी²
- (b) 120 सेमी²
- (c) 112 सेमी²
- (d) 108 सेमी²

Q52. यदि एक वस्तु को 216 रुपये में बेचा जाता है, तो 10% की हानि होती है। क्रय मूल्य ज्ञात कीजिये।

- (a) 180
- (b) 240
- (c) 200
- (d) 220

Q53. यदि $\frac{\cos\theta + \sin\theta}{\cos\theta - \sin\theta} = 8$ है, तो $\cot\theta$ ज्ञात कीजिये।

- (a) $\frac{8}{7}$
- (b) $\frac{9}{7}$
- (c) $\frac{5}{7}$
- (d) $\frac{4}{7}$

NRA-CET Ready

SSC

Useful for CGL, CHSL & others

TEST PACK

Bilingual (with eBooks)
6 Months Validity



Q54. 6360 रुपये को A, B और C के बीच विभाजित किया जाता है। यदि A का B से अनुपात 5:7 और B:C, 8:9 है, तो B का हिस्सा ज्ञात कीजिये।

- (a) 2240
- (b) 2400
- (c) 2200
- (d) 2260

Q55. यदि $x - 2y = 3$ और $xy = 5$ है, तो ज्ञात कीजिये: $x^2 - 4y^2$

- (a) 20
- (b) 21
- (c) 18
- (d) 24

Q56. यदि A और B की आयु का अनुपात 3:2 है और उनकी आयु का अंतर 24 वर्ष है, तो 3 वर्ष बाद A की आयु ज्ञात कीजिये।

- (a) 72
- (b) 70
- (c) 75
- (d) 76

Q57. निम्नलिखित में से कौनसा 11 से विभाज्य है?

- (a) 950676
- (b) 581856
- (c) 581371
- (d) 688493

Q58. यदि एक कार एक यात्रा पर 20 किमी/घंटा की गति से यात्रा करती है और वापसी यात्रा पर 30 किमी/घंटा की गति से यात्रा करती है। तो पूरी यात्रा के लिए औसत गति ज्ञात कीजिये।

- (a) 30
- (b) 22
- (c) 28
- (d) 24

Q59. यदि $\cos x(x - y) = \sqrt{3}/2$, और $\sin(x + y) = 1/\sqrt{2}$ है। तो x का मान ज्ञात कीजिये।

- (a) 37.5°
- (b) 22.5°
- (c) 35°
- (d) 30°

Q60. यदि 35000 रुपये की राशि साधारण ब्याज की 10% की ब्याज दर पर 45000 रुपये हो जाती है, तो समयावधि ज्ञात कीजिये।

- (a) $1\frac{6}{7}$ वर्ष
- (b) $2\frac{5}{7}$ वर्ष
- (c) $2\frac{6}{7}$ वर्ष
- (d) $2\frac{4}{7}$ वर्ष

Q61. यदि $x + \frac{1}{x} = 2$ है, तो $x^4 + \frac{1}{x^4}$ ज्ञात कीजिये।

- (a) 6
- (b) 4
- (c) 2
- (d) 8

Q62. $8 \operatorname{cosec}^2 \theta + 25 \sin^2 \theta$ का न्यूनतम मान ज्ञात कीजिये।

- (a) $20\sqrt{2}$
- (b) $20\sqrt{3}$
- (c) $10\sqrt{2}$
- (d) $10\sqrt{3}$

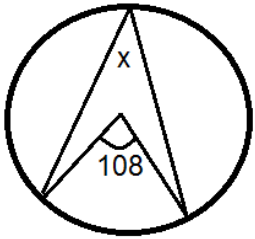
Q63. एक त्रिभुज ABC में, M और N भुजा AB और AC के मध्य-बिंदु हैं। MN पर एक बिंदु L है जो इसे 1:2 के अनुपात में विभाजित करता है। यदि ML 3 सेमी है, तो BC ज्ञात कीजिये।

- (a) 15 सेमी
- (b) 18 सेमी
- (c) 16 सेमी
- (d) 20 सेमी

Q64. एक वस्तु को 72000 रुपये में बेचने पर 25% का लाभ होता है। यदि 30% का लाभ प्राप्त करना हो तो विक्रय मूल्य ज्ञात कीजिये।

- (a) 72880
- (b) 74480
- (c) 74880
- (d) 74280

Q65. दी गई आकृति में x ज्ञात कीजिये



- (a) 48
- (b) 52
- (c) 46
- (d) 54

Q66. यदि 15 पुरुष एक कार्य को 10 दिन में कर सकते हैं। तो समान कार्य को 20 व्यक्तियों द्वारा करने में कितने दिन लगेंगे?

- (a) $7\frac{1}{2}$ दिन
- (b) $5\frac{1}{2}$ दिन
- (c) $6\frac{1}{2}$ दिन
- (d) $7\frac{3}{2}$ दिन

Complete Preparation for
SSC Exams

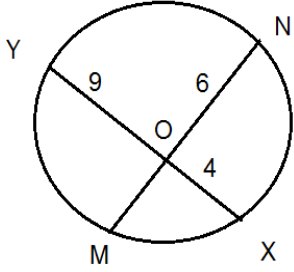
SSC
EXTREME

Video Courses, Test Series,
eBooks

Q67. यदि $a + b + c = 18$, और $ab + bc + ca = 107$ है। तो $a^3 + b^3 + c^3 - 3abc$ ज्ञात कीजिये।

- (a) 54
- (b) 56
- (c) 48
- (d) 60

Q68. दी गई आकृति में OM ज्ञात कीजिये।



- (a) 4
- (b) 8
- (c) 6
- (d) 5

Q69. यदि $a + b + c = 2$ और $\frac{1}{a} + \frac{1}{b} + \frac{1}{c} = 0$ है। तो $a^2 + b^2 + c^2$ का मान ज्ञात कीजिये।

- (a) 4
- (b) 6
- (c) 10
- (d) 8

Q70. एक समद्विबाहु त्रिभुज की ऊँचाई ज्ञात कीजिए जिसकी भुजा 10, 10 और 16 हैं।

- (a) 4
- (b) 6
- (c) 10
- (d) 8

Q71. $\frac{\tan 60^\circ - \tan 15^\circ}{1 + \tan 60^\circ \tan 15^\circ}$ का मान ज्ञात कीजिये।

- (a) 3
- (b) 2
- (c) $1/2$
- (d) 1

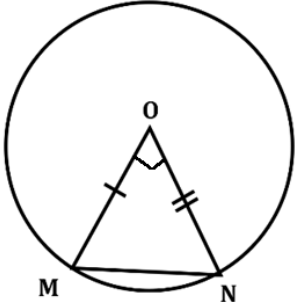
Q72. $\frac{77^{77} + 77}{78}$ का शेषफल ज्ञात कीजिये।

- (a) 0
- (b) 74
- (c) 76
- (d) 1

Q73. यदि एक आयत की लम्बाई और चौड़ाई का अनुपात 5:2 है और परिमाप 238 मीटर है। तो लम्बाई ज्ञात कीजिये।

- (a) 75
- (b) 65
- (c) 85
- (d) 95

Q74. दी गई आकृति में, O केंद्र है, ΔMON का क्षेत्रफल = 36 सेमी² और $\angle MON = 90^\circ$ है। वृत्त का क्षेत्रफल ज्ञात कीजिये।



- (a) 72π
- (b) 76π
- (c) 64π
- (d) 78π

Q75. यदि एक धावक 40 किमी/घंटा की गति के स्थान पर 30 किमी/घंटा की गति से दौड़ना शुरू करता है, तो समान दूरी को तय करने में लिए गए समय में प्रतिशत वृद्धि क्या होगी?

- (a) 25%
- (b) 20%
- (c) 30%
- (d) $33\frac{1}{3}\%$

Q76. Select the most appropriate synonym of the given word.

FURTIVE

- (a) Openly
- (b) Stealthy
- (c) Contemplated
- (d) Forthright

Q77. Select the most appropriate antonym of the given word.

DEMOLISH

- (a) Construct
- (b) Sentence
- (c) Banish
- (d) Berate

SSC
adda247

12 Months Subscription

SSC
SUPREME

All SSC Video Courses

Q78. In the sentence identify the segment which contains the grammatical error.

The top polluted cities in the world belongs to our country.

- (a) The top polluted cities
- (b) in the world
- (c) belongs to our country.
- (d) No error

Q79. Select the most appropriate meaning of the given idiom.

Up in arms

- (a) Encouraged
- (b) Tired
- (c) Very angry
- (d) Refreshed

Q80. Select the most appropriate meaning of the given idiom.

Hornet's nest

- (a) In confusion
- (b) In a happy mood
- (c) A pleasant situation
- (d) A dangerous situation

Q81. Select the word which means the same as the group of words given.

Able to use the right and left hands equally well

- (a) Usurer
- (b) Uxorious
- (c) Ambidextrous
- (d) Shylock

Q82. Select the most appropriate synonym of the given word.

ASSERTION

- (a) Complaint
- (b) Declaration
- (c) Obstacle
- (d) Admiration

Q83. Select the most appropriate antonym of the given word.

EARTHLY

- (a) Non-spiritual
- (b) Global
- (c) Worldly
- (d) Heavenly

Q84. Select the word which means the same as the group of words given.

A sentimental longing or wistful affection for a period in the past

- (a) Nostalgia
- (b) Somnambulism
- (c) Hallucination
- (d) Obsession

Q85. Select the wrongly spelt word.

- (a) Faiethfully
- (b) Faithfully
- (c) Failthfulie
- (d) Faithfully

Q86. Select the wrongly spelt word.

- (a) Unrully
- (b) Unruly
- (c) Unruely
- (d) Unreuly

Q87. Select the correct passive form of the given sentence.

He bought a new car for the journey.

- (a) A new car had been bought for the journey.
- (b) A new car has been bought for the journey.
- (c) A new car was to be bought for the journey.
- (d) A new car was bought for the journey.

Directions (88-92): In the following passage some words have been deleted. Fill in the blanks with the help of the alternatives give. Select the most appropriate option for each blank.

A (1) _____ outcome of the controversy surrounding the Bureau of Indian Standards (BIS) report of November 2019 on drinking water status is that the issue of water quality has (2) _____ politically prioritised. The fact that water should be treated as an (3) _____ concern for public health and the ecosystem of the country cannot be denied. The threats to human health due to poor water quality, except when they appear as an epidemic, are largely (4) _____. This generally subjects the population to (5) _____ health problems without its knowledge or consent.

Q88. Select the most appropriate option for blank no. 1

- (a) fantastic
- (b) significant
- (c) important
- (d) minor

Video Course

English



**TARGET
SSC CGL**

Validity: 6 Months

Q89. Select the most appropriate option for blank no. 2

- (a) got
- (b) given
- (c) taken
- (d) issued

Q90. Select the most appropriate option for blank no. 3

- (a) emotional
- (b) intellectual
- (c) interest
- (d) urgent

Q91. Select the most appropriate option for blank no. 4

- (a) imperceptible
- (b) obvious
- (c) apparent
- (d) tangible

Q92. Select the most appropriate option for blank no. 5

- (a) fine
- (b) subtle
- (c) nice
- (d) crude

Q93. In the sentence identify the segment which contains the grammatical error.

The Principal asked the teachers to return back the notebooks to the students.

- (a) The Principal asked
- (b) the teachers to return
- (c) back the notebooks
- (d) to the students.

Q94. Given below are four jumbled sentences. Out of the given options pick the one that gives their correct order.

(P) Goods are sold from India to a shadow entity based in a tax haven, which almost immediately resells the same produce to another entity at a much higher price.

(Q) Now that payments largely go through digital channels,

(R) However, hundreds of cases of transparent over-invoicing and under-invoicing of exports and imports remain forgotten.

(S) Data on the same can be revived even in cases where they have been erased.

- (a) PQRS
- (b) SRQP
- (c) RQSP
- (d) QSRP

Q95. Given below are four jumbled sentences. Out of the given options pick the one that gives their correct order.

(P) I have listened to all the Hindi hits of the 50s, 60s and 70s as well as the lilting music of other languages.

(Q) The songs emanating from all the great music composers, lyricists and singers of Kannada film industry of yesteryears still ring in my ears.

(R) One programme that I can never forget is the Binaca Geetmala,

(S) Which was being broadcast from Radio Ceylon on Wednesdays at 8pm.

(a) PQRS

(b) SRQP

(c) RQSP

(d) PSRQ

Q96. Select the correct indirect form of the given sentence.

“We will hold him accountable for all this”, CEO said.

(a) CEO said that they would hold him accountable for all that.

(b) CEO said that we would hold him accountable for all that.

(c) CEO said that they would hold him accountable for all this.

(d) CEO said that we would hold him accountable for all this.

Q97. In the following question, the sentence given with blank to be filled in with an appropriate word. Select the correct alternative out of the four and indicate it by selecting the appropriate option.

In view of the heavy losses suffered by the company, the shareholders were requested to bear _____

(a) over

(b) with

(c) out

(d) up

Q98. Improve the bracketed part of the sentence.

Today this is a totally different world (than we have seen) in the last decade.

(a) than what we seen

(b) from what we seen

(c) from what we have seen

(d) No Improvement

Q99. In the following question, the sentence given with blank to be filled in with an appropriate word. Select the correct alternative out of the four and indicate it by selecting the appropriate option.

The special court was _____ without having reached any decision on the case.

(a) adjourned

(b) dispersed

(c) postponed

(d) recessed

Q100. Improve the bracketed part of the sentence.

(Scarcely had the minister started his speech than) the crowd started protesting.

- (a) Scarcely had the minister started his speech then
- (b) Scarcely had the minister started his speech when
- (c) Scarcely the minister had started his speech when
- (d) No improvement

NRA-CET Ready

SSC

Useful for CGL, CHSL & others

TEST PACK

Bilingual (with eBooks)

6 Months Validity

