

SSC CGL REASONING. MEGA QUIZ ADVANCE LEVEL QUESTIONS

Directions (1-5): Select the related word/letter / number / figure from the given alternatives.

दिए गए विकल्पों में से संबंधित शब्द/वर्ण/संख्या/आकृति चुनें।

Q1. Saint : Meditation :: Scientist :

संत : ध्यान :: वैज्ञानिक :

- (a) Research/ शोध
- (b) Knowledge/ ज्ञान
- (c) Spiritual/ धार्मिक
- (d) Rational/ तार्किक

Q2. AFKP : DINS :: WBGL : ?

- (a) ZFJD
- (b) ZEJN
- (c) ZEJO
- (d) ZEIN

Q3. 18 : 5 :: 12 : ?

- (a) 4
- (b) 10
- (c) 3
- (d) 6

Q4. 12 : 9 :: 45 : ?

- (a) 15
- (b) 56
- (c) 25
- (d) 81

Q5. SINGER : QGLECP :: MONSTER : ?

- (a) KLNQSCP
- (b) KLMQSCP
- (c) KMLQRCP
- (d) KLMQTDO

SSCadda.com

 Online विद्यालय

TEST SERIES

SSC CHSL
TIER-I

10 Full Length Mocks

Bilingual

Q6. FAG, GAF, HAI, IAH, _____

- (a) JAK
- (b) HAK
- (c) JAI
- (d) HAL

Q7. 3, 6, 9, 15, 24, 39, 63, ?

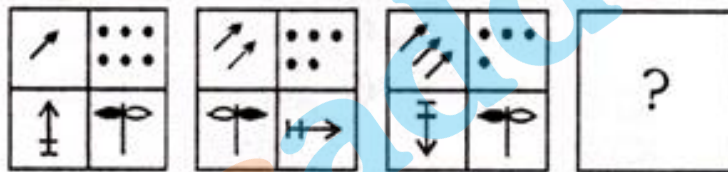
- (a) 100
- (b) 87
- (c) 102
- (d) 99

Q8. -1, 0, ?, 8, 15, 24

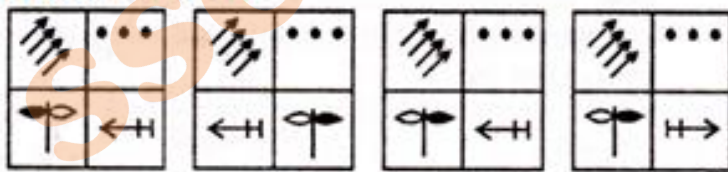
- (a) 4
- (b) 3
- (c) 2
- (d) 1

Q9.

Question Figure :



Answer Figure :



- (a) a
- (b) b
- (c) c
- (d) d

Q10. If '-' stands for '+', '+' stands for 'x', 'x' stands for '-' then which one of the following is not correct ?
यदि '-' का अर्थ '+' है, '+' का अर्थ 'x' है, 'x' का अर्थ '-' है तो निम्न में से कौन सा सही नहीं है?

- (a) $22 + 7 - 3 \times 9 = 148$
- (b) $33 \times 5 - 10 + 20 = 228$
- (c) $7 + 28 - 3 \times 52 = 127$
- (d) $44 - 9 + 6 \times 11 = 87$

Q11. Conventional : Modern :: Rebellious : ?

पारंपारिक : आधुनिक :: विद्रोही : ?

- (a) Aggressive/ आक्रामक
- (b) Revolting/ बारी
- (c) New/ नया
- (d) Conforming/ समर्थक

Q12. BZDX : FIHG :: JRLP : ?

- (a) NMKL
- (b) NNLO
- (c) NNPL
- (d) NMLR

Q13. RADAR : RADAR :: WAR : ?

- (a) RWA
- (b) WRA
- (c) WRR
- (d) RAW

Q14. 12 : 245 :: 13 : ?

- (a) 265
- (b) 270
- (c) 275
- (d) 280

Q15. 81 : 8 :: ? : ?

- (a) 128 : 13
- (b) 136 : 9
- (c) 124 : 5
- (d) 144 : 11

Q16. A mother's age is square of her daughter's age. After 5 years, mother will be three times as old as her daughter. What is the present age of the mother ?

एक माँ की आयु, उसकी बेटी की आयु का वर्ग है। 5 वर्षों के बाद, माँ की आयु बेटी की आयु का 3 गुना हो जाएगी। माँ की वर्तमान आयु क्या है?

- (a) 29 years
- (b) 25 years
- (c) 36 years
- (d) 20 years

Q17. Bindu is elder than Nandu. Nandu is elder than Tarak. Tarak is younger than Oly. Prem is elder than Bindu. Kitu is elder than Prem. Who is the eldest ?

बिंदु, नंदु से बड़ा है। नंदु, तारक से बड़ा है। तारक, ऑली से छोटा है। प्रेम, बिंदु से बड़ा है। किटु, प्रेम से बड़ा है। सबसे बड़ा कौन है?

- (a) Bindu/ बिंदु
- (b) Prem/ प्रेम
- (c) Kitu/ किटु
- (d) Can't be determined

Q18. From the given alternatives select the word which can be formed using the letters given in the word. निम्नलिखित विकल्पों में से उस शब्द को चुनें जिसे दिए गए शब्द के वर्णों का प्रयोग करके निर्मित किया जा सकता है।

ENCOURAGEMENT

- (a) ENGAGEMENT
- (b) ENCOUNTER
- (c) GENERATION
- (d) GENERAL

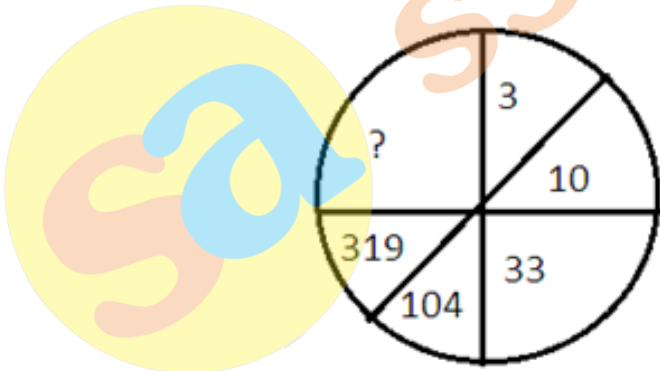
Q19. If NARGRUED is code for GRANDEUR which word is coded as SERPEVRE?

यदि GRANDEUR को NARGRUED कोड किया जाता है तो कौन सा कोड SERPEVRE के लिए होगा?

- (a) PERSEVER
- (b) PRESERVE
- (c) PRESERVER
- (d) PREVERSE

Q20. Find the missing number from the given responses.

दिए गए शब्दों में से लुप्त संख्या ज्ञात करें।



- (a) 666
- (b) 872
- (c) 1236
- (d) 966

Q21.

TEST SERIES

Bilingual



SSC
KA SOORMA
CHSL TIER-I

125+ TOTAL TESTS

If > stands for division, < stands for addition, + stands for equals to, - stands for greater than, × stands for subtraction, = stands for multiplication and '^' stands for less than, then which one of the following equation is correct?

यदि > का अर्थ भाग है, < का अर्थ जोड़ना है, + का अर्थ बराबर है, - का अर्थ से बड़ा है, × का अर्थ घटाना है, = का अर्थ गुणा है और '^' का अर्थ से कम है, तो निम्न में से कौन सा समीकरण सही है?

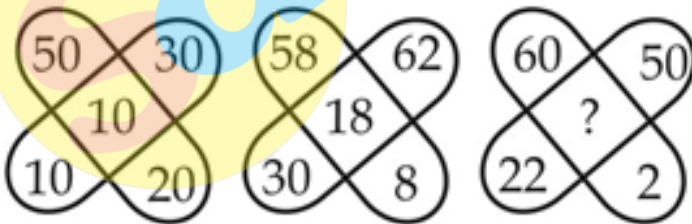
- (a) $7 \times 5 < 4 > 3 \wedge 2$
 (b) $7 = 5 < 4 - 3 = 2$
 (c) $7 \times 5 + 4 = 3 < 2$
 (d) $7 - 5 > 4 = 3 \wedge 2$

Q22.

8	7	4
3	4	5
5	4	6
29	32	?

- (a) 35
 (b) 26
 (c) 32
 (d) 45

Q23.

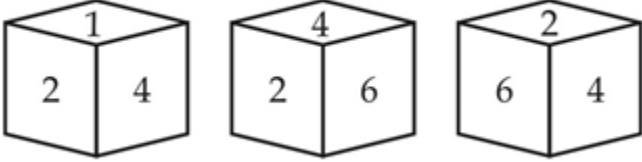


- (a) 25
 (b) 30
 (c) 35
 (d) 40

Q24. Three positions of a dice are given below. Identify the number on the opposite of side showing 4.

एक पासे की चार स्थितियां दी गई हैं। जब पासे के दाएं ओर संख्या 4 है और शीर्ष पर संख्या 1 है तो बाएँ ओर संख्या क्या होगा?

Question Figure :

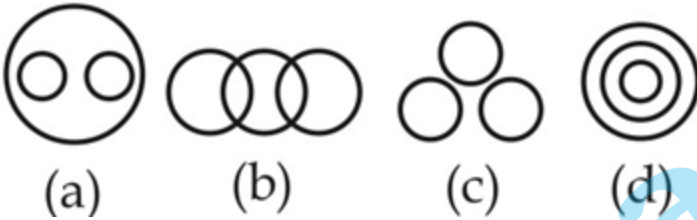


- (a) 6
- (b) 2
- (c) 3
- (d) Can't be determined

Q25. Identify the diagram that best represents the relationship among classes given below :

निम्नलिखित आरेखों में से बताएं कि कौन सा दिए गए वर्गों के मध्य संबंधों की सुव्याख्या करता है:

Ladies, Gents, Teachers/ महिलाएं, पुरुष, शिक्षक



- (a) a
- (b) b
- (c) c
- (d) d

TEST SERIES

Bilingual



SSC KA SOORMA CGL & CHSL TIER-I

185+ TOTAL TESTS

SSCadda.com

