

## Reasoning Mega Quiz for SSC CGL

Q1. A's weight is more than the weight of C, and A has the second highest weight. E weighs more than A. B weighs more than D. Who is the heaviest?

A का वजन C के वजन से अधिक है, और A का दूसरा उच्चतम वजन है। E का वजन A से अधिक है। B का वजन D से अधिक है। सबसे भारी कौन है?

- (a) B
- (b) D
- (c) E
- (d) A

Q2. A series is given with one term missing. Choose the correct alternative from the given ones that will complete the series.

एक श्रंखला दी गई है जिसमें एक टर्म अज्ञात हैं आपको दिए गए विकल्पों में से उस विकल्प का चयन करना है जो इस श्रंखला को पूरा करेगा?

HK, ?, PQ, TT, XW

- (a) LN
- (b) NO
- (c) LK
- (d) NM

Q3. A series is given with one term missing. Choose the correct alternative from the given ones that will complete the series.

एक श्रंखला दी गई है जिसमें एक टर्म अज्ञात हैं आपको दिए गए विकल्पों में से उस विकल्प का चयन करना है जो इस श्रंखला को पूरा करेगा?

JN, OR, UW, BC, ?

- (a) KM
- (b) JJ
- (c) JK
- (d) KJ

Q4. Nikhil is 8 yr younger than his brother Rohan. How old will Rohan be when he is twice as old as Nikhil?

निखिल अपने भाई रोहन से 8 वर्ष छोटा है। जब रोहन निखिल से दोगुणा हो जाएगा तो वह कितने वर्ष का होगा?

- (a) 4 yr
- (b) 6 yr
- (c) 8 yr
- (d) 16 yr

TEST SERIES

Bilingual



SSC CGL TIER I 2018

Previous Year Questions

21 Full Length Mocks

Validity : 12 Months

**Q5. From the given alternative words, select the word which cannot be formed using the letters of the given word:**

दिए गए विकल्पों में से शब्द उस शब्द का चयन करें जिसे दिए गए शब्द के अक्षरों का उपयोग करके नहीं गठित किया जा सकता है।

**ORGANISATION**

- (a) GRANT
- (b) NATION
- (c) GIANTS
- (d) ORANGE

**Q6. If EARTHQUAKE is coded as EKAUQHTRAE then ELECTORATE will be coded as ?**

यदि EARTHQUAKE को EKAUQHTRAE के रूप में लिखा जाता है तो ELECTORATE किस प्रकार लिखा जाएगा?

- (a) ETAROELECT
- (b) EARTOTCELE
- (c) ETAROTCELE
- (d) ETAROCTELE

**Q7. If a denotes  $\times$ , b denotes  $\div$ , c denotes  $+$  and d denotes  $-$ , then  $8 a 3 c 24 b 12 d 19 = ?$**

यदि a 'x' को दर्शाता है, b '÷' को दर्शाता है, c '+' को दर्शाता है और d '-' को दर्शाता है, तो  $8 a 3 c 24 b 12 d 19 = ?$

- (a) 17
- (b) 7
- (c) 14
- (d) 8

L1Difficulty 3

QTags MATHEMATICAL OPERATION

**Q8. Given equations are solved on the basis of a certain system. Find the correct answer for the unsolved equation on that basis:**

कुछ समीकरण एक निश्चित प्रणाली से हल किए जाते हैं। उसी आधार पर दिए गए चार विकल्पों में से प्रश्न के लिए सही उत्तर चुनकर लिखिए।

$$2 + 4 + 6 = 48 \text{ and}$$

$$3 + 2 + 8 = 48 ,$$

$$\text{then } 2 + 5 + 7 = ?$$

- (a) 48
- (b) 70
- (c) 14
- (d) 59

Q9. Select the missing number from the given alternatives

दिए गए विकल्पों में से अज्ञात संख्या का चयन करें.

28	20	7
84	35	12
45	?	9

- (a) 19
- (b) 22
- (c) 26
- (d) 25

Q10. If North is called North west, West is called South west, South is called South east and so on. A person walks straight from South west to North east and then turns left. Walks straight and again turns left. Now at what direction he is facing?

यदि उत्तर को उत्तर पश्चिम कहा जाता है, पश्चिम को दक्षिण पश्चिम कहा जाता है, दक्षिण को दक्षिण पूर्व कहा जाता है और आगे भी ऐसा ही चलता है। एक व्यक्ति दक्षिण पश्चिम से सीधे उत्तर पूर्व की ओर चलता है और फिर बाएं मुड़ जाता है। सीधा चलता है और फिर से बाएं मुड़ जाता है। अब उसने किस दिशा की ओर मुख कर रहा है?

- (a) South/दक्षिण
- (b) North east/उत्तर पूर्व
- (c) North/उत्तर
- (d) South west/दक्षिण पश्चिम

Q11. A's weight is more than the weight of C, and A has the second highest weight. E weighs more than A. B weighs more than D. Who is the heaviest?

A का वजन C के वजन से अधिक है, और A का दूसरा उच्चतम वजन है। E का वजन A से अधिक है। B का वजन D से अधिक है। सबसे भारी कौन है?

- (a) B
- (b) D
- (c) E
- (d) A

Q12. A series is given with one term missing. Choose the correct alternative from the given ones that will complete the series.

एक श्रंखला दी गई है जिसमें एक टर्म अज्ञात है आपको दिए गए विकल्पों में से उस विकल्प का चयन करना है जो इस श्रंखला को पूरा करेगा?

HK, ?, PQ, TT, XW

- (a) LN
- (b) NO
- (c) LK
- (d) NM

TEST SERIES

Bilingual



**FCI 2019**  
**Manager Phase-I**

**30 TOTAL TESTS**

**Validity : 12 Months**

**Q13. A series is given with one term missing. Choose the correct alternative from the given ones that will complete the series.**

एक श्रंखला दी गई है जिसमें एक टर्म अज्ञात है आपको दिए गए विकल्पों में से उस विकल्प का चयन करना है जो इस श्रंखला को पूरा करेगा?

**JN, OR, UW, BC, ?**

- (a) KM
- (b) JJ
- (c) JK
- (d) KJ

**Q14. Nikhil is 8 yr younger than his brother Rohan. How old will Rohan be when he is twice as old as Nikhil?**

निखिल अपने भाई रोहन से 8 वर्ष छोटा है. जब रोहन निखिल से दोगुणा हो जाएगा तो वह कितने वर्ष का होगा?

- (a) 4 yr
- (b) 6 yr
- (c) 8 yr
- (d) 16 yr

**Q15. From the given alternative words, select the word which cannot be formed using the letters of the given word:**

दिए गए विकल्पों में से शब्द उस शब्द का चयन करें जिसे दिए गए शब्द के अक्षरों का उपयोग करके नहीं गठित किया जा सकता है।

**ORGANISATION**

- (a) GRANT
- (b) NATION
- (c) GIANTS
- (d) ORANGE

**Q16. If EARTHQUAKE is coded as EKAUQHTRAE then ELECTORATE will be coded as ?**

यदि EARTHQUAKE को EKAUQHTRAE के रूप में लिखा जाता है तो ELECTORATE किस प्रकार लिखा जाएगा?

- (a) ETAROELECT
- (b) EARTOTCELE
- (c) ETAROTCELE
- (d) ETAROCTELE

**Q17. If a denotes  $\times$ , b denotes  $\div$ , c denotes + and d denotes -, then  $8 a 3 c 24 b 12 d 19 = ?$**

यदि a 'x' को दर्शाता है, b '÷' को दर्शाता है, c '+' को दर्शाता है और d '-' को दर्शाता है, तो  $8 a 3 c 24 b 12 d 19 = ?$

- (a) 17
- (b) 7
- (c) 14
- (d) 8

**Q18. Given equations are solved on the basis of a certain system. Find the correct answer for the unsolved equation on that basis:**

कुछ समीकरण एक निश्चित प्रणाली से हल किए जाते हैं। उसी आधार पर दिए गए चार विकल्पों में से प्रश्न के लिए सही उत्तर चुनकर लिखिए।

$$2 + 4 + 6 = 48 \text{ and}$$

$$3 + 2 + 8 = 48 ,$$

$$\text{then } 2 + 5 + 7 = ?$$

- (a) 48
- (b) 70
- (c) 14
- (d) 59

**Q19. Select the missing number from the given alternatives**

दिए गए विकल्पों में से अज्ञात संख्या का चयन करें.

28	20	7
84	35	12
45	?	9

- (a) 19
- (b) 22
- (c) 26
- (d) 25

**Q20. If North is called North west, West is called South west, South is called South east and so on. A person walks straight from South west to North east and then turns left. Walks straight and again turns left. Now at what direction he is facing?**

यदि उत्तर को उत्तर पश्चिम कहा जाता है, पश्चिम को दक्षिण पश्चिम कहा जाता है, दक्षिण को दक्षिण पूर्व कहा जाता है और आगे भी ऐसा ही चलता है। एक व्यक्ति दक्षिण पश्चिम से सीधे उत्तर पूर्व की ओर चलता है और फिर बाएं मुड़ जाता है। सीधा चलता है और फिर से बाएं मुड़ जाता है। अब उसने किस दिशा की ओर मुख कर रहा है?


- (a) South/दक्षिण
- (b) North east/उत्तर पूर्व
- (c) North/उत्तर
- (d) South west/दक्षिण पश्चिम

**Q21. In the following question, select the odd word from the given alternatives.**

निम्नलिखित प्रश्न में, दिए गये विकल्पों में से विषम शब्द का चयन कीजिये.

- (a) Walls / दीवारें
- (b) Doors / दरवाजे
- (c) Floor/ फर्श
- (d) Foundation / संस्थान

6 Months Subscription



**PREMIUM PLUS**

**SSC CGL**

**Q22. In the following question, select the odd letters from the given alternatives.**

निम्नलिखित प्रश्न में, दिए गये विकल्पों में से विषम वर्ण का चयन कीजिये.

- (a) DU
- (b) KP
- (c) JQ
- (d) GT

**Q23. A series is given with one term missing. Select the correct alternative from the given ones that will complete the series.**

नीचे दिए गये प्रश्नों में, एक श्रृंखला दी गई है जिसमें एक पद अज्ञात है आपको दिए गए विकल्पों में से उस विकल्प का चयन करना है जो इस श्रृंखला को पूरा करेगा?

**BD, CE, DF, EG, ?**

- (a) FG
- (b) DH
- (c) FH
- (d) EH

**Q24. A series is given with one term missing. Select the correct alternative from the given ones that will complete the series.**

एक श्रृंखला दी गई है जिसमें एक पद अज्ञात है आपको दिए गए विकल्पों में से उस विकल्प का चयन करना है जो इस श्रृंखला को पूरा करेगा?

**WVU, TSR, QPO, ?**

- (a) NML
- (b) LMN
- (c) LMK
- (d) KLM

**Q25. In the following question, select the word which cannot be formed using the letters of the given word.**

निम्नलिखित प्रश्न में उस शब्द का चयन कीजिये जिसे दिए गये शब्द के वर्णों का प्रयोग करके नहीं बनाया जा सकता.

**Liberation**

- (a) Ratio
- (b) Aion
- (c) Bear
- (d) Liberal

**Q26. If "-" denotes "divided by", "+" denotes "subtracted from", "×" denotes "added to" and "÷" denotes "multiplied by", then**

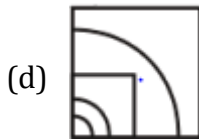
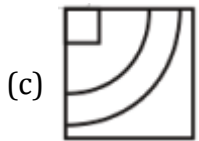
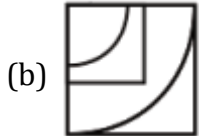
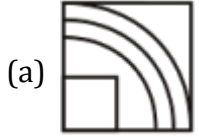
$$4 \div 16 \times 5 + 4 - 2 = ?$$

यदि "-" का अर्थ "से भाग", "+" का अर्थ "से घटा", "×" का अर्थ "जमा" और "÷" का अर्थ "से गुणा", तो  $4 \div 16 \times 5 + 4 - 2 = ?$

- (a) 2
- (b) 43
- (c) 22
- (d) 67

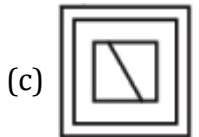
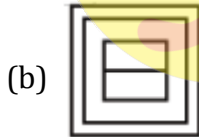
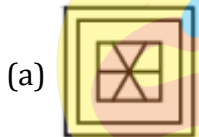
Q27. Which answer figure will complete the pattern in the question figure?

कौन सी उत्तर आकृति प्रश्न आकृति में पैटर्न को पूरा करेगी?



Q28. From the given answer figures, select the one in which the question figure is hidden/embedded.

दी गयी उत्तर आकृति से, उसका चयन कीजिए जिसमें प्रश्न आकृति छिपी/संकलित है?



Q29. A piece of paper is folded and punched as shown below in the question figures. From the given answer figures, indicate how it will appear when opened?

एक कागज़ के टुकड़े को मोड़ कर पंच किया गया जैसा कि नीचे दर्शाया गया है. नीचे दिए गये चित्रों से ज्ञात कीजिये कि खोले जाने पर यह किस प्रकार का दिखेगा.



- (a)
- (b)
- (c)
- (d)

Q30. In the following question, select the related word from the given alternatives.

निम्नलिखित प्रश्न में, दिए गये विकल्पों में से सम्बन्धित शब्द का चयन कीजिये.

Car : Road :: Rail : ?

गाड़ी : सड़क :: रेल : ?

- (a) Water/ पानी  
 (b) Air/ हवा  
 (c) Road/ सड़क  
 (d) Track/ ट्रैक

TEST SERIES

Bilingual



SSC CPO 2019  
 TIER-I

15 Full-Length Mocks

Validity : 12 Months