

Q1. Find the missing (?) in the series:

दी गयी श्रृंखला में अज्ञात (?) ज्ञात करें

....., FHJ, KMO, PRT, ?

- (a) UVZ
- (b) UXZ
- (c) UVW
- (d) UWY

Q2. Mother of K's father is the sister of G. S is the daughter of G. How is S related to K's father?

K के पिता की माँ G की बहन है. S, G की बेटी है. S, K के पिता से कैसे संबंधित है?

- (a) Cousin sister/ कजिन बहन
- (b) Mother/माँ
- (c) Paternal Aunt/ पैतृक आंट
- (d) cannot be determined/ निर्धारित नहीं किया जा सकता है

Q3. Courtroom: Judge :: Stadium : _____

कोर्ट रूम: जज: स्टेडियम: _____

- (a) Landlord/ मकान मालिक
- (b) Organizer/ आयोजक
- (c) Referee/ रेफरी
- (d) Promoter/ प्रमोटर

Q4. Find out the odd word / letters / number / number pair from the given alternatives.

दिए गए विकल्पों में से विषम शब्द/ वर्ण/संख्या का चयन करे.

- (a) Aizawl / आइजोल
- (b) Agartala/अगरतला
- (c) Shillong /शिल्लोंग
- (d) Darjeeling/दार्जीलिंग

Q5. Find out the odd word / letters / number / number pair from the given alternatives.

RRB NTPC 2019
PRIME PACKAGE

100 + TOTAL TESTS

- 40 Full Length Mocks
- 30 Section Wise Tests
- 10 Previous Years papers
- 20 +Topic Wise tests
- eBooks

BILINGUAL

दिए गए विकल्पों में से विषम शब्द/ वर्ण/संख्या का चयन करे.

- (a) VT
- (b) FD
- (c) PN
- (d) JM

Q6. Find out the odd word / letters / number / number pair from the given alternatives.

दिए गए विकल्पों में से विषम शब्द/ वर्ण/संख्या का चयन करे.

- (a) 13981
- (b) 93172
- (c) 47542
- (d) 67325

Q7. Find out the odd word / letters / number / number pair from the given alternatives.

दिए गए विकल्पों में से विषम शब्द/ वर्ण/संख्या का चयन करे.

- (a) 5712
- (b) 6212
- (c) 3824
- (d) 7831

Q8. In a certain code, 324 means 'are you alright', 783 means 'you come home' and 9271 means 'we are at home'. Which digit represents 'come'?

किसी निश्चित कूट में, 324 का अर्थ 'are you alright' है, 783 का अर्थ 'you come home' है और 9271 का अर्थ 'we are at home' है. कौन सी संख्या 'come' का प्रतिनिधित्व करती है?

- (a) 8
- (b) 9
- (c) 7
- (d) 3

Q9. Rearrange the jumbled letters to make meaningful words and then select the one which is different.

अर्थपूर्ण शब्द बनाने के लिए जंबल किए गए अक्षरों को व्यवस्थित करें और फिर जो अलग है उसका चयन करें।

- (a) OMESU
- (b) ROTINOM
- (c) RETIAW
- (d) RETNIRP

Q10. Find the odd pair out.

विषम युग्म का चयन करें

- (a) Nitrogen : Air/नाइट्रोजन : हवा
- (b) Hydrogen: Water/हाइड्रोजन : पानी
- (c) Uranium : Coins/यूरेनियम : सिक्के

(d) Sulphur : Match stick/सल्फर : मैच स्टिक

Q11. Find out the odd word/letters/number/number pair from the given alternatives.

दिए गये विकल्पों में से विषम शब्द/वर्ण/संख्या का चयन करे

(a) Herb/ जड़ी बूटी

(b) Shrub/ झाड़ी

(c) Tree/ पेड़

(d) Root/जड़

Q12. Find out the odd word/letters/number/number pair from the given alternatives.

दिए गये विकल्पों में से विषम शब्द/वर्ण/संख्या का चयन करे

(a) MS

(b) RX

(c) BI

(d) JP

Q13. Find out the odd word/letters/number/number pair from the given alternatives.

दिए गये विकल्पों में से विषम शब्द/वर्ण/संख्या का चयन करे

(a) 82

(b) 75

(c) 64

(d) 31

Q14. Find out the odd word/letters/number/number pair from the given alternatives.

दिए गये विकल्पों में से विषम शब्द/वर्ण/संख्या का चयन करेs

(a) 512

(b) 100

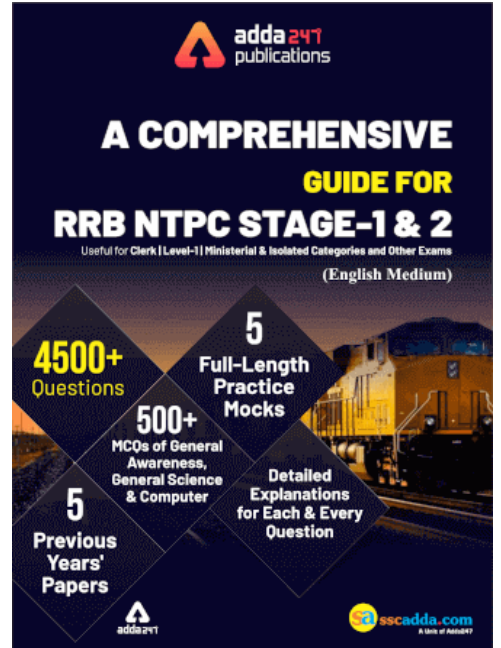
(c) 125

(d) 216

Directions (15-18): A series is given with one term missing. Choose the correct alternative from the given ones that will complete the series.

एक श्रंखला दी गई है जिसमें एक टर्म अज्ञात हैं आपको दिए गए विकल्पों में से उस विकल्प का चयन करना है जो इस श्रंखला को पूरा करेगा?

Q15. Cell, Tissue, Organ, ?



सेल, ऊतक, अंग,?

- (a) Respiratory system / श्वसन प्रणाली
- (b) Organ system/ अंग प्रणाली
- (c) Digestive system / पाचन तंत्र
- (d) Nervous system/ तंत्रिका तंत्र

Q16. ZA, TG, NM, ?

- (a) HS
- (b) SH
- (c) GT
- (d) TG

Q17. NM, PK, SI, ?

- (a) VE
- (b) WF
- (c) VG
- (d) WG

Q18. 1, 5, 30, 210, 1680, ?

- (a) 15120
- (b) 13440
- (c) 11760
- (d) 8400

Q19. In the following question, two statements are given each followed by two conclusions I and II. You have to consider the statements to be true even if they seem to be at variance from commonly known facts. You have to decide which of the given conclusions, if any, follows from the given statements.

नीचे दिए गये प्रश्न में, दो कथन दिए गए हैं जिनके नीचे दो निष्कर्ष I और II दिए गए हैं. आपको दिए गए कथनों को सत्य मानना है भले ही वे सर्वज्ञात तथ्यों से भिन्न प्रतीत होते हों. फिर आपको निर्धारित करना है कि यदि दिए गये निष्कर्षों में से कौन सा दिए गए कथनों का अनुसरण करता है.

Statements:/कथन:

- (I) $1 < 2$
- (II) $2 < 3$

Conclusion:/निष्कर्ष:

- (I) $1 < 3$
- (II) $2 < 3$

- (a) Conclusion I follows /निष्कर्ष I अनुसरण करता है
 (b) Conclusion II follows/निष्कर्ष II अनुसरण करता है
 (c) Neither I nor II follows/ न तो I और न ही II अनुसरण करता है
 (d) Both I and II follows/ I और II दोनों अनुसरण करते हैं

Q20. The sum of the ages of Rohit and Ankit is 78. Rohit's age is twice the age of Ankit. What is the age (in years) of Rohit?

रोहित और अंकित की आयु का योग 78 है. रोहित की आयु अंकित से दोगुनी है.

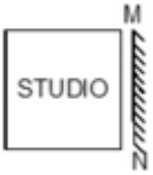
रोहित की आयु (वर्षों में) कितनी है?





- (a) 26
 (b) 52
 (c) 54
 (d) 48



Q21. If a mirror is placed on the line MN, then which of the answer figures is the right image of the given figure?

यदि रेखा MN पर एक दर्पण रखा जाए, तो निम्नलिखित में से कौन सा उत्तर चित्र प्रशिन्यत्र कि सही छवि होगी?



- (a) 
 (b) 
 (c) 
 (d) 

Q22. Identify the diagram that best represents the relationship among the given classes.

उस आरेख को पहचानें जो दिए गए वर्गों के बीच संबंधों का सबसे अच्छा प्रतिनिधित्व करता है।

Liquid, Pizza, Milk

तरल, पिज़्ज़ा, दूध

(a)



(b)



(c)



(d)



Q23. A piece of paper is folded and punched as shown below in the question figures. From given answer figures, indicate how it will appear when opened.

एक कागज़ के टुकड़े को मोड़ कर पंच किया गया जैसा कि नीचे दर्शाया गया है। नीचे दिए गये चित्रों से ज्ञात कीजिये कि खोले जाने पर यह किस प्रकार का दिखेगा।



(a)



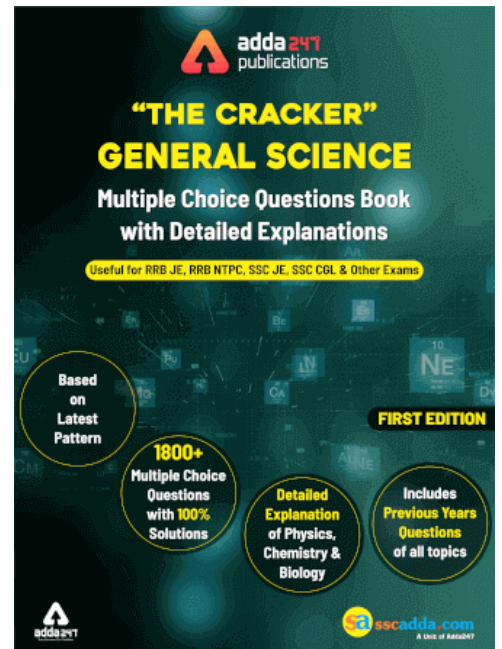
(b)



(c)



(d)



Q24. In a company all Mondays and Sundays are offs. If a month starts with a Monday and has 31 days then how many offs will be there in that month?

एक कंपनी में सभी सोमवार और रविवार छुट्टी है। यदि एक महीने की शुरुआत सोमवार से होती है और उसमें 31 दिन होते हैं तो उस महीने में कितनी छुट्टी होंगी?

- (a) 7
- (b) 8
- (c) 9
- (d) 5

Q25. Arrange the given words in the sequence in which they occur in the dictionary.

दिए गए शब्दों को शब्दावली के अनुसार व्यवस्थित कीजिये.

- i. Speaker
- ii. Surreptitious
- iii. Spontaneous
- iv. Spurious

- (a) iv, ii, i, iii
- (b) iii, ii, iv, i
- (c) iv, iii, i, ii
- (d) i, iii, iv, ii

Q26. In a certain code language, "CONDITION" is written as "@#^\$*!#^". How is "NOTION" written in that code language?

किसी निश्चित कूट भाषा में, "CONDITION" को "@#^\$*!#^" के रूप में लिखा जा सकता है. उसी कूट भाषा में "NOTION" किस प्रकार लिखा जाएगा?

- (a) ^#!*^#
- (b) ^!#*#^
- (c) ^#*!#^
- (d) ^#!*#^

Q27. In the following question, select the missing number from the given series.

निम्नलिखित प्रश्न में, दी गयी श्रृंखला में अज्ञात संख्या का चयन करें

8	5	6
7	?	8
57	46	49

- (a) 4
- (b) 2
- (c) 9

(d) 5

Q28. If "*" denotes "added to", "&" denotes "divided by", "@" denotes "multiplied by" and "%" denotes "subtracted from", then $135 \& 15 @ 10 \% 3 * 6 = ?$

यदि "*" का अर्थ 'जमा', "&" का अर्थ 'से विभाजित', "@" का अर्थ "से गुणा" और "%" का अर्थ 'घटा' है, तो $135 \& 15$

$@ 10 \% 3 * 6 = ?$

- (a) 47
(b) 89
(c) 93
(d) 100

Q29. In the following question, which one set of letters when sequentially placed at the gaps in the given letter series shall complete it?

निम्नलिखित प्रश्न में, दिए गए पत्र श्रृंखला में अंतराल पर अनुक्रमिक रूप से रखे जाने पर अक्षरों का कौन सा सेट इसे पूरा करेगा?

m_o_mn_p_no_

- (a) mmnno
(b) ooppn
(c) mnooo
(d) npomp

Q30. A man moves towards the east and then takes a left turn. After covering some distance in that direction, he takes a right turn and finally, takes another right turn. Which direction is the man facing now?

एक आदमी पूर्व की ओर जाता है और फिर बाएँ ओर मुड़ता है। उस दिशा में कुछ दूरी तय करने के बाद, वह दाएँ मुड़ जाता है और अंत में, दोबारा दाएँ मुड़ता है। अब आदमी किस दिशा का सामना कर रहा है?

- (a) West/ पश्चिम
(b) East/ पूर्व
(c) South/ दक्षिण
(d) North/उत्तर

