

Directions (1-3): Select the related word/letters/numbers from the given alternatives:  
दिए गये विकल्पों में से सम्बन्धित शब्द/अक्षर/संख्या चुनिए।

Q1. Preamble : Constitution :: ? : ?

प्रस्तावना: संविधान :: ? : ?

- (a) Word : Dictionary / शब्द: शब्दकोश
- (b) Contents : Magazine/ सामग्री: पत्रिका
- (c) Explanation : Poetry / व्याख्या: कविता
- (d) Preface : Book/ प्रस्तावना: पुस्तक

Q2. EFG : VUT :: KLM : ?

- (a) KJH
- (b) PON
- (c) ZXY
- (d) FDC

Q3. 85 : 42 :: 139 : ?

- (a) 68
- (b) 69
- (c) 70
- (d) 67

Q4. Find the odd word/letters/number from the given alternatives.

दिए गये विकल्पों में से विषम शब्द/अक्षर/संख्या ज्ञात कीजिए।

- (a) Geometry/ ज्यामिति
- (b) Trigonometry/ त्रिकोणमिति
- (c) Mensuration/ क्षेत्रमिति
- (d) Mathematics/ गणित

Q5. Find the odd word/letters/number from the given alternatives.

दिए गये विकल्पों में से विषम शब्द/अक्षर/संख्या ज्ञात कीजिए।

- (a) BDGK
- (b) JLOS
- (c) NPSW
- (d) MORU

Q6. Find the odd word/letters/number from the given alternatives.

दिए गये विकल्पों में से विषम शब्द/अक्षर/संख्या ज्ञात कीजिए।

- (a) 64
- (b) 125
- (c) 225
- (d) 216



Q7. Consider the given statement/s to be true and decide which of the given conclusions/assumptions can definitely be drawn from the given statement.

दिए गए कथनों को सत्य मानिये और निर्णय लीजिए कि दिए गए निष्कर्षों में से कौन सा दिए गये निष्कर्षों/पूर्वधारणाओं से निश्चित रूप से निकाला जा सकता है।

Statements: 1. All parrots are chicks./ कथन : 1. सभी पैरेट, चिक्क हैं

2. All birds are chicks./ 2. सभी बर्ड, चिक्क हैं

Conclusions: I. Some birds are parrots./ निष्कर्ष: I. कुछ बर्ड, पैरेट हैं

II. Some chicks are parrots./ II. कुछ चिक्क, पैरेट हैं

(a) Both conclusion I and conclusion II follow/ निष्कर्ष I और निष्कर्ष II दोनों अनुसरण करते हैं

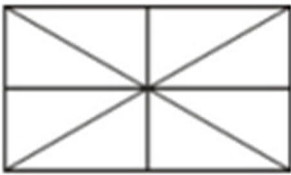
(b) None of the two conclusions follows/ कोई दो निष्कर्ष अनुसरण नहीं करते हैं

(c) Only conclusion I follows/ केवल निष्कर्ष I अनुसरण करता है

(d) Only conclusion II follows/ केवल निष्कर्ष II अनुसरण करता है

Q8. How many triangles are there in the given figure?

दी गयी आकृति में कितने त्रिभुज हैं?



(a) 12

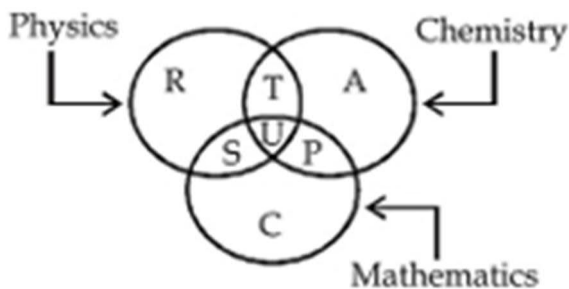
(b) 8

(c) 16

(d) 10

Q9. The diagram below represents the students who study Physics, Chemistry and Mathematics. Study the diagram and identify the region which represents students who study both Physics and Chemistry but not Mathematics?

नीचे दिया गया आरेख उन विद्यार्थियों को दर्शाती है जो भौतिकी, रसायन विज्ञान और गणित का अध्ययन करते हैं। आरेख का अध्ययन कीजिए और उस क्षेत्र की पहचान कीजिए जो उन विद्यार्थियों को दर्शाता है जो भौतिकी और रसायन विज्ञान दोनों का अध्ययन करते हैं लेकिन गणित का नहीं?



(a)  $T + S + U + P$

(b) C

(c)  $R + T + A + U + P + S$

(d) T

## RRB NTPC 2019

# PRIME PACKAGE

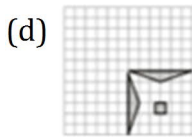
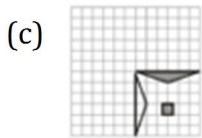
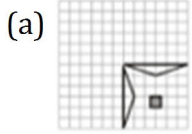
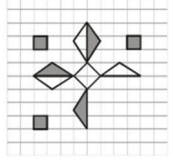
100 + TOTAL TESTS

- 40 Full Length Mocks
- 30 Section Wise Tests
- 10 Previous Years papers
- 20 + Topic Wise tests
- eBooks

BILINGUAL

Q10. Which answer figure will complete the pattern in the question figure?

कौन सी उत्तर आकृति प्रश्न आकृति के प्रारूप को पूरा करेगी?



Q11. Select the related word/letters/numbers from the given alternatives:

दिए गए विकल्पों में से सम्बंधित शब्द/वर्ण/संख्या का चयन करें.

Peacock : India :: Bear : ?

मोर : भारत :: भालू : ?

- (a) Australia/ऑस्ट्रेलिया
- (b) America/अमेरिका
- (c) England/इंग्लैंड
- (d) Russia/रूस

Q12. Select the related word/letters/numbers from the given alternatives:

दिए गए विकल्पों में से सम्बंधित शब्द/वर्ण/संख्या का चयन करें.

BDCE : FHGI :: RTSU : ?

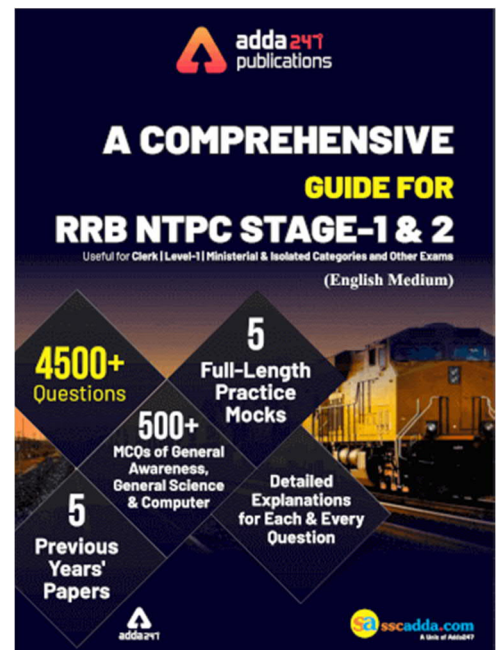
- (a) VYWX
- (b) XYVW
- (c) VWXY
- (d) VXWY

Q13. Select the related word/letters/numbers from the given alternatives:

दिए गए विकल्पों में से सम्बंधित शब्द/वर्ण/संख्या का चयन करें.

6 : 5 :: 8 : ?

- (a) 2
- (b) 4
- (c) 6
- (d) 10



Q14. Find the odd words / letters / numbers from the given alternatives.

दिए गए विकल्पों में से विषम शब्द/वर्ण/संख्या का चयन करें.

- (a) Moon/ चन्द्रमा
- (b) Mars/ मंगल ग्रह
- (c) Venus/ शुक्र
- (d) Jupiter/ बृहस्पति

Q15. Find the odd words / letters / numbers from the given alternatives.

दिए गए विकल्पों में से विषम शब्द/वर्ण/संख्या का चयन करें.

- (a) ACEG
- (b) IKMO
- (c) FHJL
- (d) TUWY

Q16. Find the odd words / letters / numbers from the given alternatives.

दिए गए विकल्पों में से विषम शब्द/वर्ण/संख्या का चयन करें.

- (a) 6
- (b) 24
- (c) 64
- (d) 120

Q17. Arrange the following words according to the dictionary order

दिए गए शब्दों को शब्दावली के अनुसार व्यवस्थित कीजिये.

- 1. Approach
  - 2. Appropriate
  - 3. Approval
  - 4. Approve
- (a) 1342
  - (b) 1243
  - (c) 3412
  - (d) 1234

Directions(18-19): A series is given, with one term missing. Choose the correct alternative from the given ones that will complete the series.

एक श्रंखला दी गई है जिसमें एक टर्म अज्ञात है आपको दिए गए विकल्पों में से उस विकल्प का चयन करना है जो इस श्रंखला को पूरा करेगा?

Q18. ajs , gpy , ? , sbk , yhq

- (a) dmv
- (b) mve
- (c) oua
- (d) qzi


 <b>SSC MTS 2019 PAPER -I</b>
<b>Based on TCS Pattern</b>
<b>15 Full Length Mocks</b> BILINGUAL

Q19. 5, 9, 6, 11, 7, ?

- (a) 13
- (b) 15
- (c) 17
- (d) 19

Q20. Anand is son of Prema. Rajeev is brother of Prema. Neha is daughter of Rashmi. Neha is sister of Rajeev. How is Anand related to Rashmi ?

आनंद प्रेमा का बेटा है। राजीव प्रेमा का भाई है। नेहा रश्मि की बेटी है। नेहा राजीव की बहन है। आनंद रश्मि से कैसे संबंधित है?

- (a) Son/बेटा
- (b) Grand Son/ग्रैंडसन
- (c) Grand father/ग्रैंडफादर
- (d) Grand daughter/ग्रैंडडॉटर

Directions (21-25): In the following question, select the related words/letters /numbers from the given alternatives.

दिए गए विकल्पों में से सम्बंधित शब्दों/अक्षरों/ संख्याओं को चुनिए।

Q21. Coffee : Caffeine :: Tobacco : ?

कॉफी : कैफीन :: तम्बाकू : ?

- (a) Tanin/ टेनिन
- (b) Novocaine/ नोवोकेन
- (c) Alexin/ अलेक्सिन
- (d) Nicotin/ निकोटिन

Q22. 3265 : 4376 :: 4673 : ?

- (a) 2154
- (b) 3652
- (c) 5487
- (d) 5787

Q23. 583 : 293 :: 488 : ?

- (a) 291
- (b) 378
- (c) 487
- (d) 581

Q24. Joly : Delight :: Gloomy : ?

प्रसन्न : आनंद :: उदास : ?

- (a) Dull/ कुंठित
- (b) Vague/ अस्पष्ट
- (c) Plain/
- (d) Silent/ मौन

Q25. Jewellery : Gold :: Furniture : ?

आभूषण : सोना :: फर्नीचर : ?

- (a) Wood/ लकड़ी
- (b) Paint/ पेंट
- (c) Table/ मेज़
- (d) Tree/ पेड़

