

Q1. In the following question, select the related word pair from the given alternatives.

निम्नलिखित प्रश्न में, दिए गए विकल्पों में से सम्बंधित शब्द युग्म का चयन करें

Power : Watt :: ? : ?

पाँवर : वाट :: ? : ?

- (a) Pressure : Newton/ दबाव: न्यूटन
- (b) Force : Pascal/ बल: पास्कल
- (c) Resistance : Mho/ प्रतिरोध: एमएचओ
- (d) Work : Joule/ काम: जूल

Q2. In the following question, select the related letters from the given alternatives.

निम्नलिखित प्रश्न में, दिए गए विकल्पों में से सम्बंधित शब्द का चयन करें

NPBG : OQCH :: AJOT : ?

- (a) BKPU
- (b) BUPK
- (c) BHKP
- (d) HBKU

Q3. In the following question, select the related number from the given alternatives.

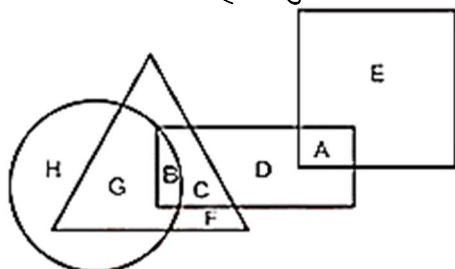
निम्नलिखित प्रश्न में, दिए गये विकल्पों में से सम्बंधित संख्या का चयन करें

101 : 10201 :: 107 : ?


- (a) 10707
- (b) 10749
- (c) 11449
- (d) 11407

Q4. In the following figure, square represent Philosophers, triangle represents Police officer, circle represents Pharmacists and rectangle represents Americans. Which set of letters represents Americans who are police officers?

निम्नलिखित आकृति में, वर्ग दार्शनिकों का प्रतिनिधित्व करता है, त्रिभुज पुलिस अधिकारी का प्रतिनिधित्व करता है, सर्कल फार्मासिस्ट का प्रतिनिधित्व करता है और आयत अमेरिकियों का प्रतिनिधित्व करता है। वर्णों का कौन सा सेट अमेरिकियों का प्रतिनिधित्व करता है जो पुलिस अधिकारी हैं?

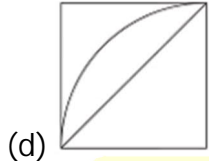
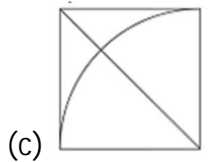
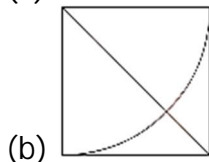
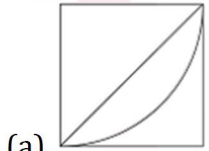
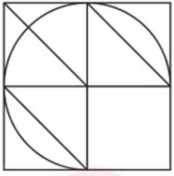


- (a) G,F,D,A
- (b) B,C
- (c) C,D
- (d) B,C,G,F



Q5. Which answer figure will complete the pattern in the question figure?

कौन सी उत्तर आकृति, प्रश्न आकृति में दिए गए पैटर्न को पूरा करेगी?



Directions (6-8): A series is given with one term missing. Select the correct alternative from the given ones that will complete the series.

एक श्रंखला दी गई है जिसमें एक टर्म अज्ञात है आपको दिए गए विकल्पों में से उस विकल्प का चयन करना है जो इस श्रंखला को पूरा करेगा?

Q6. A, B, D, G, ?

- (a) K
- (b) J
- (c) L
- (d) I

Q7. VWR, TUP, RSN, ?

- (a) PLQ
- (b) PQL
- (c) LPQ
- (d) PRM

Q8. 3, 10, 31, 94, ?

- (a) 197
- (b) 127
- (c) 283
- (d) 317

**RRB NTPC 2019**  
**PRIME PACKAGE**

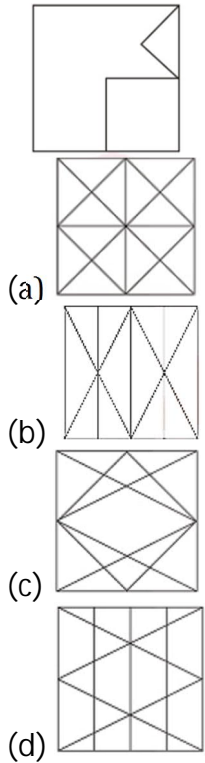
**100 + TOTAL TESTS**

- 40 Full Length Mocks
- 30 Section Wise Tests
- 10 Previous Years papers
- 20 + Topic Wise tests
- eBooks

BILINGUAL

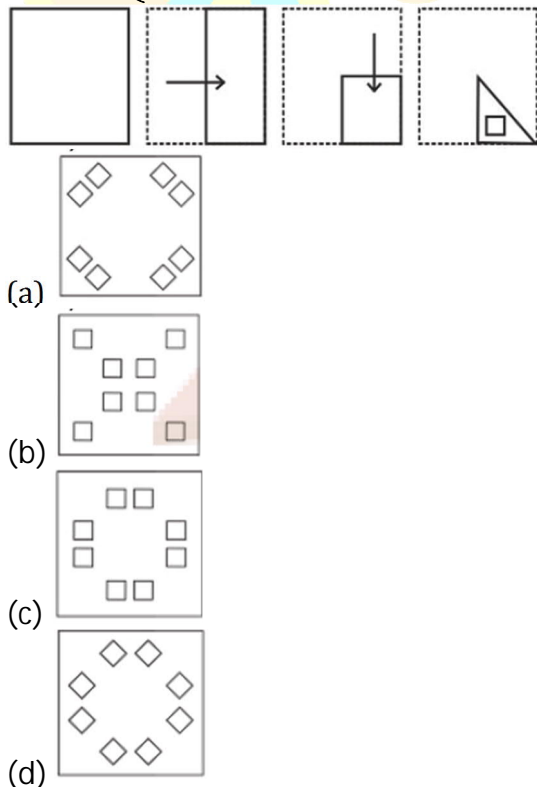
Q9. From the given answer figure, select the one in which the question figure is hidden/embedded.

दी गयी उत्तर आकृति से, उसका चयन कीजिए जिसमें प्रश्न आकृति छिपी/संकलित है?



Q10. A piece of paper is folded and punched as shown below in the question figures. From the given answer figures, indicate how it will appear when opened.

एक कागज़ के टुकड़े को मोड़ कर पंच किया गया जैसा कि नीचे दर्शाया गया है. नीचे दिए गये चित्रों से ज्ञात कीजिये कि खोले जाने पर यह किस प्रकार का दिखेगा.



Directions (11-13): Select the related words/ letters/ numbers from the given alternatives.

दिए गए विकल्पों में से सम्बंधित शब्दों/अक्षरों/ संख्याओं को चुनिए।

Q11. Oxygen : Burn :: Carbon dioxide : ?

ऑक्सीजन : बर्न :: कार्बन डाइऑक्साइड : ?

- (a) Isolate/ आइसोलेट
- (b) Gas/ गैस
- (c) Foam/ फोम
- (d) Extinguish/ इक्विंस्टग्विश

Q12. KML : NIQ :: CED : ?

- (a) EGF
- (b) GHJ
- (c) FAI
- (d) HGI

Q13. 786 : 897 :: 742 : ?

- (a) 853
- (b) 780
- (c) 822
- (d) 840

Q14. Find the odd numbers/letters/ words from the given alternatives.

दिए गये विकल्पों में से विषम संख्याओं/अक्षरों/ शब्दों को ज्ञात कीजिये।

- (a) C. K. Naydu Trophy/ सी. के. नायडू ट्रॉफी
- (b) Dhyanchand Trophy/ ध्यानचंद ट्रॉफी
- (c) Deodhar Trophy / देवधर ट्रॉफी
- (d) Ranji Trophy/ रणजी ट्रॉफी

Q15. Find the odd numbers/letters/ words from the given alternatives.

दिए गये विकल्पों में से विषम संख्याओं/अक्षरों/ शब्दों को ज्ञात कीजिये।

- (a) DGE
- (b) HKI
- (c) LON
- (d) KNL

Q16. Find the odd numbers/letters/ words from the given alternatives.

दिए गये विकल्पों में से विषम संख्याओं/अक्षरों/ शब्दों को ज्ञात कीजिये।

- (a) 14 - 32
- (b) 21 - 37
- (c) 43 - 59
- (d) 72 - 88


 <b>SSC MTS 2019 PAPER - I</b>
<b>Based on TCS Pattern</b>
<b>15 Full Length Mocks</b> BILINGUAL

Q17. M and F are a married couple A and B are sisters. F is the sister of A. Who is B to M?  
 M और F एक विवाहित युगल है तथा A और B बहनें हैं। F, A की बहन है। B का M से क्या सम्बंध है?

- (a) Sister/ बहन
- (b) Sister-in-law/ सिस्टर-इन-लॉ
- (c) Niece/ नीस
- (d) Daughter/ पुत्री

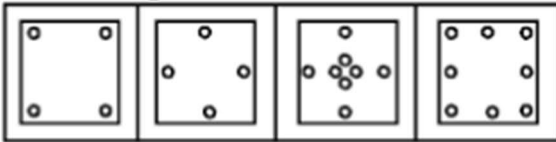
Q18. A square sheet of paper has been folded and punched as shown in the following series of figures. How will it appear when opened?

एक वर्गाकार कागज़ के टुकड़े को, नीचे दी गई प्रश्न आकृतियों की श्रृंखला में दर्शाए अनुसार मोड़ा गया और छिद्रित किया गया है। यह आकृति खोले जाने पर कैसी दिखाई देगी?

Question Figure:



Answer Figures:



- (a) a
- (b) b
- (c) c
- (d) d

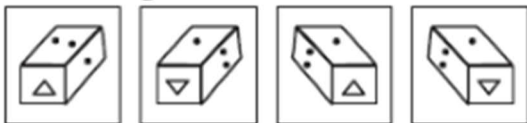
Q19. If a mirror is placed on the line MN, then which of the answer figures is the correct image of the given question figure?

यदि एक दर्पण को रेखा MN पर रखा जाये, तो दी गई उत्तर आकृतियों में से कौन सी आकृति प्रश्न आकृति का सही प्रतिबिम्ब होगी।

Question Figure:



Answer Figures:



- (a) a
- (b) b
- (c) c
- (d) d

**adda247**  
publications

**A COMPREHENSIVE**  
**GUIDE FOR**  
**RRB NTPC STAGE-1 & 2**  
Useful for Clerk | Level-1 | Ministerial & Isolated Categories and Other Exams  
(हिंदी माध्यम)

5000+

प्रश्न

15+

फुल लेंग्थ  
मॉक

सामान्य  
विज्ञान के  
500+

प्रश्न

टॉपिक के  
अनुसार  
प्रेक्टिस सेट

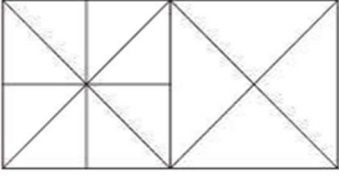
सभी खण्डों के बहु-वैकल्पिक प्रश्न

**adda247**  
A 100% of 1000000



Q20. How many triangles, there in the following figure?

निम्न आकृति में कितने त्रिभुज सन्निहित हैं?



- (a) 24
- (b) 26
- (c) 28
- (d) 30

Directions (21-24): In the following question, select the related word from the given alternatives.

निम्नलिखित प्रश्न में, दिय गए विकल्पों में से सम्बंधित शब्द का चयन करें.

Q21. Punjab : Bhangra :: Gujarat : ?

पंजाब : भंगड़ा :: गुजरात : ?

- (a) Bihu/बिहू
- (b) Garba/गरबा
- (c) Ghumar/घुमर
- (d) Kathak/कथक

Q22. Weak : Feeble :: Large : ?

कमजोर : शक्तिहीन :: बड़ा : ?

- (a) Strong/ बलवान
- (b) Insignificant/ तुच्छ
- (c) Colossal/ प्रकांड
- (d) Teeny/ नन्हा

Q23. INQV : JPTZ :: HNSG : ?

- (a) IPVK
- (b) PIVK
- (c) IPKV
- (d) IRVK

Q24. Arrange the given words in the sequence in which they occur in the dictionary.

दिए गए शब्दों को शब्दावली के अनुसार व्यवस्थित कीजिये.

1. Scrape
2. Scramble
3. Scream
4. Scornful
5. Scour

- (a) 12354
- (b) 35421
- (c) 51243
- (d) 45213

**RRB JE PRIME 2019**

**FIRST STAGE**

**TOTAL VACANCIES 13,487**

**55 + TOTAL TESTS**


- 15 Full Length Mocks
- 20 Section wise Practice Sets
- 20 Topic wise Tests

**BILINGUAL**

Q25. Vikram started from point R and walked straight 7 km west, then turned left and walked 2 km and again turned left and walked straight 4 km. In which direction is he from R?

विक्रम ने पॉइंट R से शुरू किया और सीधे 7 किमी पश्चिम की ओर चला, फिर बाएं मुड़ा और 2 किमी चला और फिर से बाएं मुड़कर सीधे 4 किमी चला। वह बिंदु R से किस दिशा में है?

- (a) North-East/उत्तर-पूर्व
- (b) South-West/दक्षिण-पश्चिम
- (c) South-East/दक्षिण-पूर्व
- (d) North-West/उत्तर-पश्चिम



sscadda.com